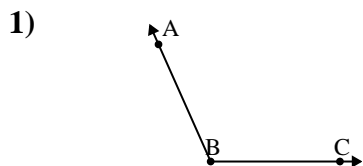




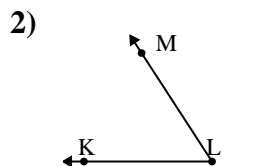
Resuelve cada problema.

**Respuestas**



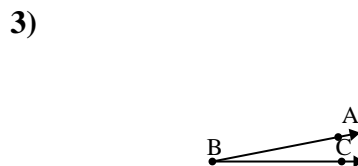
¿Que opción representa mejor  $\angle ABC$ ?

- A.  $162^\circ$
- B.  $91^\circ$
- C.  $20^\circ$
- D.  $114^\circ$



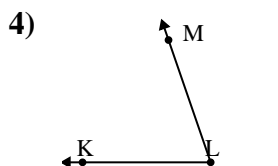
¿Que opción representa mejor  $\angle KLM$ ?

- A.  $5^\circ$
- B.  $57^\circ$
- C.  $142^\circ$
- D.  $28^\circ$



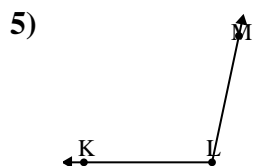
¿Que opción representa mejor  $\angle ABC$ ?

- A.  $79^\circ$
- B.  $125^\circ$
- C.  $11^\circ$
- D.  $157^\circ$



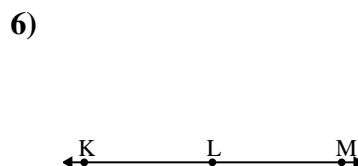
¿Que opción representa mejor  $\angle KLM$ ?

- A.  $111^\circ$
- B.  $46^\circ$
- C.  $71^\circ$
- D.  $156^\circ$



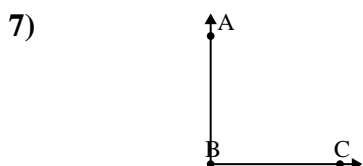
¿Que opción representa mejor  $\angle KLM$ ?

- A.  $102^\circ$
- B.  $170^\circ$
- C.  $73^\circ$
- D.  $31^\circ$



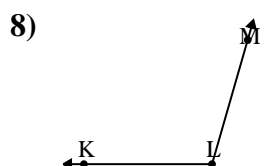
¿Que opción representa mejor  $\angle KLM$ ?

- A.  $141^\circ$
- B.  $13^\circ$
- C.  $70^\circ$
- D.  $180^\circ$



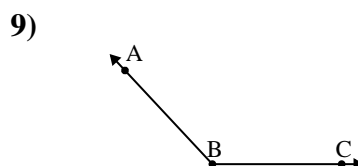
¿Que opción representa mejor  $\angle ABC$ ?

- A.  $178^\circ$
- B.  $132^\circ$
- C.  $56^\circ$
- D.  $90^\circ$



¿Que opción representa mejor  $\angle KLM$ ?

- A.  $106^\circ$
- B.  $153^\circ$
- C.  $35^\circ$
- D.  $176^\circ$



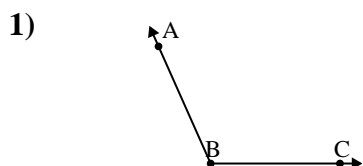
¿Que opción representa mejor  $\angle ABC$ ?

- A.  $165^\circ$
- B.  $133^\circ$
- C.  $19^\circ$
- D.  $40^\circ$

1. \_\_\_\_\_
2. \_\_\_\_\_
3. \_\_\_\_\_
4. \_\_\_\_\_
5. \_\_\_\_\_
6. \_\_\_\_\_
7. \_\_\_\_\_
8. \_\_\_\_\_
9. \_\_\_\_\_

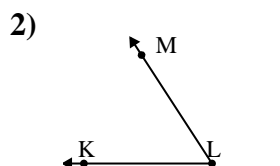


Resuelve cada problema.



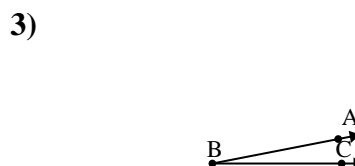
¿Que opción representa mejor  $\angle ABC$ ?

A.  $162^\circ$   
 B.  $91^\circ$   
 C.  $20^\circ$   
 D.  $114^\circ$



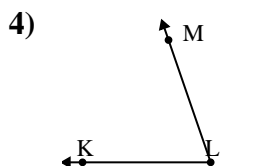
¿Que opción representa mejor  $\angle KLM$ ?

A.  $5^\circ$   
 B.  $57^\circ$   
 C.  $142^\circ$   
 D.  $28^\circ$



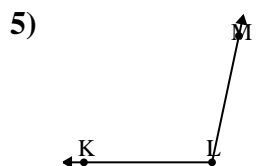
¿Que opción representa mejor  $\angle ABC$ ?

A.  $79^\circ$   
 B.  $125^\circ$   
 C.  $11^\circ$   
 D.  $157^\circ$



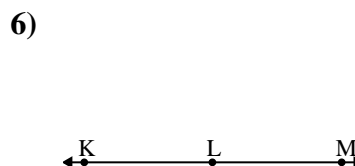
¿Que opción representa mejor  $\angle KLM$ ?

A.  $111^\circ$   
 B.  $46^\circ$   
 C.  $71^\circ$   
 D.  $156^\circ$



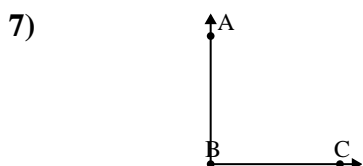
¿Que opción representa mejor  $\angle KLM$ ?

A.  $102^\circ$   
 B.  $170^\circ$   
 C.  $73^\circ$   
 D.  $31^\circ$



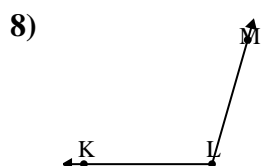
¿Que opción representa mejor  $\angle KLM$ ?

A.  $141^\circ$   
 B.  $13^\circ$   
 C.  $70^\circ$   
 D.  $180^\circ$



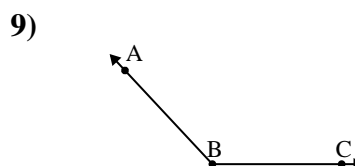
¿Que opción representa mejor  $\angle ABC$ ?

A.  $178^\circ$   
 B.  $132^\circ$   
 C.  $56^\circ$   
 D.  $90^\circ$



¿Que opción representa mejor  $\angle KLM$ ?

A.  $106^\circ$   
 B.  $153^\circ$   
 C.  $35^\circ$   
 D.  $176^\circ$



¿Que opción representa mejor  $\angle ABC$ ?

A.  $165^\circ$   
 B.  $133^\circ$   
 C.  $19^\circ$   
 D.  $40^\circ$

**Respuestas**

1. **D**
2. **B**
3. **C**
4. **C**
5. **A**
6. **D**
7. **D**
8. **A**
9. **B**