

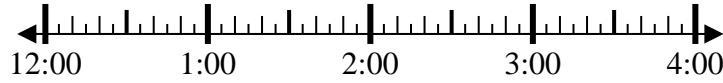


Resuelve cada problema.

1) Inicio: 12:15

Transcurrido: 1 hr y 35 mins

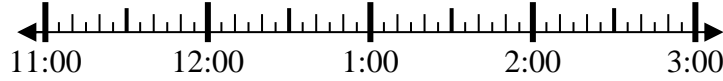
Final: _____



2) Inicio: 11:30

Transcurrido: 1 hr y 25 mins

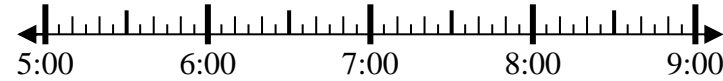
Final: _____



3) Inicio: 5:10

Transcurrido: 1 hr y 35 mins

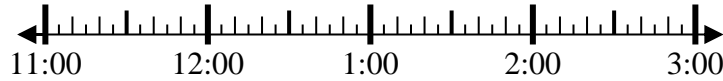
Final: _____



4) Inicio: 11:00

Transcurrido: 1 hr y 10 mins

Final: _____



5) Inicio: 12:30

Transcurrido: 1 hr y 10 mins

Final: _____



6) Inicio: 12:40

Transcurrido: 1 hr y 25 mins

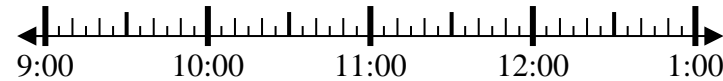
Final: _____



7) Inicio: 9:40

Transcurrido: 1 hr y 50 mins

Final: _____



8) Inicio: 1:35

Transcurrido: 2 hrs y 45 mins

Final: _____



Respuestas

1. _____

2. _____

3. _____

4. _____

5. _____

6. _____

7. _____

8. _____



Resuelve cada problema.

1) Inicio: 12:15

Transcurrido: 1 hr y 35 mins

Final: 1:50

2) Inicio: 11:30

Transcurrido: 1 hr y 25 mins

Final: 12:55

3) Inicio: 5:10

Transcurrido: 1 hr y 35 mins

Final: 6:45

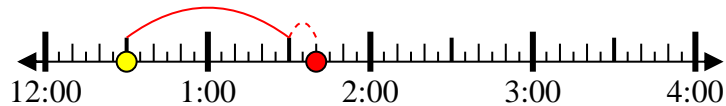
4) Inicio: 11:00

Transcurrido: 1 hr y 10 mins

Final: 12:10

5) Inicio: 12:30

Transcurrido: 1 hr y 10 mins

Final: 1:40

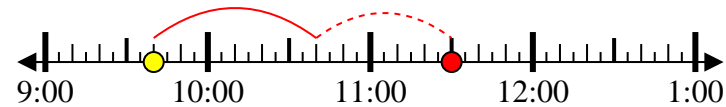
6) Inicio: 12:40

Transcurrido: 1 hr y 25 mins

Final: 2:05

7) Inicio: 9:40

Transcurrido: 1 hr y 50 mins

Final: 11:30

8) Inicio: 1:35

Transcurrido: 2 hrs y 45 mins

Final: 4:20**Respuestas**1. 1:502. 12:553. 6:454. 12:105. 1:406. 2:057. 11:308. 4:20