

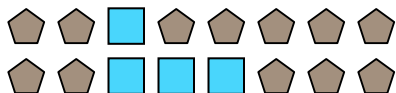


Resuelve cada problema.


Ej) ¿Cuál es la relación de moons a hearts?



2) ¿Cuál es la relación de cuadros a pentagonos?



4) ¿Cuál es la relación de estrellas a circulos?



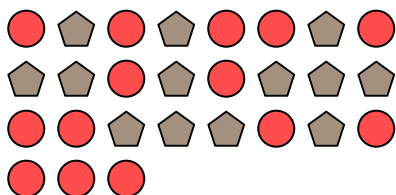
6) ¿Cuál es la relación de moons a triangulos?



8) ¿Cuál es la relación de estrellas a hearts?




10) ¿Cuál es la relación de circulos a pentagonos?




1) ¿Cuál es la relación de estrellas a hearts?



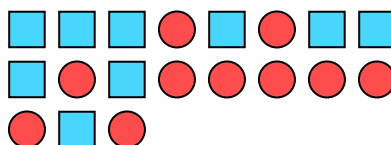
3) ¿Cuál es la relación de hearts a cuadros?




5) ¿Cuál es la relación de hearts a moons?




7) ¿Cuál es la relación de cuadros a circulos?



9) ¿Cuál es la relación de triangulos a hearts?



11) ¿Cuál es la relación de estrellas a cuadros?



Respuestas

Ej. 15:7

1. 3:10

2. 4:12

3. 6:3

4. 2:15

5. 9:10

6. 4:8

7. 9:10

8. 2:8

9. 6:5

10. 14:13

11. 7:10