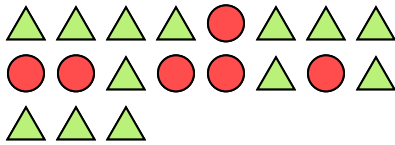





Resuelve cada problema.

Ej) ¿Cuál es la razón de círculos a triángulos?



2) ¿Cuál es la razón de moons a triángulos?



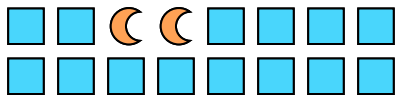
4) ¿Cuál es la razón de estrellas a hearts?



6) ¿Cuál es la razón de estrellas a moons?



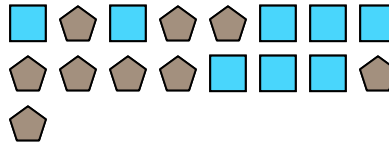
8) ¿Cuál es la razón de cuadros a moons?




10) ¿Cuál es la razón de estrellas a pentagons?



1) ¿Cuál es la razón de cuadros a pentagons?



3) ¿Cuál es la razón de moons a cuadros?




5) ¿Cuál es la razón de moons a estrellas?




7) ¿Cuál es la razón de estrellas a hearts?



9) ¿Cuál es la razón de estrellas a cuadros?



11) ¿Cuál es la razón de moons a pentagons?

**Respuestas**Ej. **6:13**1. **8:9**2. **9:13**3. **12:6**4. **12:9**5. **5:4**6. **9:15**7. **11:8**8. **14:2**9. **14:14**10. **6:4**11. **13:11**