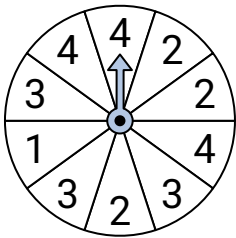




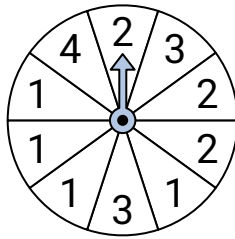
Resuelve cada problema.

Respuestas

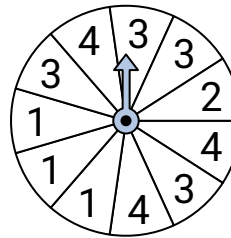
- 1) ¿Qué número es el menos probable en la ruleta?



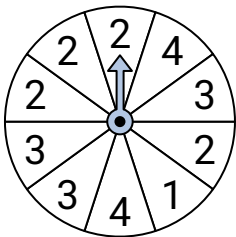
- 2) ¿Qué número es el más probable en la ruleta?



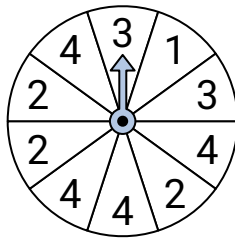
- 3) ¿Qué número es el menos probable en la ruleta?



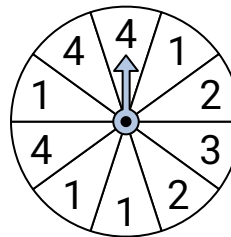
- 4) ¿Qué número es el menos probable en la ruleta?



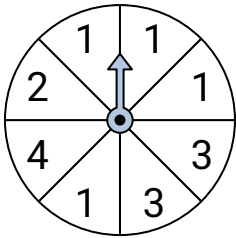
- 5) ¿Qué número es el más probable en la ruleta?



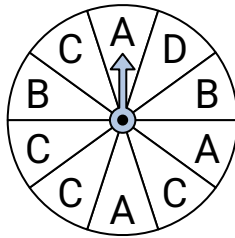
- 6) ¿Qué número es el menos probable en la ruleta?



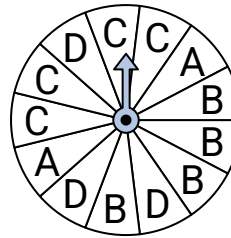
- 7) ¿Qué número es el más probable en la ruleta?



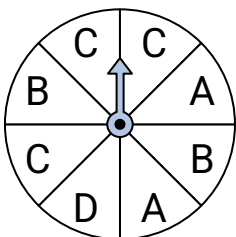
- 8) ¿Qué letra es la más probable en la ruleta?



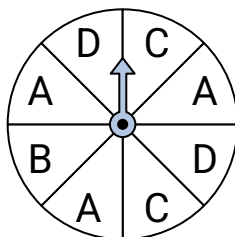
- 9) ¿Qué letra es la menos probable en la ruleta?



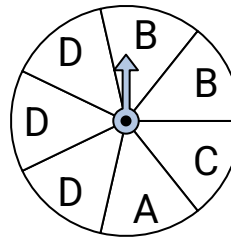
- 10) ¿Qué dos letras tienen la misma probabilidad en la ruleta?



- 11) ¿Qué dos letras tienen la misma probabilidad en la ruleta?



- 12) ¿Qué letra es la más probable en la ruleta?



1. _____

2. _____

3. _____

4. _____

5. _____

6. _____

7. _____

8. _____

9. _____

10. _____

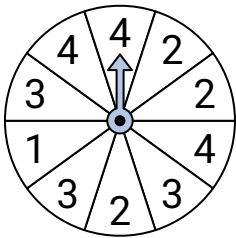
11. _____

12. _____

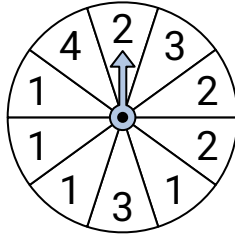


Resuelve cada problema.

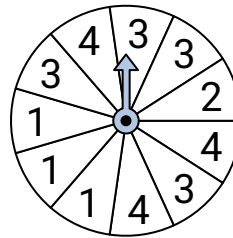
- 1) ¿Qué número es el menos probable en la ruleta?



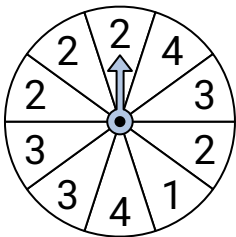
- 2) ¿Qué número es el más probable en la ruleta?



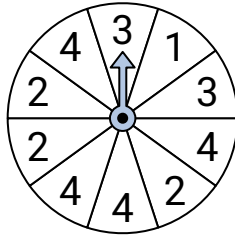
- 3) ¿Qué número es el menos probable en la ruleta?



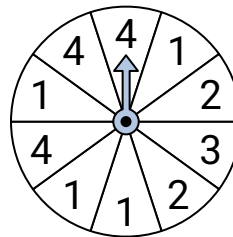
- 4) ¿Qué número es el menos probable en la ruleta?



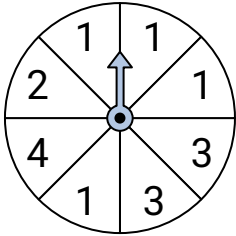
- 5) ¿Qué número es el más probable en la ruleta?



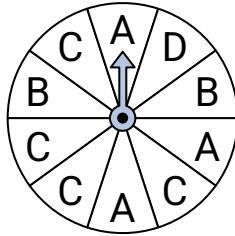
- 6) ¿Qué número es el menos probable en la ruleta?



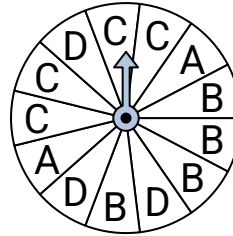
- 7) ¿Qué número es el más probable en la ruleta?



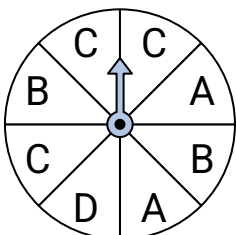
- 8) ¿Qué letra es la más probable en la ruleta?



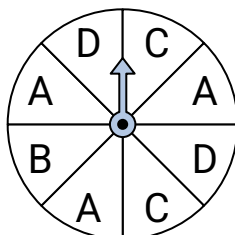
- 9) ¿Qué letra es la menos probable en la ruleta?



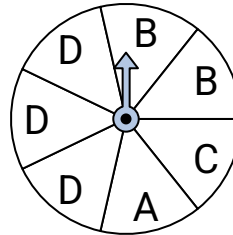
- 10) ¿Qué dos letras tienen la misma probabilidad en la ruleta?



- 11) ¿Qué dos letras tienen la misma probabilidad en la ruleta?



- 12) ¿Qué letra es la más probable en la ruleta?

**Respuestas**

1. **1**
2. **1**
3. **2**
4. **1**
5. **4**
6. **3**
7. **1**
8. **C**
9. **A**
10. **A & B**
11. **C & D**
12. **D**