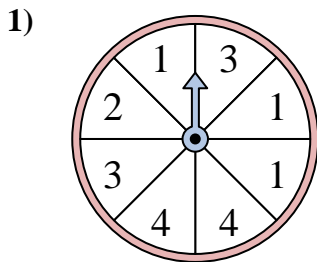


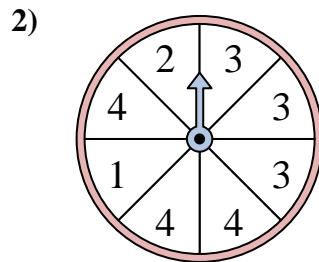


Resuelve cada problema. Redondea tu respuesta a la décima más cercana.

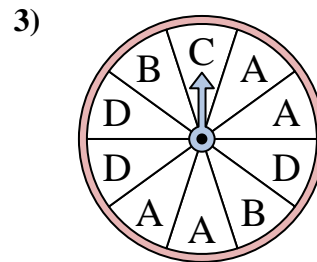
Respuestas



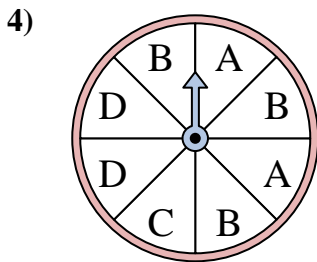
La ruleta tiene un% {EN} {BLANCO} de posibilidades de aterrizar en un 3.



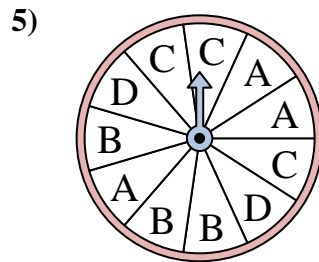
La ruleta tiene un% {EN} {BLANCO} de posibilidades de aterrizar en un 3.



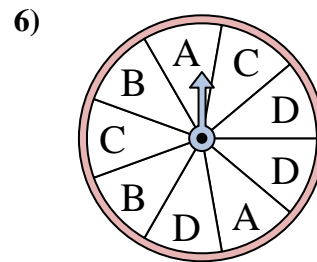
La ruleta tiene un% {EN} {BLANCO} de posibilidades de aterrizar en un B.



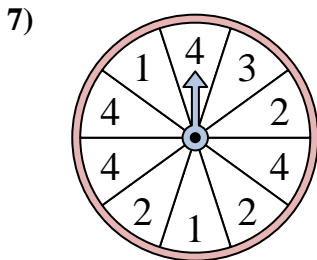
La ruleta tiene un% {EN} {BLANCO} de posibilidades de aterrizar en un C.



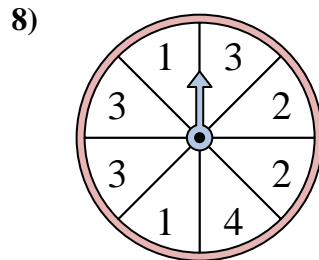
La ruleta tiene un% {EN} {BLANCO} de posibilidades de aterrizar en un D.



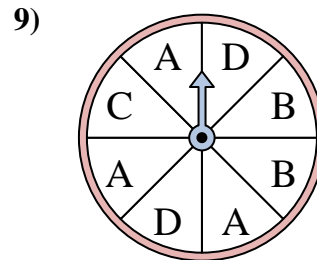
La ruleta tiene un% {EN} {BLANCO} de posibilidades de aterrizar en un C.



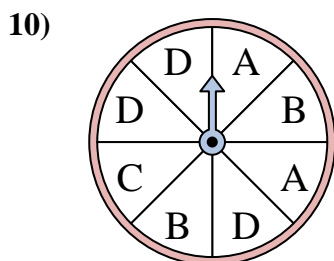
La ruleta tiene un% {EN} {BLANCO} de posibilidades de aterrizar en un 1.



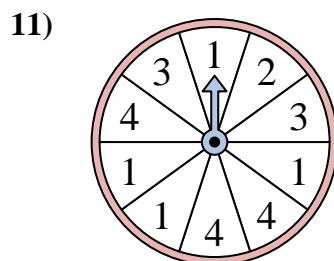
La ruleta tiene un% {EN} {BLANCO} de posibilidades de aterrizar en un 3.



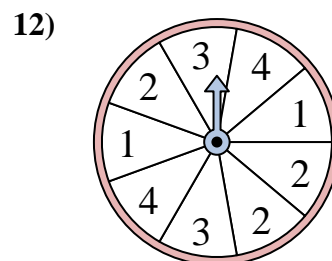
La ruleta tiene un% {EN} {BLANCO} de posibilidades de aterrizar en un B.



La ruleta tiene un% {EN} {BLANCO} de posibilidades de aterrizar en un B.



La ruleta tiene un% {EN} {BLANCO} de posibilidades de aterrizar en un 3.



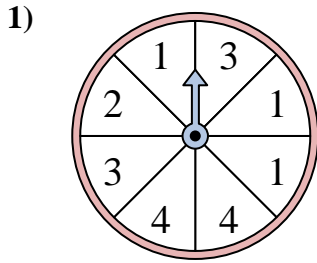
La ruleta tiene un% {EN} {BLANCO} de posibilidades de aterrizar en un 1.

1. _____
2. _____
3. _____
4. _____
5. _____
6. _____
7. _____
8. _____
9. _____
10. _____
11. _____
12. _____

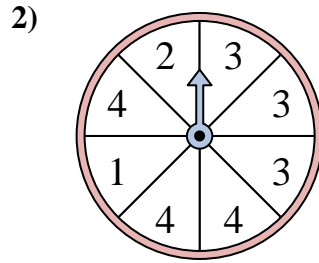


Resuelve cada problema. Redondea tu respuesta a la décima más cercana.

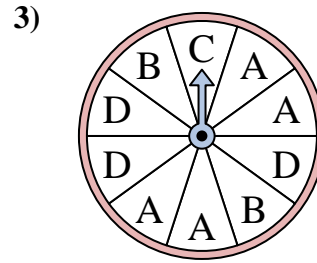
Respuestas



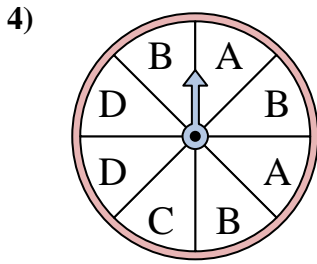
La ruleta tiene un% {EN} {BLANCO} de posibilidades de aterrizar en un 3.



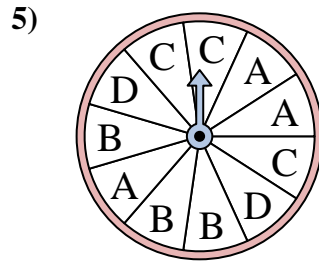
La ruleta tiene un% {EN} {BLANCO} de posibilidades de aterrizar en un 3.



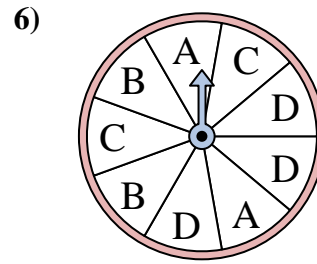
La ruleta tiene un% {EN} {BLANCO} de posibilidades de aterrizar en un B.



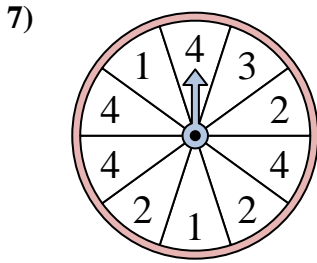
La ruleta tiene un% {EN} {BLANCO} de posibilidades de aterrizar en un C.



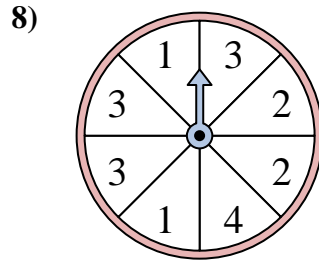
La ruleta tiene un% {EN} {BLANCO} de posibilidades de aterrizar en un D.



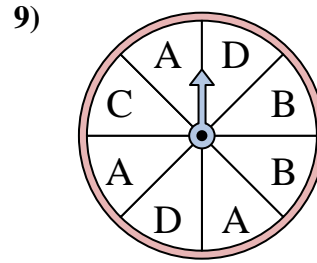
La ruleta tiene un% {EN} {BLANCO} de posibilidades de aterrizar en un C.



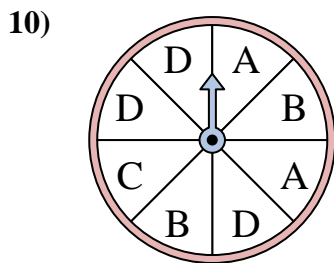
La ruleta tiene un% {EN} {BLANCO} de posibilidades de aterrizar en un 1.



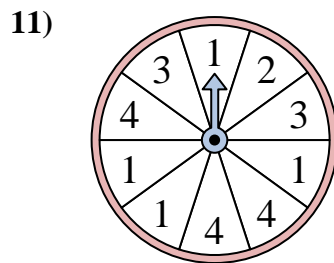
La ruleta tiene un% {EN} {BLANCO} de posibilidades de aterrizar en un 3.



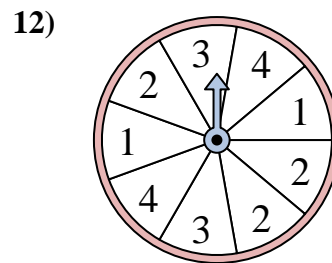
La ruleta tiene un% {EN} {BLANCO} de posibilidades de aterrizar en un B.



La ruleta tiene un% {EN} {BLANCO} de posibilidades de aterrizar en un B.



La ruleta tiene un% {EN} {BLANCO} de posibilidades de aterrizar en un 3.



La ruleta tiene un% {EN} {BLANCO} de posibilidades de aterrizar en un 1.

1. 25
2. 37.5
3. 20
4. 12.5
5. 18.2
6. 22.2
7. 20
8. 37.5
9. 25
10. 25
11. 20
12. 22.2