



Determinar que letra completa mejor el patrón.

Respuestas

1) *Determinar que letra completa mejor el patrón.*



- A.
- B.
- C.
- D.

2) *Determinar que letra completa mejor el patrón.*




- A.
- B.
- C.
- D.

3) *Determinar que letra completa mejor el patrón.*



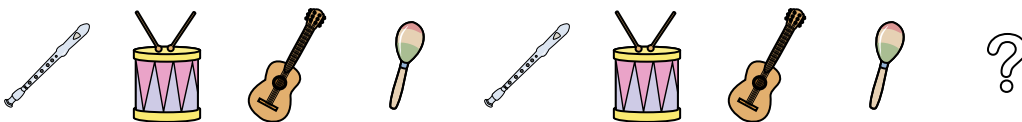
- A.
- B.
- C.
- D.

4) *Determinar que letra completa mejor el patrón.*



- A.
- B.
- C.
- D.

5) *Determinar que letra completa mejor el patrón.*



- A.
- B.
- C.
- D.

1. _____

2. _____

3. _____

4. _____

5. _____



Determinar que letra completa mejor el patrón.

1) Determinar que letra completa mejor el patrón.



- A.
- B.
- C.
- D.

2) Determinar que letra completa mejor el patrón.




- A.
- B.
- C.
- D.

3) Determinar que letra completa mejor el patrón.



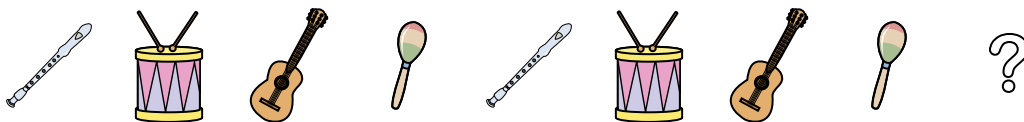
- A.
- B.
- C.
- D.

4) Determinar que letra completa mejor el patrón.



- A.
- B.
- C.
- D.

5) Determinar que letra completa mejor el patrón.



- A.
- B.
- C.
- D.

Respuestas

1. **D**

2. **D**

3. **D**

4. **B**

5. **D**