



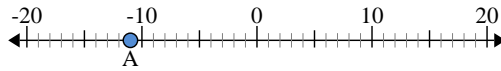
Usar las rectas numéricas para encontrar el valor absoluto.

1) a. ¿Cuál es el valor de 'A'?



b. ¿Qué tan lejos está 'A' de 0 (valor absoluto)?

2) a. ¿Cuál es el valor de 'A'?



b. ¿Qué tan lejos está 'A' de 0 (valor absoluto)?

3) a. ¿Cuál es el valor de 'A'?



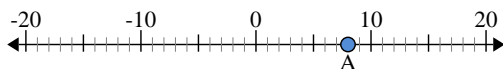
Respuestas

1. _____
2. _____
3. _____
4. _____
5. _____
6. _____
7. _____
8. _____
9. _____
10. _____



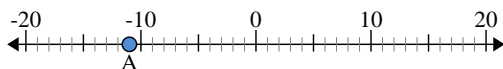
Usar las rectas numéricas para encontrar el valor absoluto.

1) a. ¿Cuál es el valor de 'A'?



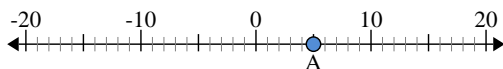
b. ¿Qué tan lejos está 'A' de 0 (valor absoluto)?

2) a. ¿Cuál es el valor de 'A'?



b. ¿Qué tan lejos está 'A' de 0 (valor absoluto)?

3) a. ¿Cuál es el valor de 'A'?



Respuestas

1. 8 8

2. -11 11

3. 5 5

4. -17 17

5. 13 13

6. 0 0

7. -9 9

8. 2 2

9. -20 20

10. 19 19