




Resuelve cada problema.


**Respuestas**

1) ¿Qué letra representa mejor -29




1. \_\_\_\_\_

2) ¿Qué letra representa mejor -120




2. \_\_\_\_\_

3) ¿Qué letra representa mejor -118



3. \_\_\_\_\_

4) ¿Qué letra representa mejor -14



4. \_\_\_\_\_

5) ¿Qué letra representa mejor -109



5. \_\_\_\_\_

6) ¿Qué letra representa mejor -28




6. \_\_\_\_\_

7) ¿Qué letra representa mejor -21




7. \_\_\_\_\_

8) ¿Qué letra representa mejor -14




8. \_\_\_\_\_

9) ¿Qué letra representa mejor -13



9. \_\_\_\_\_

10) ¿Qué letra representa mejor -114



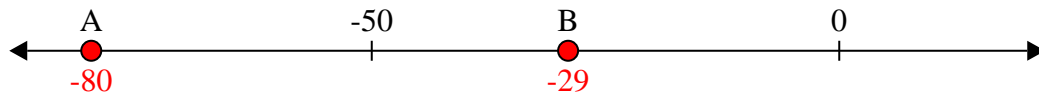
10. \_\_\_\_\_



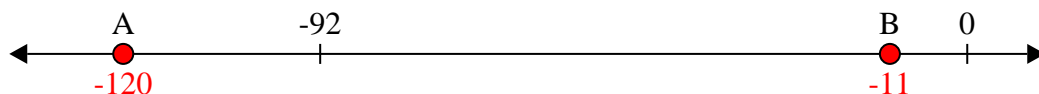
Resuelve cada problema.

**Respuestas**


1) ¿Qué letra representa mejor -29

1.     **B**    


2) ¿Qué letra representa mejor -120

2.     **A**    


3) ¿Qué letra representa mejor -118

3.     **A**    


4) ¿Qué letra representa mejor -14

4.     **B**    


5) ¿Qué letra representa mejor -109

5.     **A**    


6) ¿Qué letra representa mejor -28

6.     **B**    


7) ¿Qué letra representa mejor -21

7.     **B**    


8) ¿Qué letra representa mejor -14

8.     **B**    

9) ¿Qué letra representa mejor -13

9.     **B**    

10) ¿Qué letra representa mejor -114

10.     **A**