




Resuelve cada problema.


**Respuestas**

1) ¿Qué letra representa mejor -37



1. \_\_\_\_\_

2) ¿Qué letra representa mejor -113




2. \_\_\_\_\_

3) ¿Qué letra representa mejor -97



3. \_\_\_\_\_

4) ¿Qué letra representa mejor -80



4. \_\_\_\_\_

5) ¿Qué letra representa mejor -40



5. \_\_\_\_\_

6) ¿Qué letra representa mejor -101




6. \_\_\_\_\_

7) ¿Qué letra representa mejor -22




7. \_\_\_\_\_

8) ¿Qué letra representa mejor -105




8. \_\_\_\_\_

9) ¿Qué letra representa mejor -115



9. \_\_\_\_\_

10) ¿Qué letra representa mejor -97



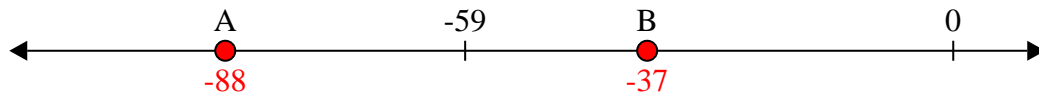
10. \_\_\_\_\_



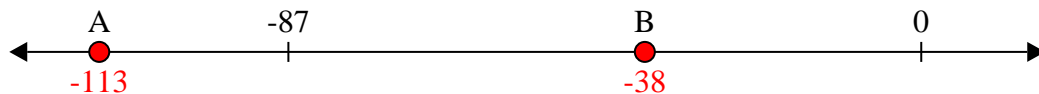
Resuelve cada problema.

**Respuestas**

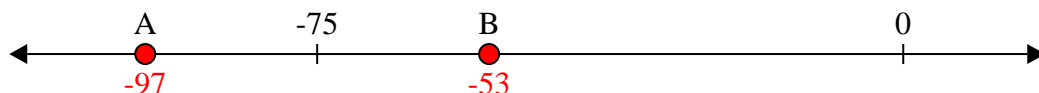
1) ¿Qué letra representa mejor -37

1.     **B**    


2) ¿Qué letra representa mejor -113

2.     **A**    


3) ¿Qué letra representa mejor -97

3.     **A**    


4) ¿Qué letra representa mejor -80

4.     **A**    


5) ¿Qué letra representa mejor -40

5.     **B**    


6) ¿Qué letra representa mejor -101

6.     **A**    


7) ¿Qué letra representa mejor -22

7.     **B**    


8) ¿Qué letra representa mejor -105

8.     **A**    

9) ¿Qué letra representa mejor -115

9.     **A**    

10) ¿Qué letra representa mejor -97

10.     **A**