




Resuelve cada problema.


Respuestas

1) ¿Qué letra muestra mejor -17?




1. _____

2) ¿Qué letra muestra mejor -29?




2. _____

3) ¿Qué letra muestra mejor -25?




3. _____

4) ¿Qué letra muestra mejor -110?




4. _____

5) ¿Qué letra muestra mejor -21?




5. _____

6) ¿Qué letra muestra mejor -42?




6. _____

7) ¿Qué letra muestra mejor -31?




7. _____

8) ¿Qué letra muestra mejor -49?



8. _____

9) ¿Qué letra muestra mejor -94?



9. _____

10) ¿Qué letra muestra mejor -40?




10. _____




Resuelve cada problema.

Respuestas


1) ¿Qué letra muestra mejor -17?

1. **B**


2) ¿Qué letra muestra mejor -29?

2. **B**


3) ¿Qué letra muestra mejor -25?

3. **B**


4) ¿Qué letra muestra mejor -110?

4. **A**


5) ¿Qué letra muestra mejor -21?

5. **B**


6) ¿Qué letra muestra mejor -42?

6. **B**


7) ¿Qué letra muestra mejor -31?

7. **B**


8) ¿Qué letra muestra mejor -49?

8. **B**

9) ¿Qué letra muestra mejor -94?

9. **A**

10) ¿Qué letra muestra mejor -40?

10. **B**