



Determina cuál letra mejor representa la longitud/altura.

Respuestas

Milímetro (mm)

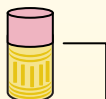
Un milímetro equivale al grosor de una tarjeta de crédito.



Centímetro (cm)

10 mm = 1 cm.

La parte metálica de un lápiz mide aproximadamente 1 cm. Una regla mide unos 30 centímetros.



Metro (m)

100 cm = 1 m

Desde el suelo hasta la perilla de una puerta hay aproximadamente 1 metro.



Kilómetro (km)

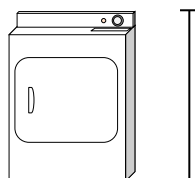
1,000 m = 1 km

La mayoría de las carreteras principales tienen al menos un kilómetro de largo.



1. _____
2. _____
3. _____
4. _____
5. _____
6. _____
7. _____
8. _____
9. _____

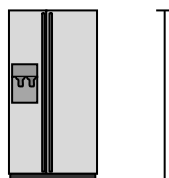
1)



Secadora de ropa

- A. 60 Centímetros
- B. 15 Centímetros
- C. 25 Centímetros
- D. 1 Metro

2)



Refrigerador

- A. 180 Centímetros
- B. 4 Metros
- C. 30 Centímetros
- D. 5 Kilómetros


3)



Pelota de tenis

- A. 3 Milímetros
- B. 60 Centímetros
- C. 8 Centímetros
- D. 25 Centímetros

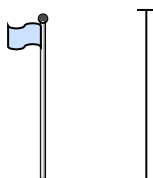
4)



Caballo adulto

- A. 25 Milímetros
- B. 30 Centímetros
- C. 90 Centímetros
- D. 2 Metros

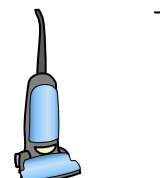
5)



Asta de bandera

- A. 2 Kilómetros
- B. 2 Metros
- C. 300 Centímetros
- D. 9 Metros


6)



Aspiradora

- A. 30 Centímetros
- B. 3 Metros
- C. 120 Centímetros
- D. 35 Centímetros

7)



Coche

- A. 150 Centímetros
- B. 90 Centímetros
- C. 5 Metros
- D. 20 Centímetros


8)



Insecto

- A. 30 Centímetros
- B. 10 Centímetros
- C. 5 Centímetros
- D. 7 Milímetros

9)



Altura de la manzana

- A. 1 Metro
- B. 10 Centímetros
- C. 3 Centímetros
- D. 60 Centímetros



Determina cuál letra mejor representa la longitud/altura.

Respuestas

Milímetro (mm)

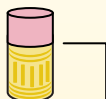
Un milímetro equivale al grosor de una tarjeta de crédito.



Centímetro (cm)

10 mm = 1 cm.

La parte metálica de un lápiz mide aproximadamente 1 cm. Una regla mide unos 30 centímetros.



Metro (m)

100 cm = 1 m

Desde el suelo hasta la perilla de una puerta hay aproximadamente 1 metro.



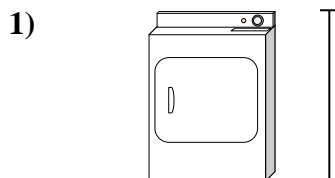
Kilómetro (km)

1,000 m = 1 km

La mayoría de las carreteras principales tienen al menos un kilómetro de largo.

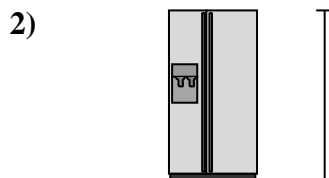


1. **D**
2. **A**
3. **C**
4. **D**
5. **D**
6. **C**
7. **A**
8. **D**
9. **B**




Secadora de ropa

- A. 60 Centímetros
- B. 15 Centímetros
- C. 25 Centímetros
- D. 1 Metro




Refrigerador

- A. 180 Centímetros
- B. 4 Metros
- C. 30 Centímetros
- D. 5 Kilómetros



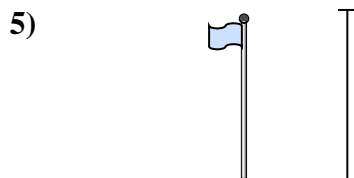
Pelota de tenis

- A. 3 Milímetros
- B. 60 Centímetros
- C. 8 Centímetros
- D. 25 Centímetros



Caballo adulto

- A. 25 Milímetros
- B. 30 Centímetros
- C. 90 Centímetros
- D. 2 Metros




Asta de bandera

- A. 2 Kilómetros
- B. 2 Metros
- C. 300 Centímetros
- D. 9 Metros



Aspiradora

- A. 30 Centímetros
- B. 3 Metros
- C. 120 Centímetros
- D. 35 Centímetros



Coche

- A. 150 Centímetros
- B. 90 Centímetros
- C. 5 Metros
- D. 20 Centímetros



Insecto

- A. 30 Centímetros
- B. 10 Centímetros
- C. 5 Centímetros
- D. 7 Milímetros



Altura de la manzana

- A. 1 Metro
- B. 10 Centímetros
- C. 3 Centímetros
- D. 60 Centímetros