



Medir el ancho de cada bloque en pulgadas y en centímetros.



**Respuestas**

Ej. 2 1/2 6 - 7

1. \_\_\_\_\_

2. \_\_\_\_\_

3. \_\_\_\_\_

4. \_\_\_\_\_

5. \_\_\_\_\_

6. \_\_\_\_\_


7. \_\_\_\_\_

8. \_\_\_\_\_

9. \_\_\_\_\_



Medir el ancho de cada bloque en pulgadas y en centímetros.



**Respuestas**

Ej. 2 1/2 6 - 7

1. 4 1/2 11 - 12

2. 3 7 - 8

3. 5 12 - 13

4. 2 5 - 6

5. 3 1/2 8 - 9

6. 5 1/2 13 - 14

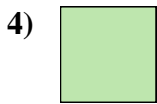

7. 0 1/2 1 - 2

8. 1 2 - 3

9. 4 10 - 11



Medir el ancho de cada bloque en pulgadas y en centímetros.



**Respuestas**

Ej. 1 2-3

1. \_\_\_\_\_

2. \_\_\_\_\_

3. \_\_\_\_\_

4. \_\_\_\_\_

5. \_\_\_\_\_

6. \_\_\_\_\_

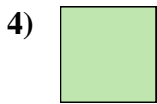

7. \_\_\_\_\_

8. \_\_\_\_\_

9. \_\_\_\_\_



Medir el ancho de cada bloque en pulgadas y en centímetros.



**Respuestas**

Ej. 1    2 - 3

1. 1 1/2    3 - 4

2. 5    12 - 13

3. 5 1/2    13 - 14

4. 0 1/2    1 - 2

5. 3    7 - 8

6. 2    5 - 6



7. 4    10 - 11

8. 4 1/2    11 - 12

9. 3 1/2    8 - 9



Medir el ancho de cada bloque en pulgadas y en centímetros.



**Respuestas**

Ej. 4 1/2 11 - 12

1. \_\_\_\_\_

2. \_\_\_\_\_

3. \_\_\_\_\_

4. \_\_\_\_\_

5. \_\_\_\_\_

6. \_\_\_\_\_

7. \_\_\_\_\_

8. \_\_\_\_\_

9. \_\_\_\_\_



Medir el ancho de cada bloque en pulgadas y en centímetros.



**Respuestas**

Ej. 4 1/2    11 - 12

1. 5 1/2    13 - 14

2. 1    2 - 3

3. 1 1/2    3 - 4

4. 4    10 - 11

5. 2    5 - 6

6. 2 1/2    6 - 7

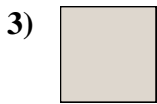
7. 3    7 - 8

8. 0 1/2    1 - 2

9. 5    12 - 13



Medir el ancho de cada bloque en pulgadas y en centímetros.



**Respuestas**

Ej. 3 7-8

1. \_\_\_\_\_

2. \_\_\_\_\_

3. \_\_\_\_\_

4. \_\_\_\_\_

5. \_\_\_\_\_

6. \_\_\_\_\_

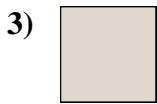
7. \_\_\_\_\_

8. \_\_\_\_\_

9. \_\_\_\_\_



Medir el ancho de cada bloque en pulgadas y en centímetros.



**Respuestas**

Ej. 3    7 - 8

1. 5    12 - 13

2. 1 1/2    3 - 4

3. 0 1/2    1 - 2

4. 4 1/2    11 - 12

5. 3 1/2    8 - 9

6. 2 1/2    6 - 7

7. 5 1/2    13 - 14

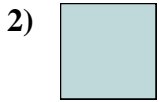
8. 2    5 - 6

9. 4    10 - 11





Medir el ancho de cada bloque en pulgadas y en centímetros.



**Respuestas**

Ej. 3 7-8

1. \_\_\_\_\_

2. \_\_\_\_\_

3. \_\_\_\_\_

4. \_\_\_\_\_

5. \_\_\_\_\_

6. \_\_\_\_\_

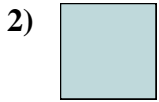
7. \_\_\_\_\_

8. \_\_\_\_\_

9. \_\_\_\_\_



Medir el ancho de cada bloque en pulgadas y en centímetros.



**Respuestas**

Ej. 3    7 - 8

1. 1 1/2    3 - 4

2. 0 1/2    1 - 2

3. 5 1/2    13 - 14

4. 1    2 - 3

5. 4 1/2    11 - 12

6. 4    10 - 11


7. 5    12 - 13

8. 2    5 - 6

9. 2 1/2    6 - 7



Medir el ancho de cada bloque en pulgadas y en centímetros.



**Respuestas**

Ej. 5 1/2 13 - 14

1. \_\_\_\_\_

2. \_\_\_\_\_

3. \_\_\_\_\_

4. \_\_\_\_\_

5. \_\_\_\_\_

6. \_\_\_\_\_


7. \_\_\_\_\_

8. \_\_\_\_\_

9. \_\_\_\_\_



Medir el ancho de cada bloque en pulgadas y en centímetros.



**Respuestas**

Ej. 5 1/2 13 - 14

1. 3 1/2 8 - 9

2. 4 10 - 11

3. 5 12 - 13

4. 1 2 - 3

5. 3 7 - 8

6. 0 1/2 1 - 2

7. 1 1/2 3 - 4

8. 2 5 - 6

9. 4 1/2 11 - 12



Medir el ancho de cada bloque en pulgadas y en centímetros.



**Respuestas**

Ej. 4 10 - 11

1. \_\_\_\_\_

2. \_\_\_\_\_

3. \_\_\_\_\_

4. \_\_\_\_\_

5. \_\_\_\_\_

6. \_\_\_\_\_

7. \_\_\_\_\_

8. \_\_\_\_\_

9. \_\_\_\_\_



Medir el ancho de cada bloque en pulgadas y en centímetros.



**Respuestas**

Ej. 4    10 - 11

1. 0 1/2    1 - 2

2. 1 1/2    3 - 4

3. 5 1/2    13 - 14

4. 3    7 - 8

5. 2 1/2    6 - 7

6. 1    2 - 3

7. 2    5 - 6

8. 4 1/2    11 - 12

9. 3 1/2    8 - 9



Medir el ancho de cada bloque en pulgadas y en centímetros.



**Respuestas**

Ej. 3 1/2 8 - 9

1. \_\_\_\_\_

2. \_\_\_\_\_

3. \_\_\_\_\_

4. \_\_\_\_\_

5. \_\_\_\_\_

6. \_\_\_\_\_

7. \_\_\_\_\_

8. \_\_\_\_\_

9. \_\_\_\_\_



Medir el ancho de cada bloque en pulgadas y en centímetros.



**Respuestas**

Ej. 3 1/2    8 - 9

1. 1    2 - 3

2. 1 1/2    3 - 4

3. 5 1/2    13 - 14

4. 5    12 - 13

5. 2    5 - 6

6. 3    7 - 8

7. 4 1/2    11 - 12

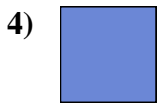
8. 2 1/2    6 - 7

9. 0 1/2    1 - 2





Medir el ancho de cada bloque en pulgadas y en centímetros.



**Respuestas**

Ej. 4 10 - 11

1. \_\_\_\_\_

2. \_\_\_\_\_

3. \_\_\_\_\_

4. \_\_\_\_\_

5. \_\_\_\_\_

6. \_\_\_\_\_

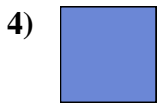
7. \_\_\_\_\_

8. \_\_\_\_\_

9. \_\_\_\_\_



Medir el ancho de cada bloque en pulgadas y en centímetros.



**Respuestas**

Ej. 4    10 - 11

1. 2    5 - 6

2. 3    7 - 8

3. 3 1/2    8 - 9

4. 0 1/2    1 - 2

5. 1 1/2    3 - 4

6. 2 1/2    6 - 7



7. 5    12 - 13

8. 4 1/2    11 - 12

9. 5 1/2    13 - 14



Medir el ancho de cada bloque en pulgadas y en centímetros.



**Respuestas**

Ej. 1 2-3

1. \_\_\_\_\_

2. \_\_\_\_\_

3. \_\_\_\_\_

4. \_\_\_\_\_

5. \_\_\_\_\_

6. \_\_\_\_\_


7. \_\_\_\_\_

8. \_\_\_\_\_

9. \_\_\_\_\_



Medir el ancho de cada bloque en pulgadas y en centímetros.



**Respuestas**

Ej. 1    2 - 3

1. 3 1/2    8 - 9

2. 5 1/2    13 - 14

3. 5    12 - 13

4. 4 1/2    11 - 12

5. 1 1/2    3 - 4

6. 4    10 - 11

7. 2    5 - 6

8. 3    7 - 8

9. 0 1/2    1 - 2