



Medir cada una de las barras (en centímetros) y después generar una gráfica de líneas basado en la información.

Respuestas



1. _____



2. _____



3. _____




4. _____



5. _____



6. _____



7. _____




8. _____



9. _____



10. _____



11. _____



12. _____



13. _____



14. _____



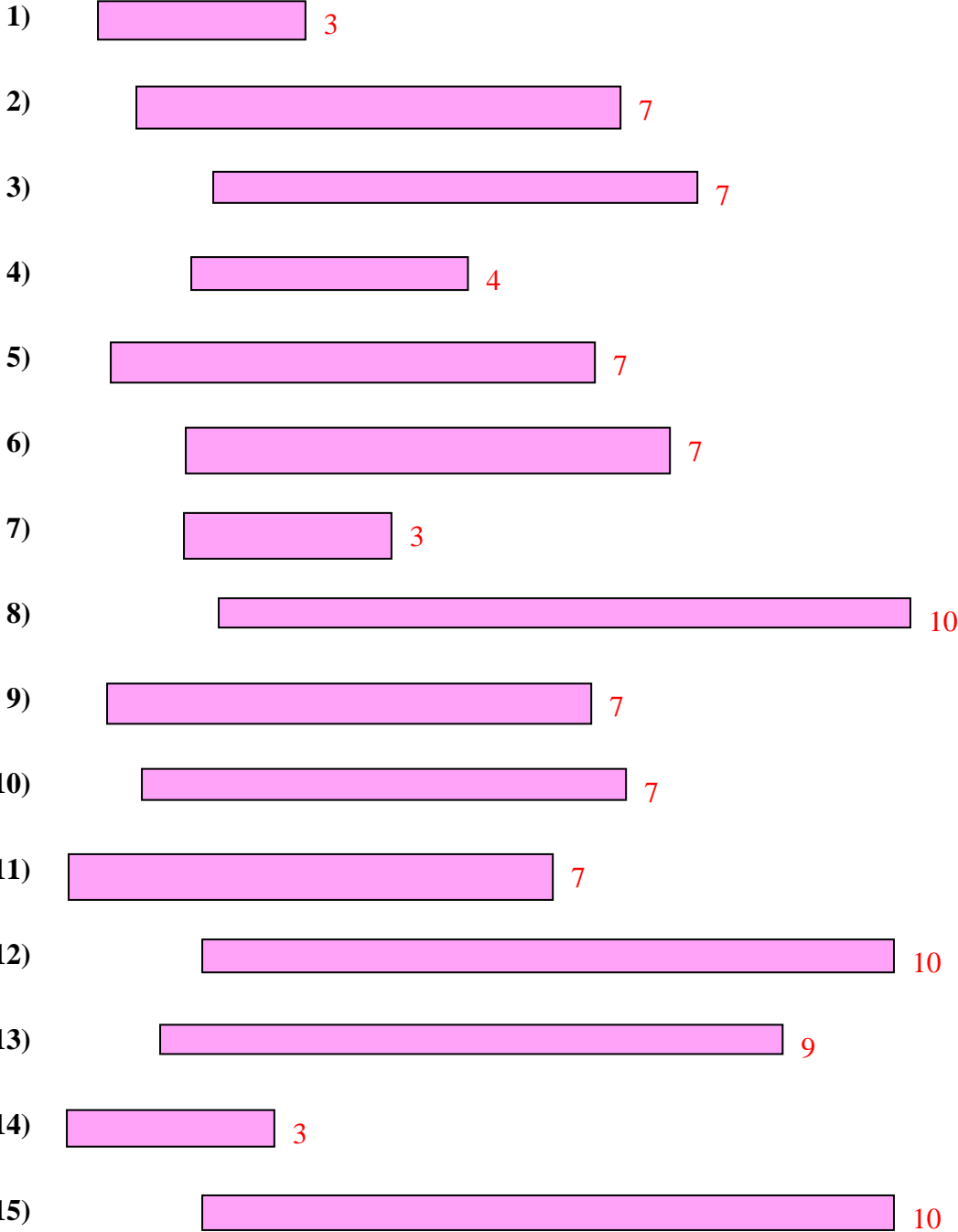
15. _____

Line Plot



Medir cada una de las barras (en centímetros) y después generar una gráfica de líneas basado en la información.

Respuestas



1. 3
2. 7
3. 7
4. 4
5. 7
6. 7
7. 3
8. 10
9. 7
10. 7
11. 7
12. 10
13. 9
14. 3
15. 10

Line Plot

