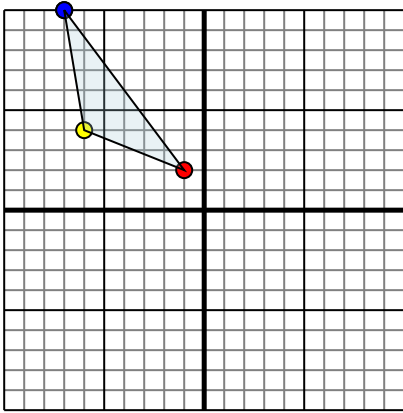




Reflejar cada figura como se describe.

Respuestas

1)

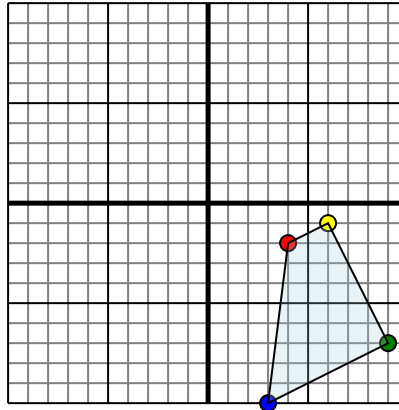


La forma anterior tiene las siguientes coordenadas:

- A. (-1,2)
- B. (-6,4)
- C. (-7,10)

Reflejar la forma sobre el eje y.

2)

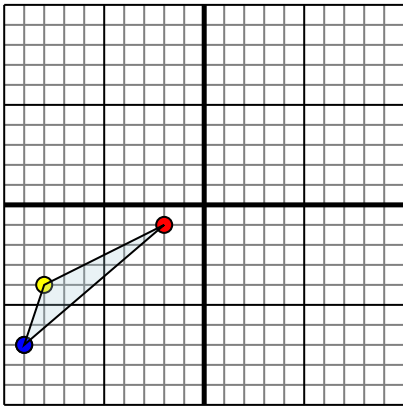


La forma anterior tiene las siguientes coordenadas:

- A. (4,-2)
- B. (6,-1)
- C. (9,-7)
- D. (3,-10)

Reflejar la forma sobre el eje x.

3)

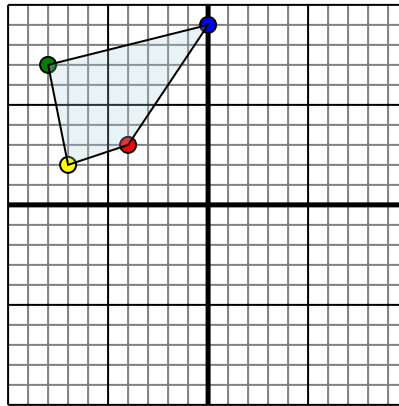


La forma anterior tiene las siguientes coordenadas:

- A. (-2,-1)
- B. (-8,-4)
- C. (-9,-7)

Reflejar la forma sobre el eje x.

4)



La forma anterior tiene las siguientes coordenadas:

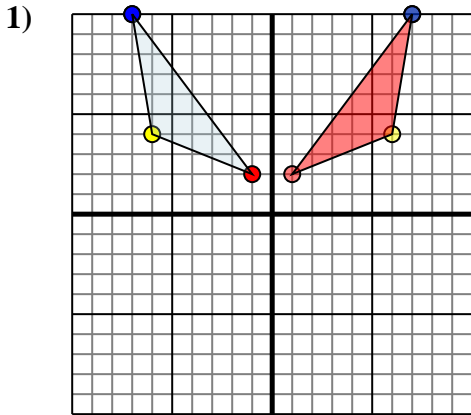
- A. (-4,3)
- B. (-7,2)
- C. (-8,7)
- D. (0,9)

Reflejar la forma sobre el eje y.

- 1. _____
- 2. _____
- 3. _____
- 4. _____



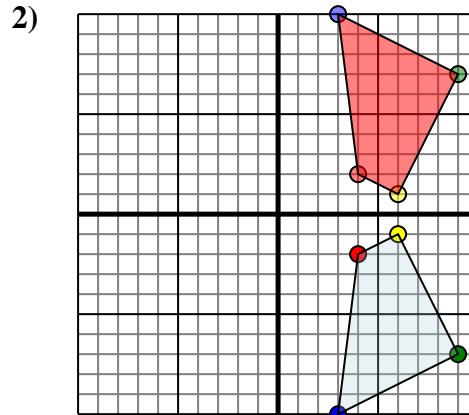
Reflejar cada figura como se describe.



La forma anterior tiene las siguientes coordenadas:

- A. (-1,2)
- B. (-6,4)
- C. (-7,10)

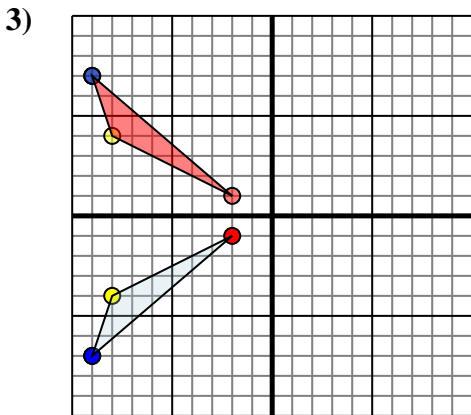
Reflejar la forma sobre el eje y.



La forma anterior tiene las siguientes coordenadas:

- A. (4,-2)
- B. (6,-1)
- C. (9,-7)
- D. (3,-10)

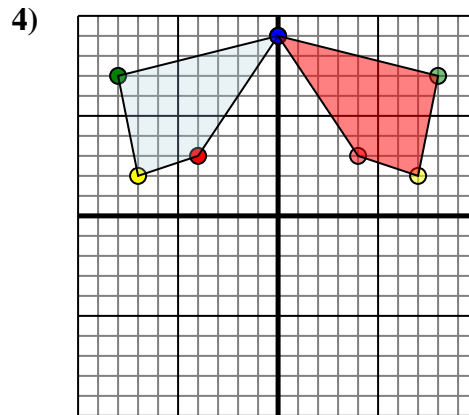
Reflejar la forma sobre el eje x.



La forma anterior tiene las siguientes coordenadas:

- A. (-2,-1)
- B. (-8,-4)
- C. (-9,-7)

Reflejar la forma sobre el eje x.



La forma anterior tiene las siguientes coordenadas:

- A. (-4,3)
- B. (-7,2)
- C. (-8,7)
- D. (0,9)

Reflejar la forma sobre el eje y.

Respuestas

- 1. **1,2** **6,4** **7,10** gráfica
- 2. **4,2** **6,1** **9,7** **3,10** gráfica
- 3. **-2,1** **-8,4** **-9,7** gráfica
- 4. **4,3** **7,2** **8,7** **0,9** gráfica