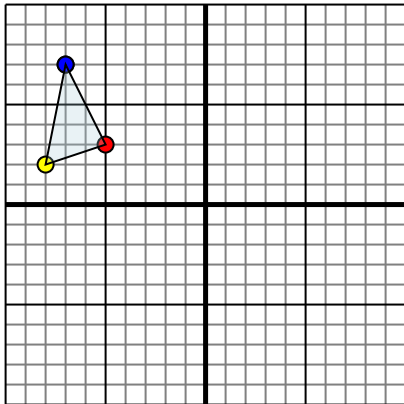




Reflejar cada figura como se describe.

1)

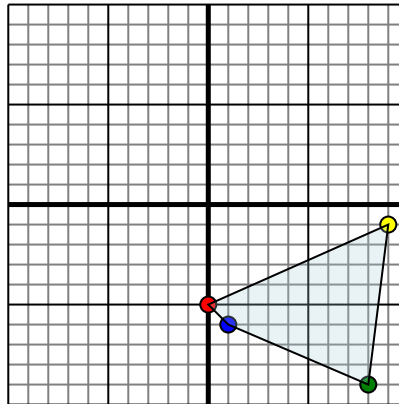


La figura de arriba tiene las siguientes coordenadas:

- A. (-5,3)
- B. (-8,2)
- C. (-7,7)

Refleja la figura sobre el eje X.

2)

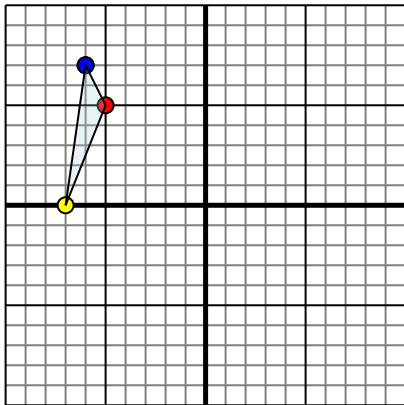


La figura de arriba tiene las siguientes coordenadas:

- A. (0,-5)
- B. (9,-1)
- C. (8,-9)
- D. (1,-6)

Refleja la figura sobre el eje X.

3)

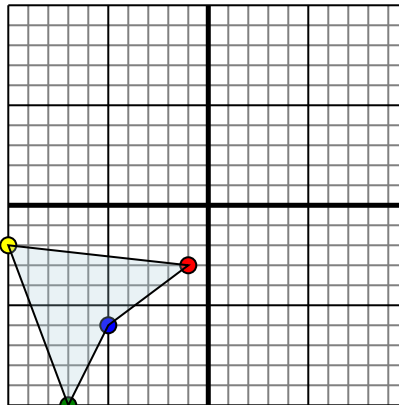


La figura de arriba tiene las siguientes coordenadas:

- A. (-5,5)
- B. (-7,0)
- C. (-6,7)

Refleja la figura sobre el eje Y.

4)



La figura de arriba tiene las siguientes coordenadas:

- A. (-1,-3)
- B. (-10,-2)
- C. (-7,-10)
- D. (-5,-6)

Refleja la figura sobre el eje X.

Respuestas

1. _____

2. _____

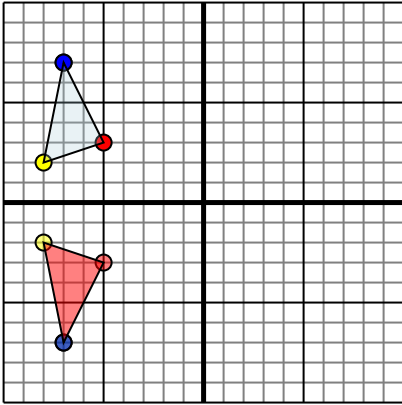
3. _____

4. _____



Reflejar cada figura como se describe.

1)

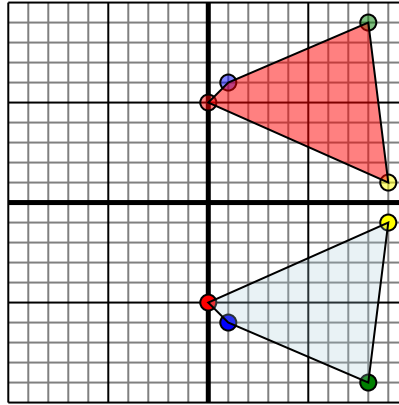


La figura de arriba tiene las siguientes coordenadas:

- A. (-5,3)
- B. (-8,2)
- C. (-7,7)

Refleja la figura sobre el eje X.

2)

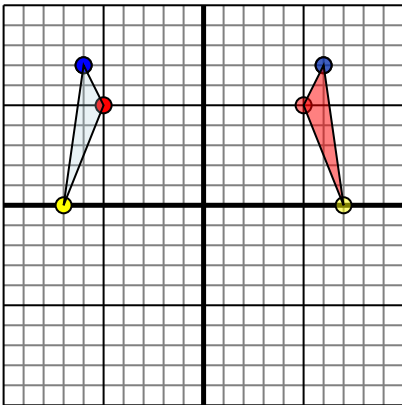


La figura de arriba tiene las siguientes coordenadas:

- A. (0,-5)
- B. (9,-1)
- C. (8,-9)
- D. (1,-6)

Refleja la figura sobre el eje X.

3)

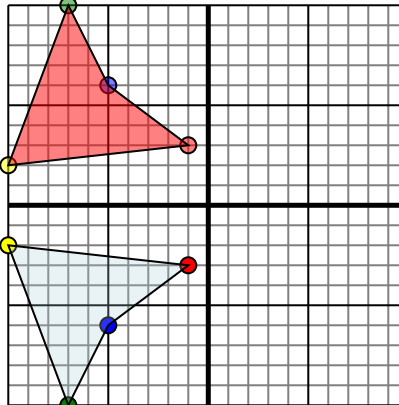


La figura de arriba tiene las siguientes coordenadas:

- A. (-5,5)
- B. (-7,0)
- C. (-6,7)

Refleja la figura sobre el eje Y.

4)



La figura de arriba tiene las siguientes coordenadas:

- A. (-1,-3)
- B. (-10,-2)
- C. (-7,-10)
- D. (-5,-6)

Refleja la figura sobre el eje X.

Respuestas

1. -5,-3 -8,-2 -7,-7 gráfica
2. 0,5 9,1 8,9 1,6 gráfica
3. 5,5 7,0 6,7 gráfica
4. -1,3 -10,2 -7,10 -5,6 gráfica