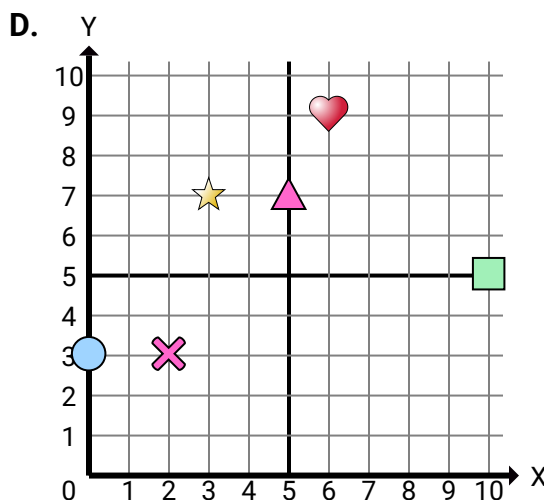
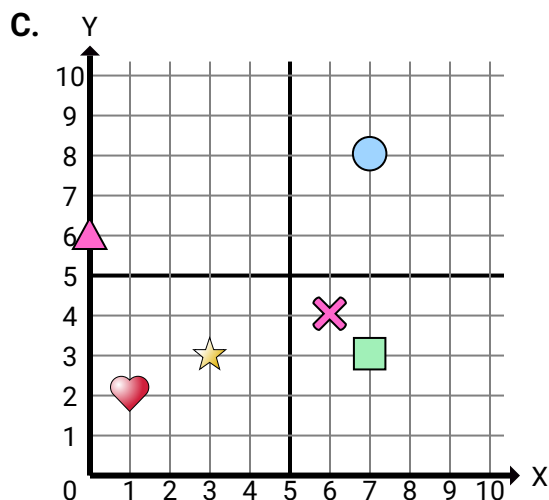
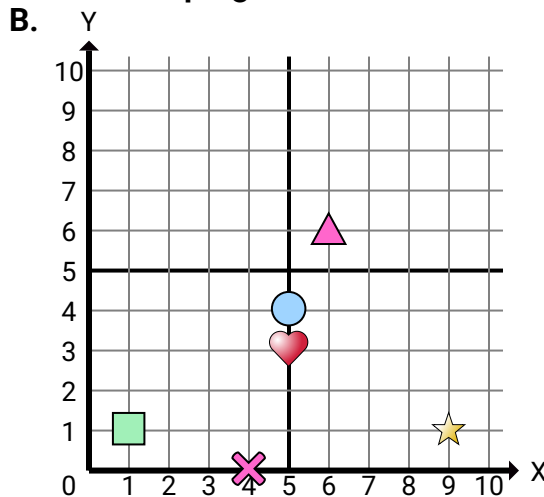
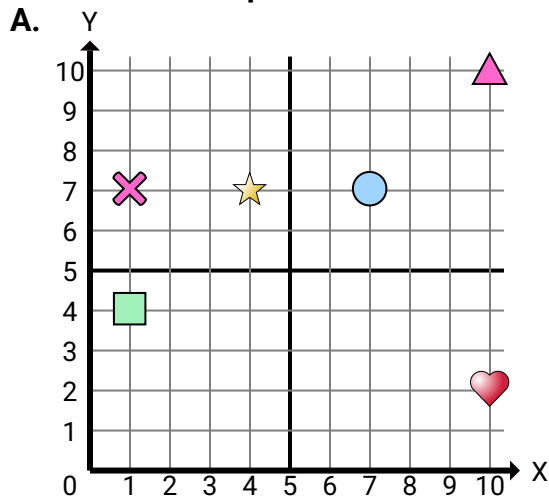
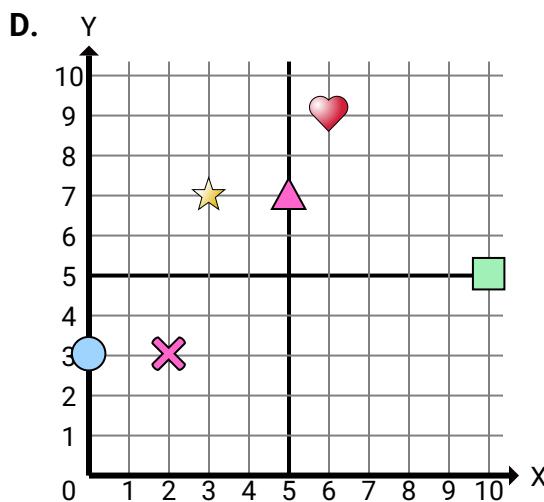
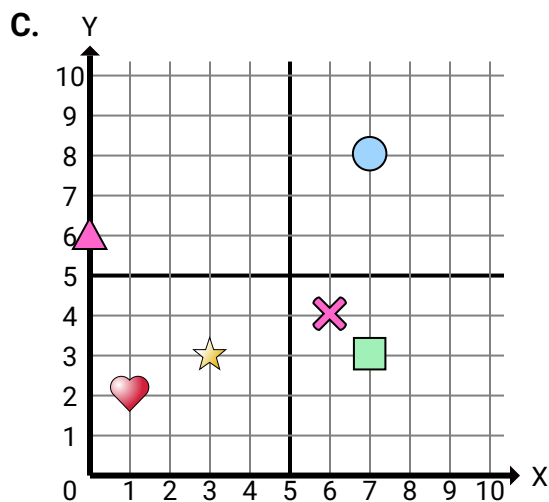
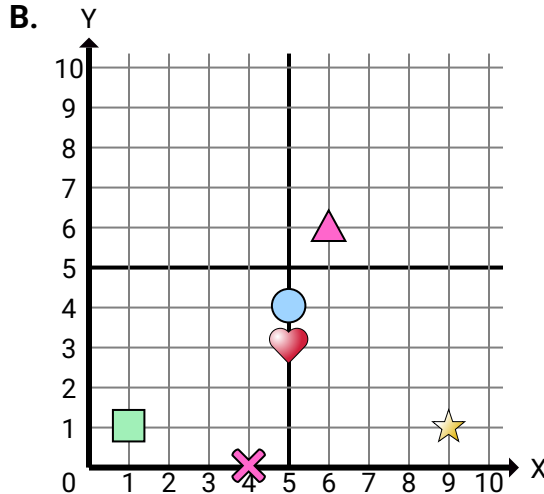
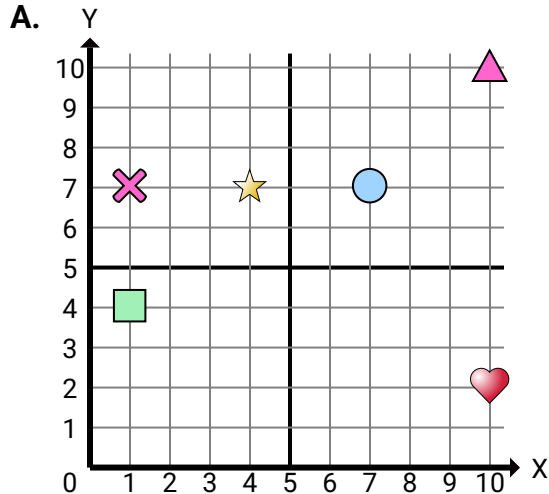


**Determinar cuál plano cartesiano corresponde a cada pregunta.****Respuestas**

1. _____
2. _____
3. _____
4. _____
5. _____
6. _____
7. _____
8. _____
9. _____
10. _____
11. _____
12. _____
13. _____
14. _____
15. _____

- 1) ¿Qué plano de coordenadas tiene una figura en (4 , 7)?
- 2) ¿Qué plano de coordenadas tiene una figura en (1 , 4)?
- 3) ¿Qué plano de coordenadas tiene una figura en (7 , 7)?
- 4) ¿Qué plano de coordenadas tiene una figura en (10 , 10)?
- 5) ¿Qué plano de coordenadas tiene una figura en (1 , 7)?
- 6) ¿Qué plano de coordenadas tiene una figura en (5 , 3)?
- 7) ¿Qué plano de coordenadas tiene una figura en (9 , 1)?
- 8) ¿Qué plano de coordenadas tiene una figura en (1 , 1)?
- 9) ¿Qué plano de coordenadas tiene una figura en (5 , 4)?
- 10) ¿Qué plano de coordenadas tiene una figura en (6 , 6)?
- 11) ¿Qué plano de coordenadas tiene una figura en (4 , 0)?
- 12) ¿Qué plano de coordenadas tiene una figura en (1 , 2)?
- 13) ¿Qué plano de coordenadas tiene una figura en (3 , 3)?
- 14) ¿Qué plano de coordenadas tiene una figura en (7 , 3)?
- 15) ¿Qué plano de coordenadas tiene una figura en (7 , 8)?

**Determinar cuál plano cartesiano corresponde a cada pregunta.****Respuestas**

1. **D**
2. **B**
3. **D**
4. **D**
5. **C**
6. **A**
7. **D**
8. **C**
9. **C**
10. **B**
11. **B**
12. **C**
13. **D**
14. **D**
15. **B**

- 1) ¿Qué plano de coordenadas tiene una figura en (4 , 7)?
- 2) ¿Qué plano de coordenadas tiene una figura en (1 , 4)?
- 3) ¿Qué plano de coordenadas tiene una figura en (7 , 7)?
- 4) ¿Qué plano de coordenadas tiene una figura en (10 , 10)?
- 5) ¿Qué plano de coordenadas tiene una figura en (1 , 7)?
- 6) ¿Qué plano de coordenadas tiene una figura en (5 , 3)?
- 7) ¿Qué plano de coordenadas tiene una figura en (9 , 1)?
- 8) ¿Qué plano de coordenadas tiene una figura en (1 , 1)?
- 9) ¿Qué plano de coordenadas tiene una figura en (5 , 4)?
- 10) ¿Qué plano de coordenadas tiene una figura en (6 , 6)?
- 11) ¿Qué plano de coordenadas tiene una figura en (4 , 0)?
- 12) ¿Qué plano de coordenadas tiene una figura en (1 , 2)?
- 13) ¿Qué plano de coordenadas tiene una figura en (3 , 3)?
- 14) ¿Qué plano de coordenadas tiene una figura en (7 , 3)?
- 15) ¿Qué plano de coordenadas tiene una figura en (7 , 8)?