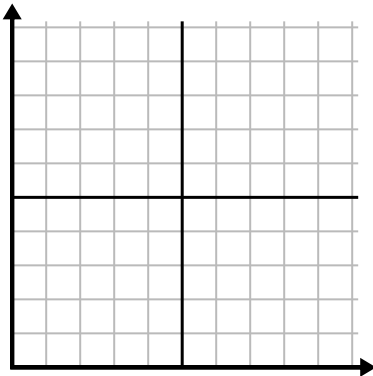




Complete la cuadrícula utilizando la gráfica.

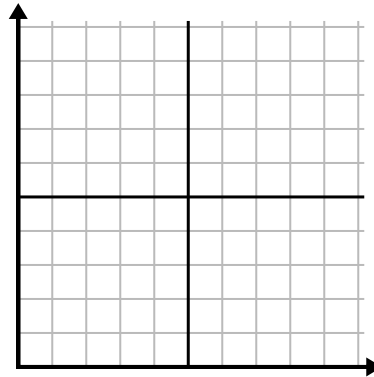
1)

Semana	1	2	3	4	5	6
Horas de televisión vistas	15	35	5	30	45	25



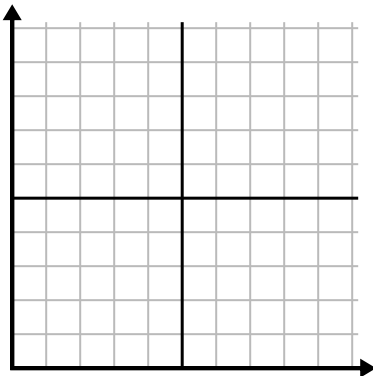
2)

Año	1	2	3	4	5	6	7
Cartuchos de tinta usados	4	14	18	6	10	20	8



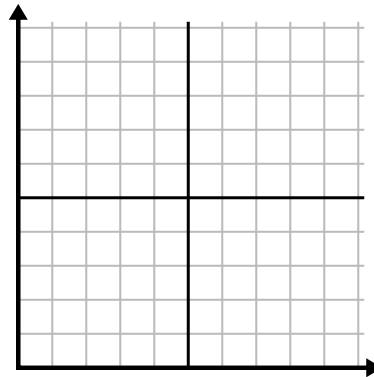
3)

Mes	1	2	3	4	5	6
Precio de la factura eléctrica	175	100	75	200	150	225



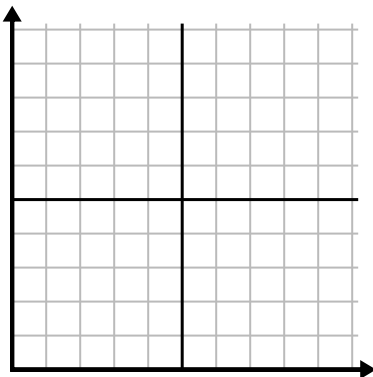
4)

Semana	1	2	3	4	5	6
Agua usada (galones)	100	80	30	50	60	20



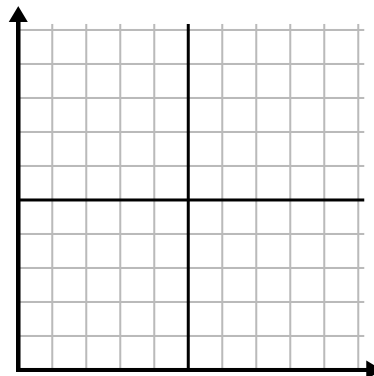
5)

Día	1	2	3	4	5
Calorías quemadas	200	160	180	100	140



6)

Día	1	2	3	4	5	6	7
Comidas vendidas	400	600	800	500	300	700	1,000

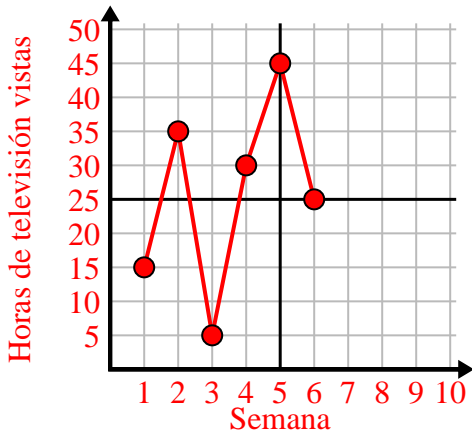




Complete la cuadrícula utilizando la gráfica.

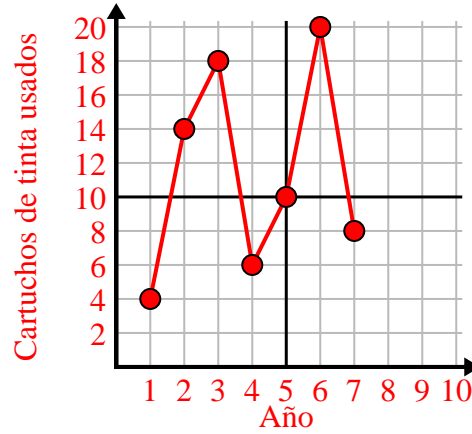
1)

Semana	1	2	3	4	5	6
Horas de televisión vistas	15	35	5	30	45	25



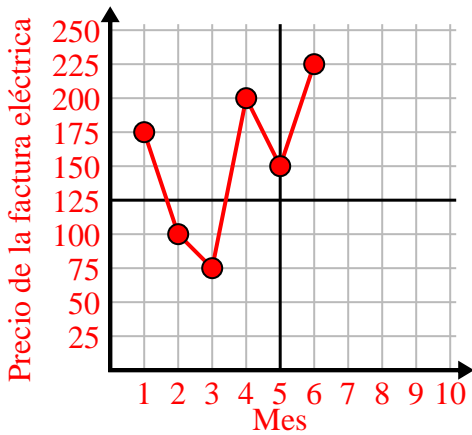
2)

Año	1	2	3	4	5	6	7
Cartuchos de tinta usados	4	14	18	6	10	20	8



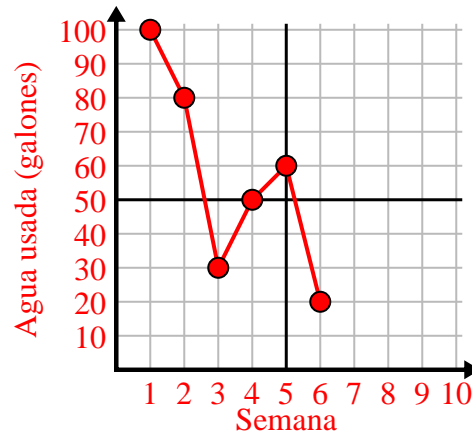
3)

Mes	1	2	3	4	5	6
Precio de la factura eléctrica	175	100	75	200	150	225



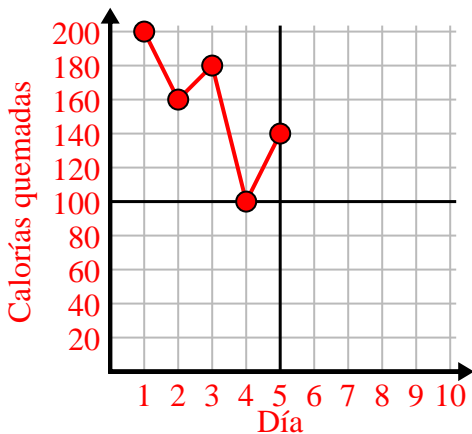
4)

Semana	1	2	3	4	5	6
Agua usada (galones)	100	80	30	50	60	20



5)

Día	1	2	3	4	5
Calorías quemadas	200	160	180	100	140



6)

Día	1	2	3	4	5	6	7
Comidas vendidas	400	600	800	500	300	700	1,000

