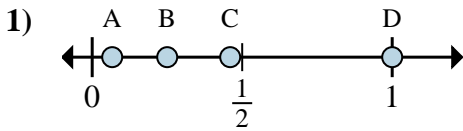




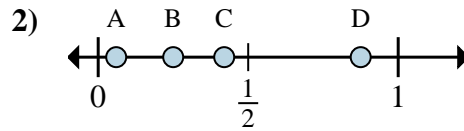
Determina cuál letra mejor muestra la ubicación de la fracción.

Respuestas



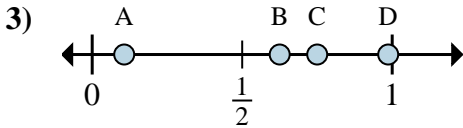
a. ¿Qué letra representa mejor $\frac{4}{4}$

b. ¿Qué letra representa mejor $\frac{1}{4}$



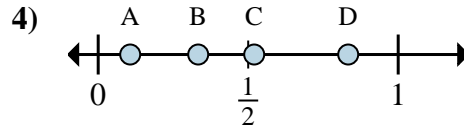
a. ¿Qué letra representa mejor $\frac{7}{8}$

b. ¿Qué letra representa mejor $\frac{2}{8}$



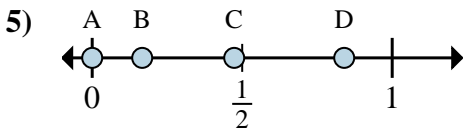
a. ¿Qué letra representa mejor $\frac{5}{8}$

b. ¿Qué letra representa mejor $\frac{6}{8}$



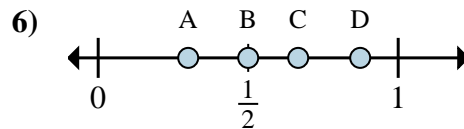
a. ¿Qué letra representa mejor $\frac{5}{6}$

b. ¿Qué letra representa mejor $\frac{2}{6}$



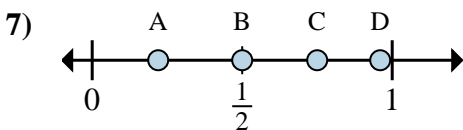
a. ¿Qué letra representa mejor $\frac{0}{6}$

b. ¿Qué letra representa mejor $\frac{1}{6}$



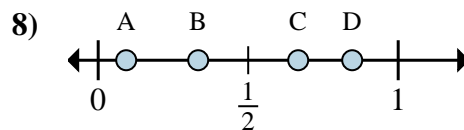
a. ¿Qué letra representa mejor $\frac{3}{6}$

b. ¿Qué letra representa mejor $\frac{4}{6}$



a. ¿Qué letra representa mejor $\frac{3}{4}$

b. ¿Qué letra representa mejor $\frac{2}{4}$



a. ¿Qué letra representa mejor $\frac{2}{3}$

b. ¿Qué letra representa mejor $\frac{1}{3}$

1. _____

2. _____

3. _____

4. _____

5. _____

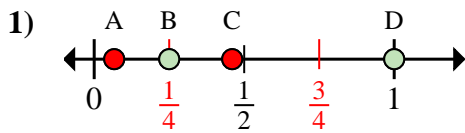
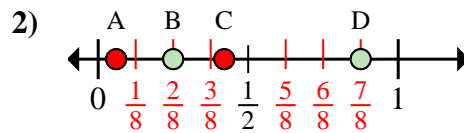
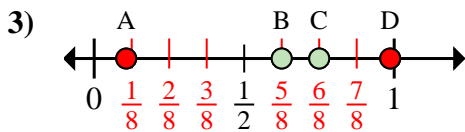
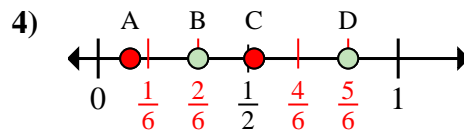
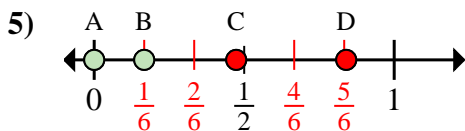
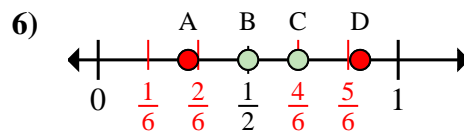
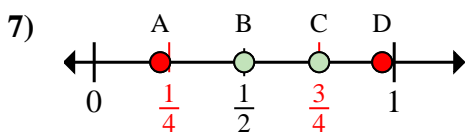
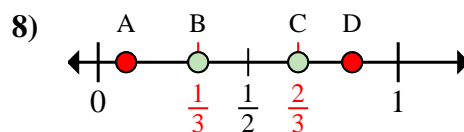
6. _____

7. _____

8. _____



Determina cuál letra mejor muestra la ubicación de la fracción.

Respuestasa. ¿Qué letra representa mejor $\frac{4}{4}$ b. ¿Qué letra representa mejor $\frac{1}{4}$ a. ¿Qué letra representa mejor $\frac{7}{8}$ b. ¿Qué letra representa mejor $\frac{2}{8}$ a. ¿Qué letra representa mejor $\frac{5}{8}$ b. ¿Qué letra representa mejor $\frac{6}{8}$ a. ¿Qué letra representa mejor $\frac{5}{6}$ b. ¿Qué letra representa mejor $\frac{2}{6}$ a. ¿Qué letra representa mejor $\frac{0}{6}$ b. ¿Qué letra representa mejor $\frac{1}{6}$ a. ¿Qué letra representa mejor $\frac{3}{6}$ b. ¿Qué letra representa mejor $\frac{4}{6}$ a. ¿Qué letra representa mejor $\frac{3}{4}$ b. ¿Qué letra representa mejor $\frac{2}{4}$ a. ¿Qué letra representa mejor $\frac{2}{3}$ b. ¿Qué letra representa mejor $\frac{1}{3}$ 1. D B2. D B3. B C4. D B5. A B6. B C7. C B8. C B