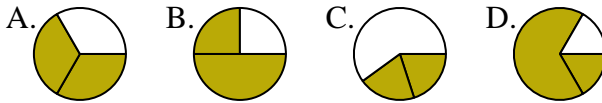




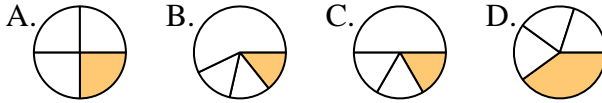
**Determina cuál letra mejor representa a cada fracción**

**Respuestas**

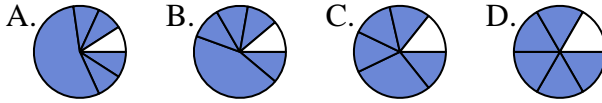
1) ¿Que opción representa mejor  $\frac{2}{3}$ ?



2) ¿Que opción representa mejor  $\frac{1}{4}$ ?



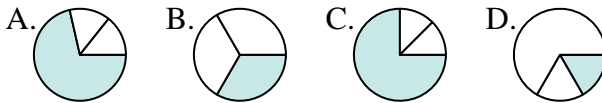
3) ¿Que opción representa mejor  $\frac{5}{6}$ ?



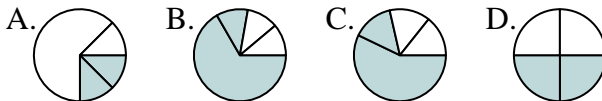
4) ¿Que opción representa mejor  $\frac{3}{8}$ ?



5) ¿Que opción representa mejor  $\frac{1}{3}$ ?



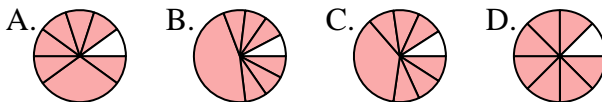
6) ¿Que opción representa mejor  $\frac{2}{4}$ ?



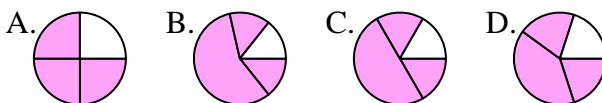
7) ¿Que opción representa mejor  $\frac{3}{6}$ ?



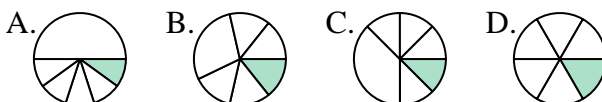
8) ¿Que opción representa mejor  $\frac{7}{8}$ ?



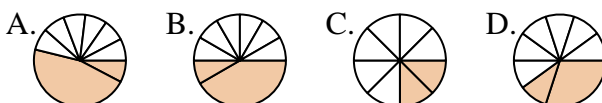
9) ¿Que opción representa mejor  $\frac{3}{4}$ ?



10) ¿Que opción representa mejor  $\frac{1}{6}$ ?



11) ¿Que opción representa mejor  $\frac{2}{8}$ ?



12) ¿Que opción representa mejor  $\frac{2}{6}$ ?



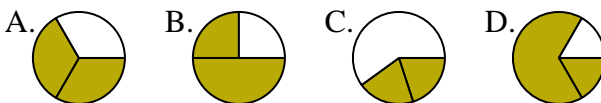
- 1. \_\_\_\_\_
- 2. \_\_\_\_\_
- 3. \_\_\_\_\_
- 4. \_\_\_\_\_
- 5. \_\_\_\_\_
- 6. \_\_\_\_\_
- 7. \_\_\_\_\_
- 8. \_\_\_\_\_
- 9. \_\_\_\_\_
- 10. \_\_\_\_\_
- 11. \_\_\_\_\_
- 12. \_\_\_\_\_



**Determina cuál letra mejor representa a cada fracción**

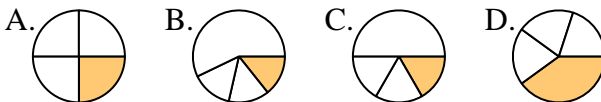
**Respuestas**

1) ¿Que opción representa mejor  $\frac{2}{3}$ ?



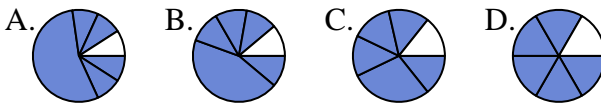
1.     **A**    

2) ¿Que opción representa mejor  $\frac{1}{4}$ ?



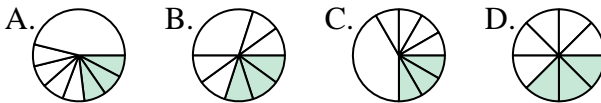
2.     **A**    

3) ¿Que opción representa mejor  $\frac{5}{6}$ ?



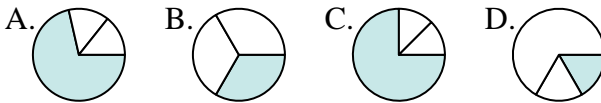
3.     **D**    

4) ¿Que opción representa mejor  $\frac{3}{8}$ ?



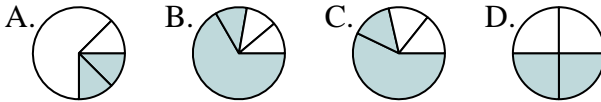
4.     **D**    

5) ¿Que opción representa mejor  $\frac{1}{3}$ ?



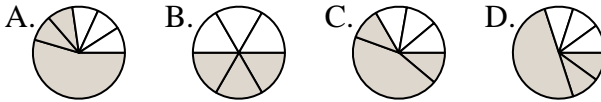
5.     **B**    

6) ¿Que opción representa mejor  $\frac{2}{4}$ ?



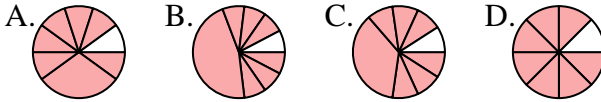
6.     **D**    

7) ¿Que opción representa mejor  $\frac{3}{6}$ ?



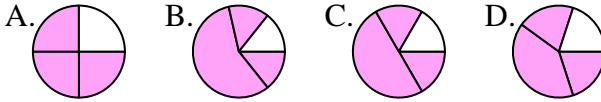
7.     **B**    

8) ¿Que opción representa mejor  $\frac{7}{8}$ ?



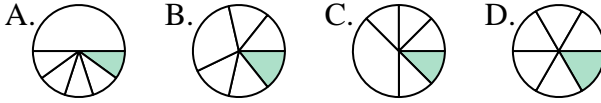
8.     **D**    

9) ¿Que opción representa mejor  $\frac{3}{4}$ ?



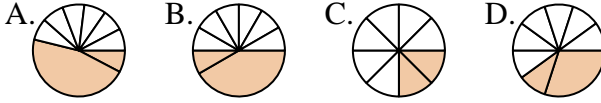
9.     **A**    

10) ¿Que opción representa mejor  $\frac{1}{6}$ ?



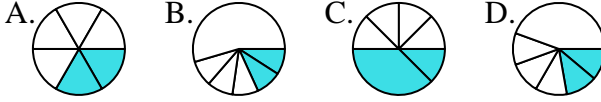
10.     **D**    

11) ¿Que opción representa mejor  $\frac{2}{8}$ ?



11.     **C**    

12) ¿Que opción representa mejor  $\frac{2}{6}$ ?



12.     **A**