









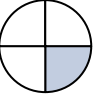



















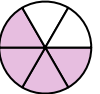







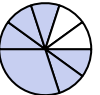











**Determina cuál letra mejor representa a cada fracción****Respuestas**











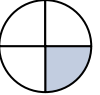



















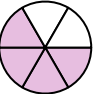







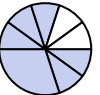









- 1) ¿Que opción representa mejor $\frac{2}{4}$?
A.  B.  C.  D. 
- 2) ¿Que opción representa mejor $\frac{1}{6}$?
A.  B.  C.  D. 
- 3) ¿Que opción representa mejor $\frac{1}{4}$?
A.  B.  C.  D. 
- 4) ¿Que opción representa mejor $\frac{1}{3}$?
A.  B.  C.  D. 
- 5) ¿Que opción representa mejor $\frac{1}{2}$?
A.  B.  C.  D. 
- 6) ¿Que opción representa mejor $\frac{5}{6}$?
A.  B.  C.  D. 
- 7) ¿Que opción representa mejor $\frac{7}{8}$?
A.  B.  C.  D. 
- 8) ¿Que opción representa mejor $\frac{4}{6}$?
A.  B.  C.  D. 
- 9) ¿Que opción representa mejor $\frac{2}{3}$?
A.  B.  C.  D. 
- 10) ¿Que opción representa mejor $\frac{6}{8}$?
A.  B.  C.  D. 
- 11) ¿Que opción representa mejor $\frac{3}{8}$?
A.  B.  C.  D. 
- 12) ¿Que opción representa mejor $\frac{3}{4}$?
A.  B.  C.  D. 

1. _____
2. _____
3. _____
4. _____
5. _____
6. _____
7. _____
8. _____
9. _____
10. _____
11. _____
12. _____



Determina cuál letra mejor representa a cada fracción

Respuestas

- 1) ¿Que opción representa mejor $\frac{2}{4}$?
A.  B.  C.  D. 
- 2) ¿Que opción representa mejor $\frac{1}{6}$?
A.  B.  C.  D. 
- 3) ¿Que opción representa mejor $\frac{1}{4}$?
A.  B.  C.  D. 
- 4) ¿Que opción representa mejor $\frac{1}{3}$?
A.  B.  C.  D. 
- 5) ¿Que opción representa mejor $\frac{1}{2}$?
A.  B.  C.  D. 
- 6) ¿Que opción representa mejor $\frac{5}{6}$?
A.  B.  C.  D. 
- 7) ¿Que opción representa mejor $\frac{7}{8}$?
A.  B.  C.  D. 
- 8) ¿Que opción representa mejor $\frac{4}{6}$?
A.  B.  C.  D. 
- 9) ¿Que opción representa mejor $\frac{2}{3}$?
A.  B.  C.  D. 
- 10) ¿Que opción representa mejor $\frac{6}{8}$?
A.  B.  C.  D. 
- 11) ¿Que opción representa mejor $\frac{3}{8}$?
A.  B.  C.  D. 
- 12) ¿Que opción representa mejor $\frac{3}{4}$?
A.  B.  C.  D. 

1. **D**
2. **B**
3. **C**
4. **B**
5. **D**
6. **D**
7. **D**
8. **C**
9. **A**
10. **A**
11. **D**
12. **A**