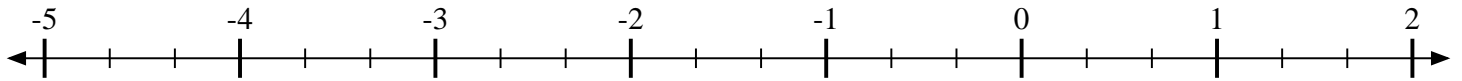


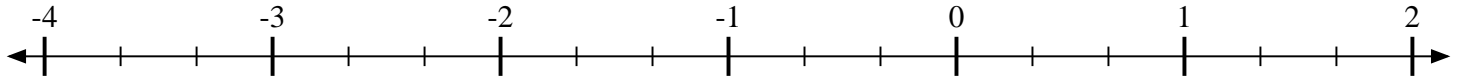


Marca cada ubicación descrita.

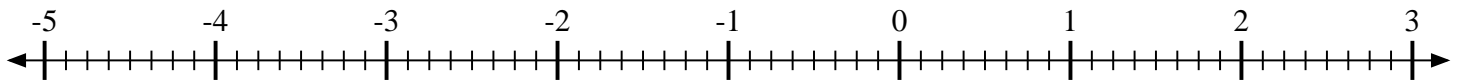
1) Marque la ubicación de  $-3\frac{1}{3}$



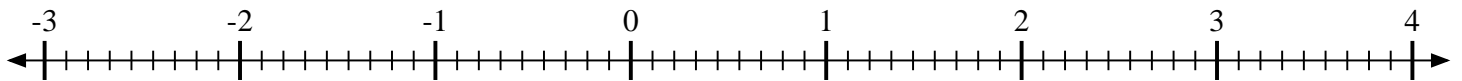
2) Marque la ubicación de  $-2\frac{2}{3}$



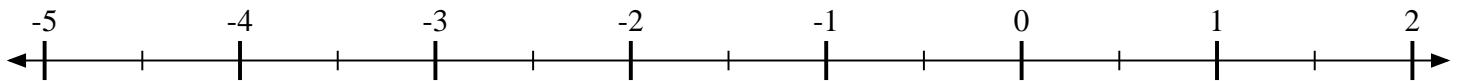
3) Marque la ubicación de  $-2\frac{6}{8}$



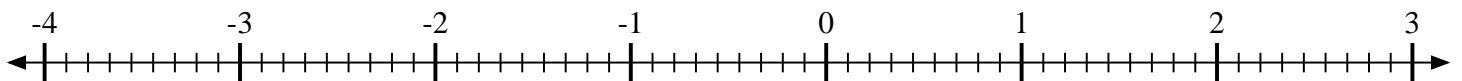
4) Marque la ubicación de  $1\frac{1}{9}$



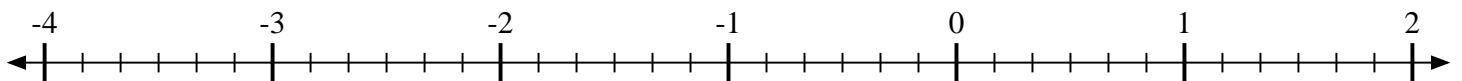
5) Marque la ubicación de  $1\frac{1}{2}$



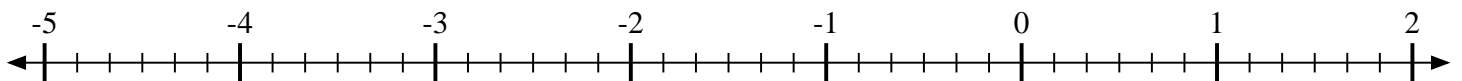
6) Marque la ubicación de  $2\frac{5}{9}$



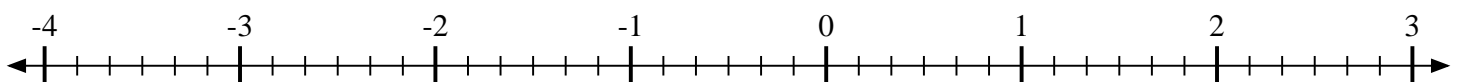
7) Marque la ubicación de  $-1\frac{3}{6}$



8) Marque la ubicación de  $-1\frac{4}{6}$



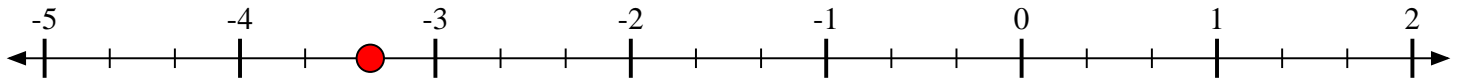
9) Marque la ubicación de  $-1\frac{2}{6}$



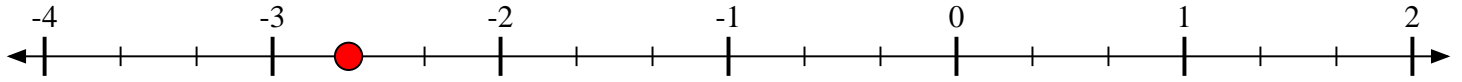


Marca cada ubicación descrita.

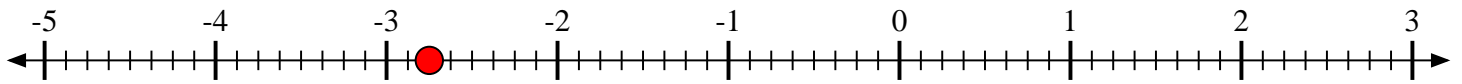
- 1) Marque la ubicación de  $-3\frac{1}{3}$



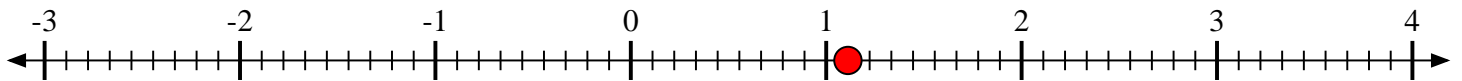
- 2) Marque la ubicación de  $-2\frac{2}{3}$



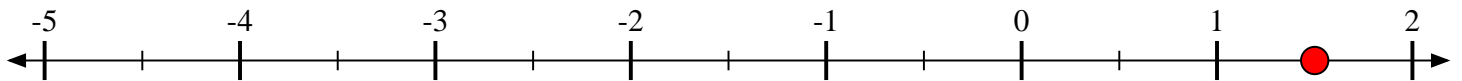
- 3) Marque la ubicación de  $-2\frac{6}{8}$



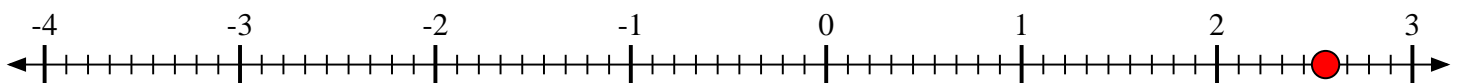
- 4) Marque la ubicación de  $1\frac{1}{9}$



- 5) Marque la ubicación de  $1\frac{1}{2}$



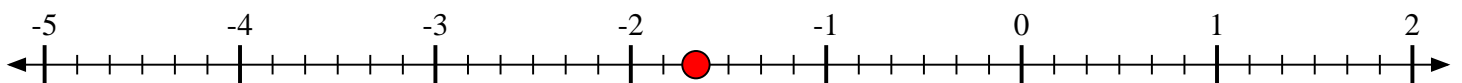
- 6) Marque la ubicación de  $2\frac{5}{9}$



- 7) Marque la ubicación de  $-1\frac{3}{6}$



- 8) Marque la ubicación de  $-1\frac{4}{6}$



- 9) Marque la ubicación de  $-1\frac{2}{6}$

