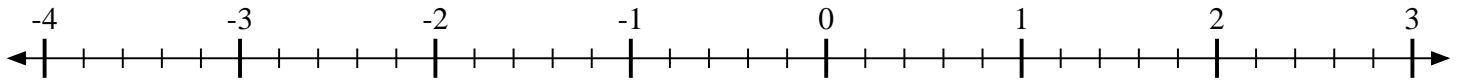


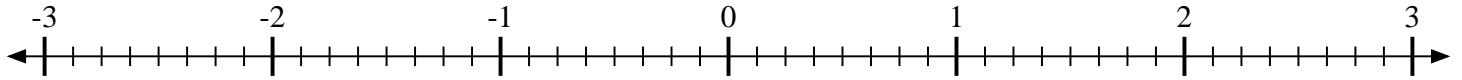


Marca cada ubicación descrita.

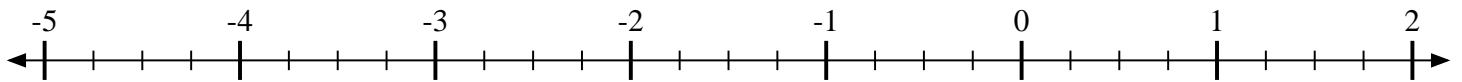
- 1) Marque la ubicación de $-3\frac{4}{5}$



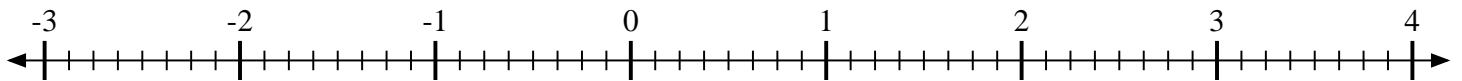
- 2) Marque la ubicación de $2\frac{6}{8}$



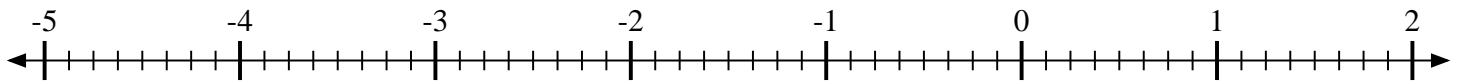
- 3) Marque la ubicación de $-4\frac{2}{4}$



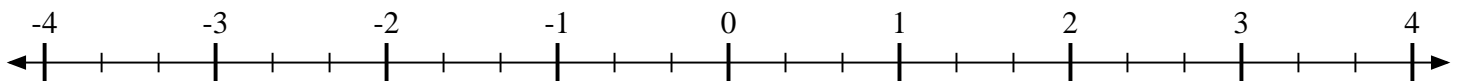
- 4) Marque la ubicación de $1\frac{5}{8}$



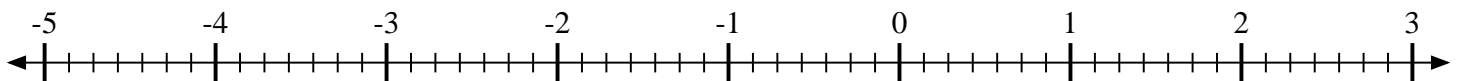
- 5) Marque la ubicación de $-2\frac{6}{8}$



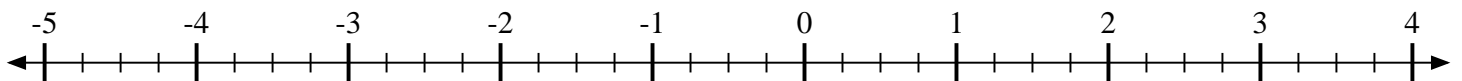
- 6) Marque la ubicación de $-1\frac{1}{3}$



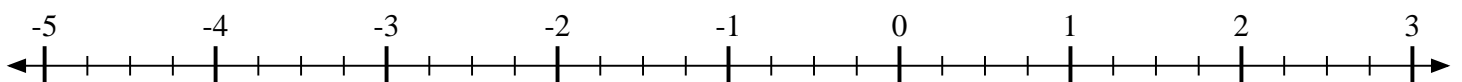
- 7) Marque la ubicación de $-3\frac{2}{7}$



- 8) Marque la ubicación de $3\frac{1}{4}$



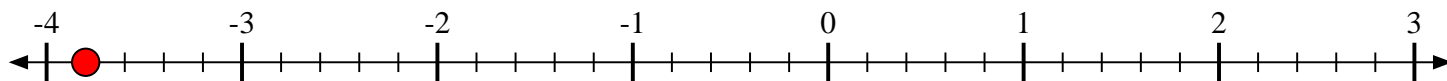
- 9) Marque la ubicación de $-3\frac{3}{4}$



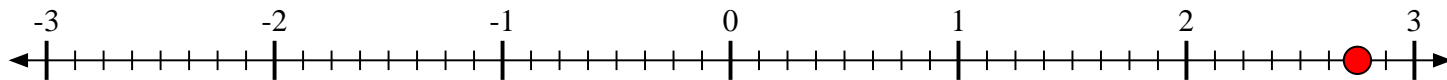


Marca cada ubicación descrita.

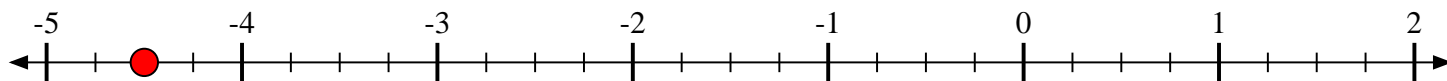
1) Marque la ubicación de $-3\frac{4}{5}$



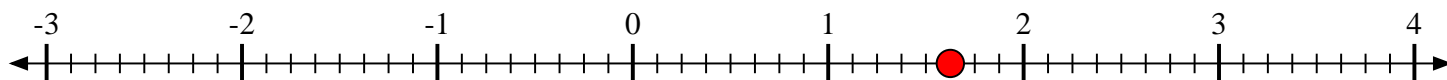
2) Marque la ubicación de $2\frac{6}{8}$



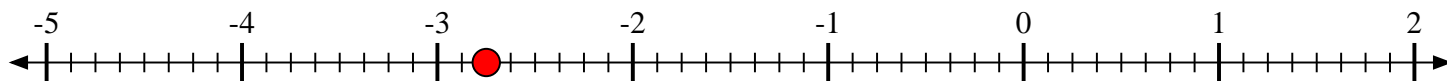
3) Marque la ubicación de $-4\frac{2}{4}$



4) Marque la ubicación de $1\frac{5}{8}$



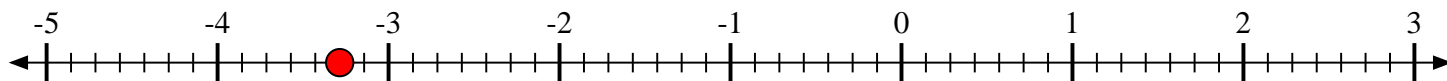
5) Marque la ubicación de $-2\frac{6}{8}$



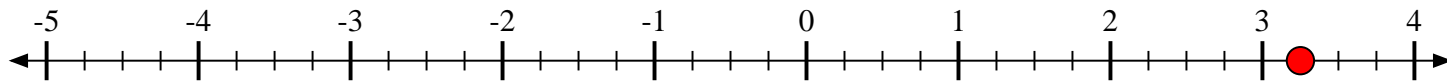
6) Marque la ubicación de $-1\frac{1}{3}$



7) Marque la ubicación de $-3\frac{2}{7}$



8) Marque la ubicación de $3\frac{1}{4}$



9) Marque la ubicación de $-3\frac{3}{4}$

