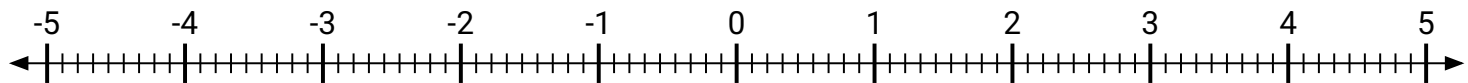


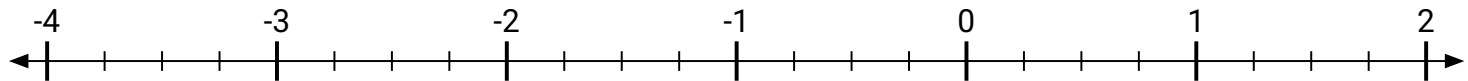


Marca cada ubicación descrita.

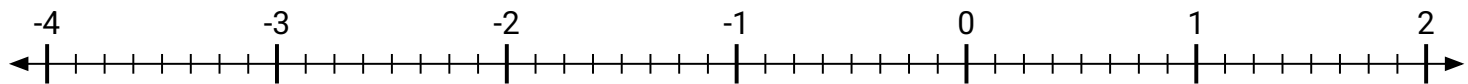
- 1) Marca la ubicación de $-4\frac{6}{9}$



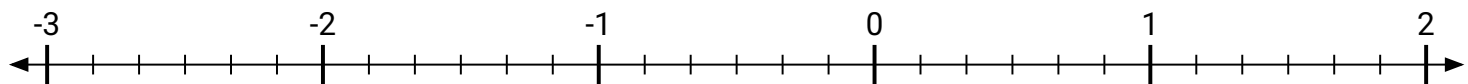
- 2) Marca la ubicación de $1\frac{3}{4}$



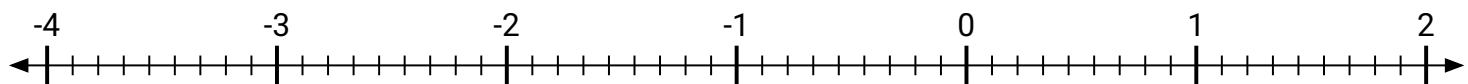
- 3) Marca la ubicación de $-2\frac{7}{8}$



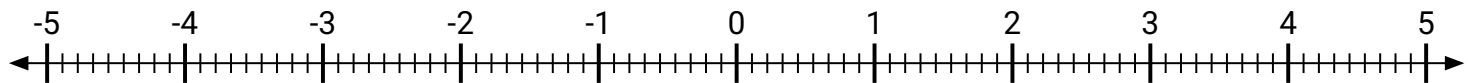
- 4) Marca la ubicación de $-2\frac{1}{6}$



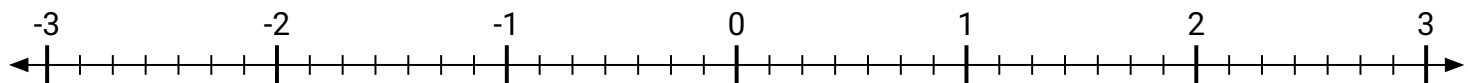
- 5) Marca la ubicación de $1\frac{6}{9}$



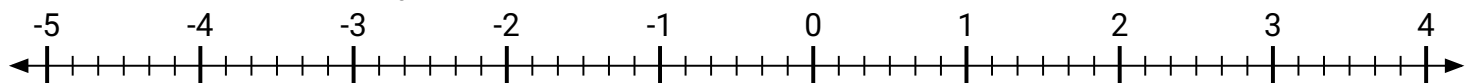
- 6) Marca la ubicación de $-4\frac{1}{9}$



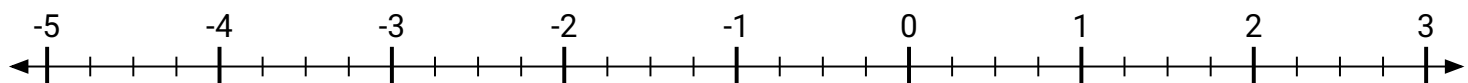
- 7) Marca la ubicación de $\frac{4}{7}$



- 8) Marca la ubicación de $-2\frac{4}{6}$

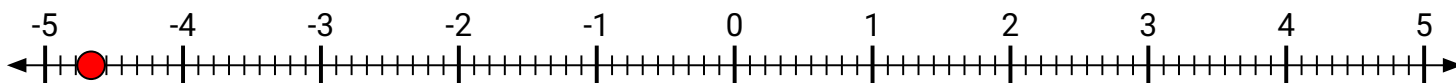


- 9) Marca la ubicación de $-3\frac{2}{4}$

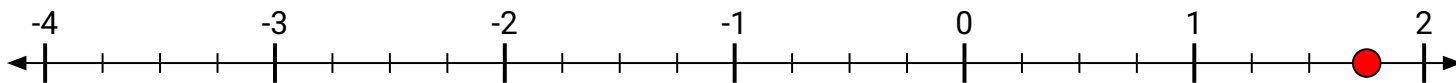


**Marca cada ubicación descrita.**

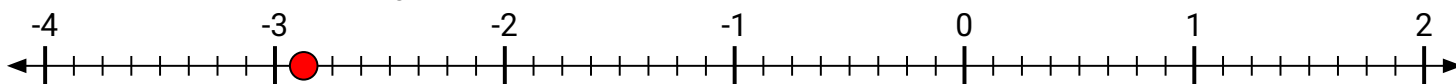
- 1) Marca la ubicación de
- $-4\frac{6}{9}$



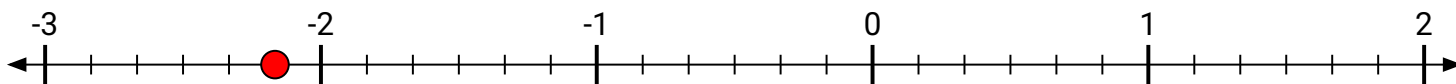
- 2) Marca la ubicación de
- $1\frac{3}{4}$



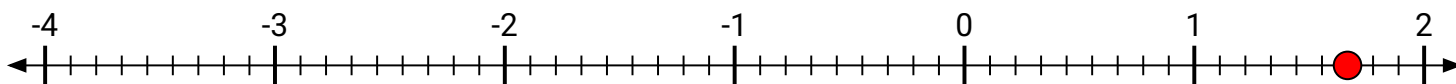
- 3) Marca la ubicación de
- $-2\frac{7}{8}$



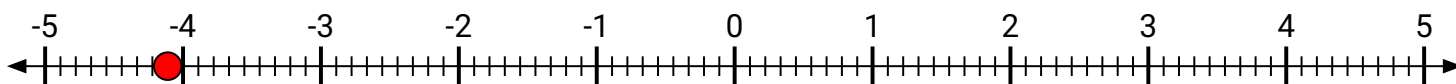
- 4) Marca la ubicación de
- $-2\frac{1}{6}$



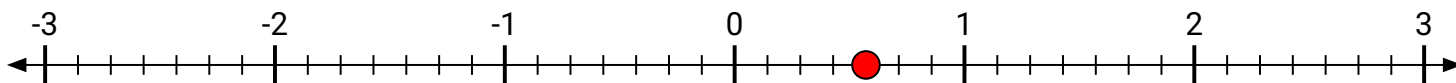
- 5) Marca la ubicación de
- $1\frac{6}{9}$



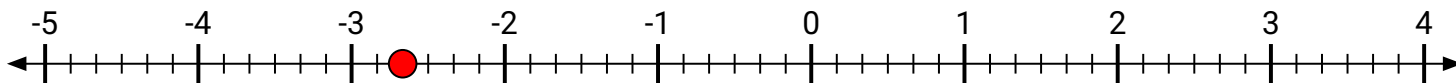
- 6) Marca la ubicación de
- $-4\frac{1}{9}$



- 7) Marca la ubicación de
- $\frac{4}{7}$



- 8) Marca la ubicación de
- $-2\frac{4}{6}$



- 9) Marca la ubicación de
- $-3\frac{2}{4}$

