



Resuelve cada problema.

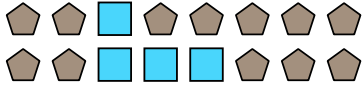
Ej) Expresar moons como una fracción de todo el conjunto.




1) Expresar estrellas como una fracción de todo el conjunto.




2) Expresar cuadros como una fracción de todo el conjunto.




3) Expresar hearts como una fracción de todo el conjunto.



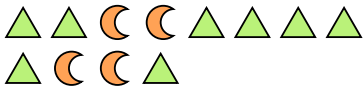
4) Expresar estrellas como una fracción de todo el conjunto.



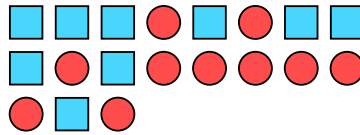
5) Expresar hearts como una fracción de todo el conjunto.



6) Expresar moons como una fracción de todo el conjunto.




7) Expresar cuadros como una fracción de todo el conjunto.



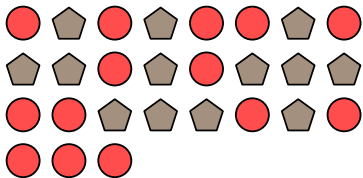
8) Expresar estrellas como una fracción de todo el conjunto.




9) Expresar triangulos como una fracción de todo el conjunto.



10) Expresar circulos como una fracción de todo el conjunto.



11) Expresar estrellas como una fracción de todo el conjunto.



**Respuestas**

Ej.  $\frac{15}{22}$

1. \_\_\_\_\_

2. \_\_\_\_\_

3. \_\_\_\_\_

4. \_\_\_\_\_

5. \_\_\_\_\_

6. \_\_\_\_\_

7. \_\_\_\_\_

8. \_\_\_\_\_

9. \_\_\_\_\_

10. \_\_\_\_\_

11. \_\_\_\_\_

