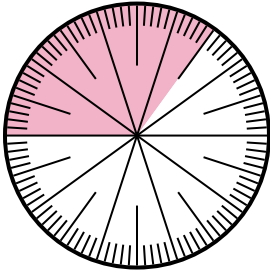


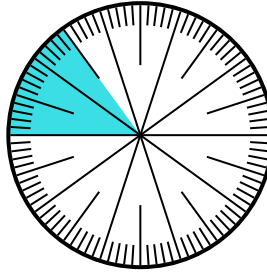


Resuelve cada problema.

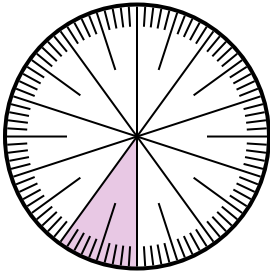
- 1) Expresa la porción de {PALABRA} como una fracción del todo con un 100 como denominador.



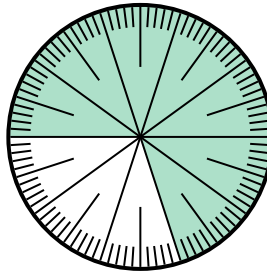
- 2) Expresa la porción de {PALABRA} como un decimal del entero.



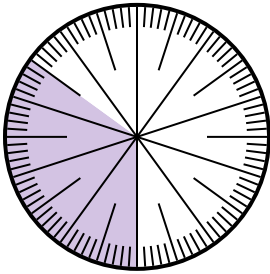
- 3) Expresa la porción de {PALABRA} como un decimal del entero.



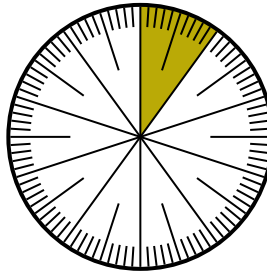
- 4) Expresa la porción de {PALABRA} como una fracción del todo con un 100 como denominador.



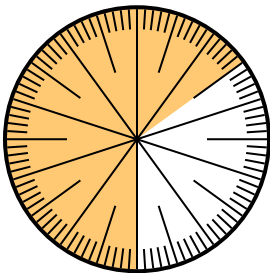
- 5) Expresa la porción de {PALABRA} como un decimal del entero.



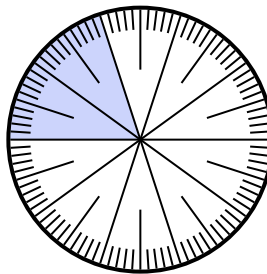
- 6) Expresa la porción de {PALABRA} como un decimal del entero.



- 7) Expresa la porción de {PALABRA} como un decimal del entero.



- 8) Expresa la porción de {PALABRA} como una fracción del todo con un 100 como denominador.



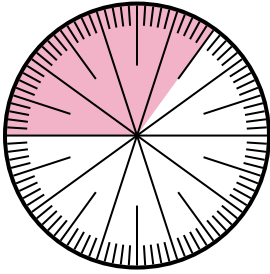
Respuestas

1. _____
2. _____
3. _____
4. _____
5. _____
6. _____
7. _____
8. _____

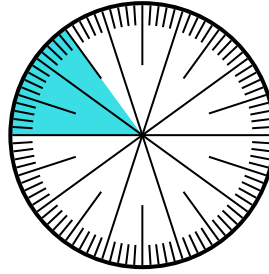


Resuelve cada problema.

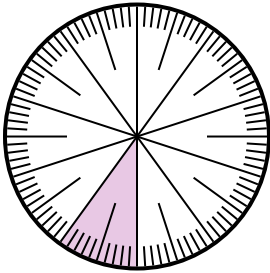
- 1) Expresa la porción de {PALABRA} como una fracción del todo con un 100 como denominador.



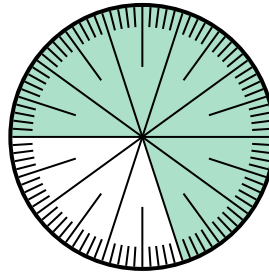
- 2) Expresa la porción de {PALABRA} como un decimal del entero.



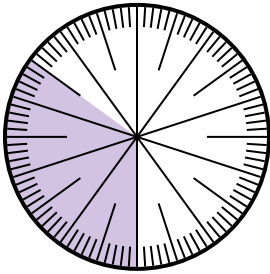
- 3) Expresa la porción de {PALABRA} como un decimal del entero.



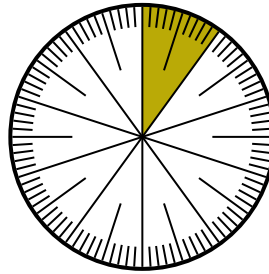
- 4) Expresa la porción de {PALABRA} como una fracción del todo con un 100 como denominador.



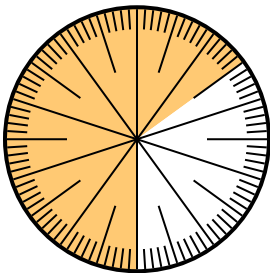
- 5) Expresa la porción de {PALABRA} como un decimal del entero.



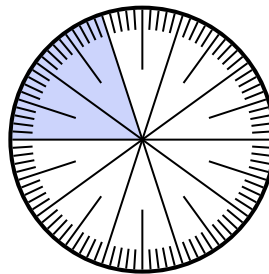
- 6) Expresa la porción de {PALABRA} como un decimal del entero.



- 7) Expresa la porción de {PALABRA} como un decimal del entero.



- 8) Expresa la porción de {PALABRA} como una fracción del todo con un 100 como denominador.



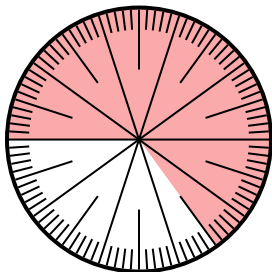
Respuestas

1. $\frac{35}{100}$
2. **0.15**
3. **0.1**
4. $\frac{30}{100}$
5. **0.35**
6. **0.9**
7. **0.35**
8. $\frac{80}{100}$

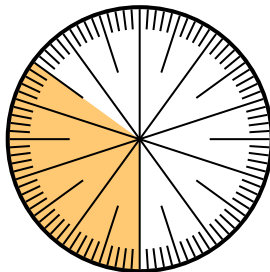


Resuelve cada problema.

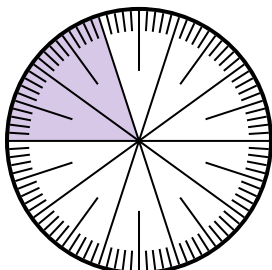
- 1) Expresa la porción de {PALABRA} como una fracción del todo con un 100 como denominador.



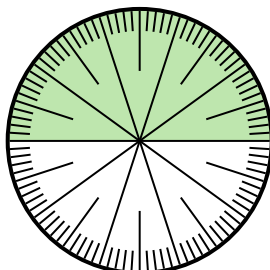
- 2) Expresa la porción de {PALABRA} como un decimal del entero.




- 3) Expresa la porción de {PALABRA} como una fracción del todo con un 10 como denominador.



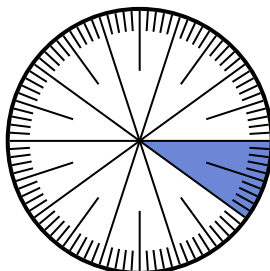
- 4) Expresa la porción de {PALABRA} como una fracción del todo con un 100 como denominador.



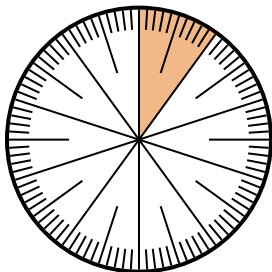
- 5) Expresa la porción de {PALABRA} como un decimal del entero.




- 6) Expresa la porción de {PALABRA} como un decimal del entero.



- 7) Expresa la porción de {PALABRA} como una fracción del todo con un 100 como denominador.



- 8) Expresa la porción de {PALABRA} como una fracción del todo con un 100 como denominador.



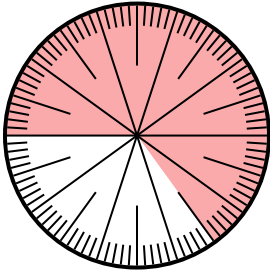
Respuestas

1. _____
2. _____
3. _____
4. _____
5. _____
6. _____
7. _____
8. _____

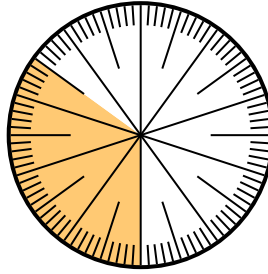


Resuelve cada problema.

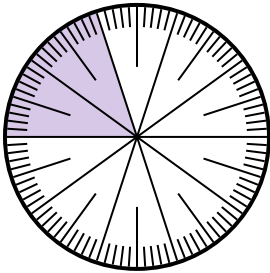
- 1) Expresa la porción de {PALABRA} como una fracción del todo con un 100 como denominador.



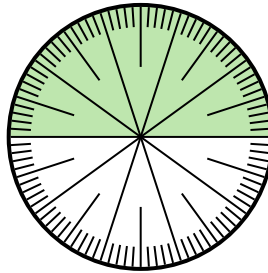
- 2) Expresa la porción de {PALABRA} como un decimal del entero.




- 3) Expresa la porción de {PALABRA} como una fracción del todo con un 10 como denominador.



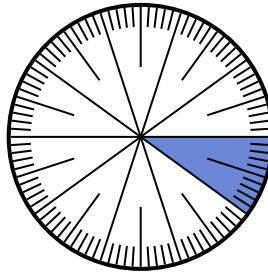
- 4) Expresa la porción de {PALABRA} como una fracción del todo con un 100 como denominador.



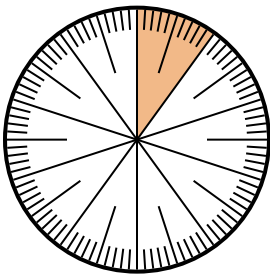
- 5) Expresa la porción de {PALABRA} como un decimal del entero.



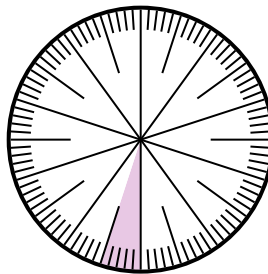
- 6) Expresa la porción de {PALABRA} como un decimal del entero.



- 7) Expresa la porción de {PALABRA} como una fracción del todo con un 100 como denominador.



- 8) Expresa la porción de {PALABRA} como una fracción del todo con un 100 como denominador.



Respuestas

1. $\frac{65}{100}$

2. **0.65**

3. $\frac{2}{10}$

4. $\frac{90}{100}$

5. **0.8**

6. **0.2**

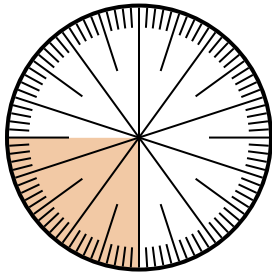
7. $\frac{80}{100}$

8. $\frac{13}{100}$

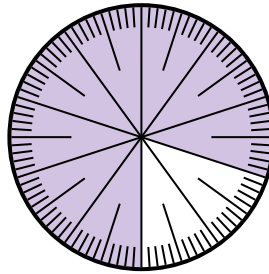


Resuelve cada problema.

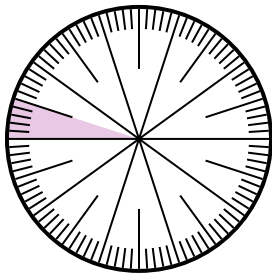
- 1) Expresa la porción de {PALABRA} como una fracción del todo con un 100 como denominador.



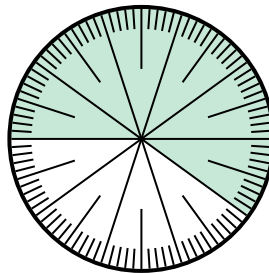
- 2) Expresa la porción de {PALABRA} como un decimal del entero.



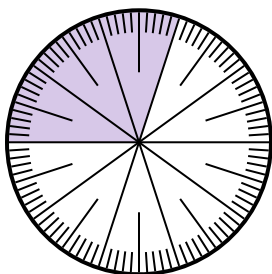
- 3) Expresa la porción de {PALABRA} como una fracción del todo con un 100 como denominador.



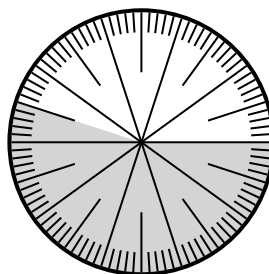
- 4) Expresa la porción de {PALABRA} como una fracción del todo con un 100 como denominador.



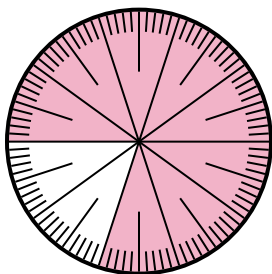
- 5) Expresa la porción de {PALABRA} como una fracción del todo con un 100 como denominador.



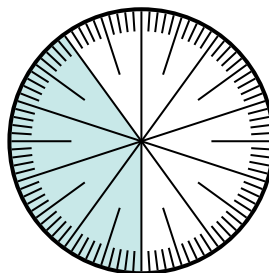
- 6) Expresa la porción de {PALABRA} como una fracción del todo con un 100 como denominador.



- 7) Expresa la porción de {PALABRA} como una fracción del todo con un 100 como denominador.



- 8) Expresa la porción de {PALABRA} como un decimal del entero.



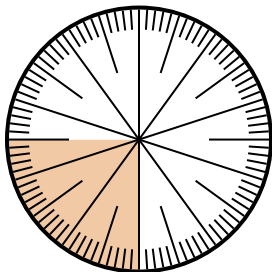
Respuestas

1. _____
2. _____
3. _____
4. _____
5. _____
6. _____
7. _____
8. _____

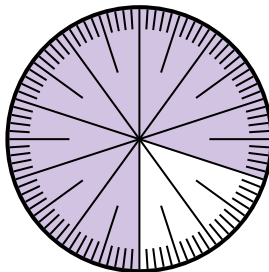


Resuelve cada problema.

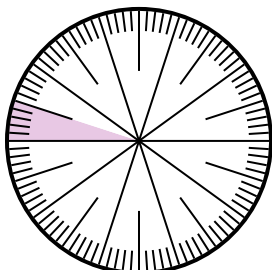
- 1) Expresa la porción de {PALABRA} como una fracción del todo con un 100 como denominador.



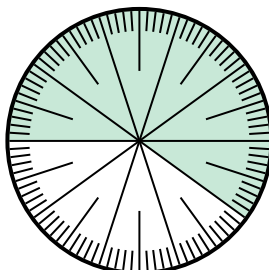
- 2) Expresa la porción de {PALABRA} como un decimal del entero.



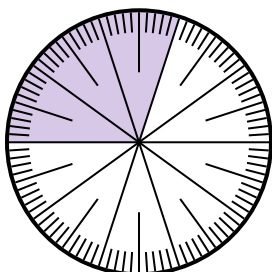
- 3) Expresa la porción de {PALABRA} como una fracción del todo con un 100 como denominador.



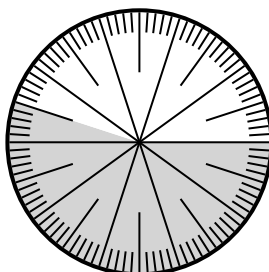
- 4) Expresa la porción de {PALABRA} como una fracción del todo con un 100 como denominador.



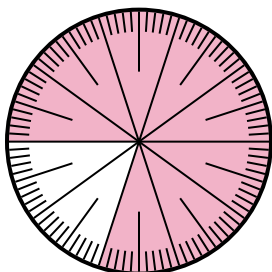
- 5) Expresa la porción de {PALABRA} como una fracción del todo con un 100 como denominador.



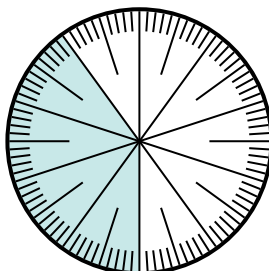
- 6) Expresa la porción de {PALABRA} como una fracción del todo con un 100 como denominador.



- 7) Expresa la porción de {PALABRA} como una fracción del todo con un 100 como denominador.



- 8) Expresa la porción de {PALABRA} como un decimal del entero.



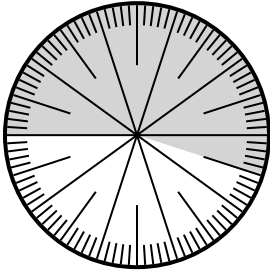
Respuestas

1. $\frac{25}{100}$
2. **0.2**
3. $\frac{5}{100}$
4. $\frac{45}{100}$
5. $\frac{30}{100}$
6. $\frac{60}{100}$
7. $\frac{20}{100}$
8. **0.6**

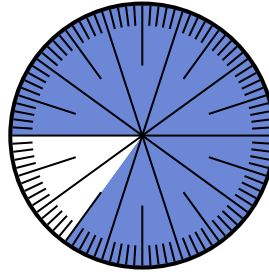


Resuelve cada problema.

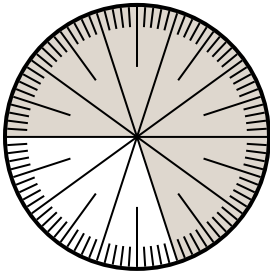
- 1) Expresa la porción de {PALABRA} como un decimal del entero.



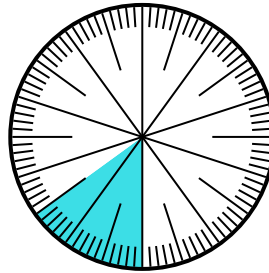
- 2) Expresa la porción de {PALABRA} como una fracción del todo con un 100 como denominador.



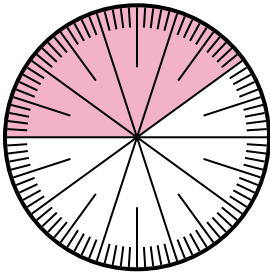
- 3) Expresa la porción de {PALABRA} como una fracción del todo con un 10 como denominador.



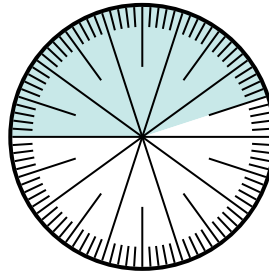
- 4) Expresa la porción de {PALABRA} como una fracción del todo con un 100 como denominador.



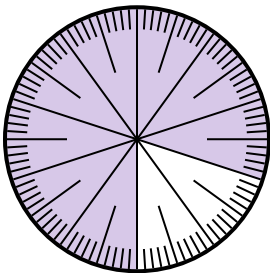
- 5) Expresa la porción de {PALABRA} como una fracción del todo con un 10 como denominador.



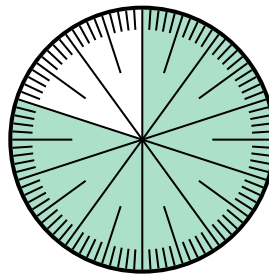
- 6) Expresa la porción de {PALABRA} como un decimal del entero.



- 7) Expresa la porción de {PALABRA} como un decimal del entero.



- 8) Expresa la porción de {PALABRA} como una fracción del todo con un 100 como denominador.



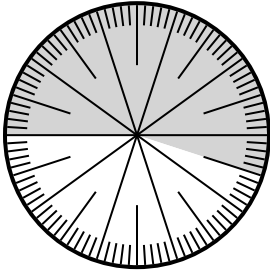
Respuestas

1. _____
2. _____
3. _____
4. _____
5. _____
6. _____
7. _____
8. _____

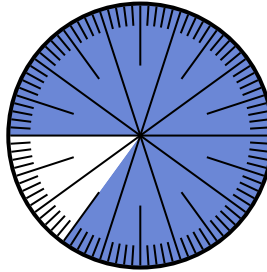


Resuelve cada problema.

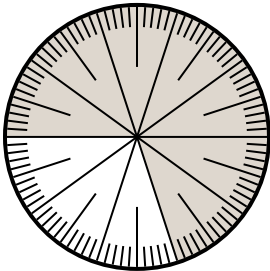
- 1) Expresa la porción de {PALABRA} como un decimal del entero.



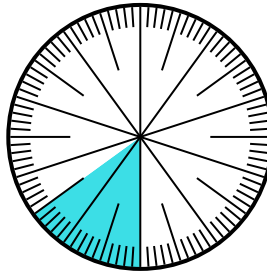
- 2) Expresa la porción de {PALABRA} como una fracción del todo con un 100 como denominador.



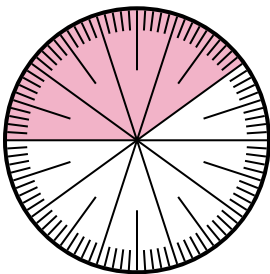
- 3) Expresa la porción de {PALABRA} como una fracción del todo con un 10 como denominador.



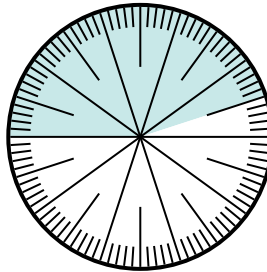
- 4) Expresa la porción de {PALABRA} como una fracción del todo con un 100 como denominador.



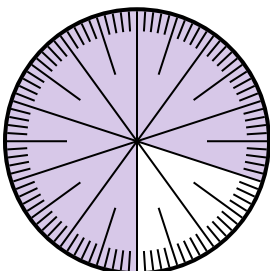
- 5) Expresa la porción de {PALABRA} como una fracción del todo con un 10 como denominador.



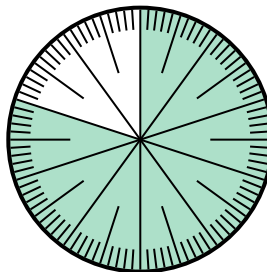
- 6) Expresa la porción de {PALABRA} como un decimal del entero.



- 7) Expresa la porción de {PALABRA} como un decimal del entero.



- 8) Expresa la porción de {PALABRA} como una fracción del todo con un 100 como denominador.




Respuestas

1. 0.55
2. $\frac{85}{100}$
3. $\frac{3}{10}$
4. $\frac{85}{100}$
5. $\frac{6}{10}$
6. 0.55
7. 0.8
8. $\frac{20}{100}$

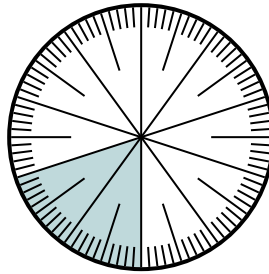


Resuelve cada problema.

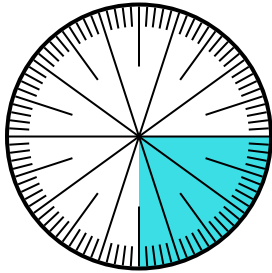
- 1) Expresa la porción de {PALABRA} como una fracción del todo con un 100 como denominador.



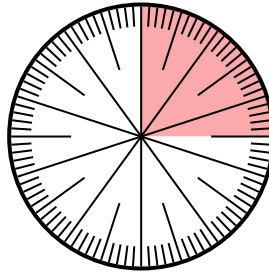
- 2) Expresa la porción de {PALABRA} como un decimal del entero.



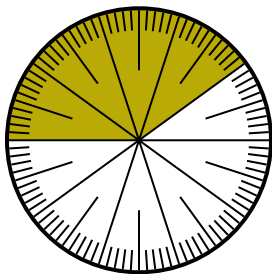
- 3) Expresa la porción de {PALABRA} como un decimal del entero.



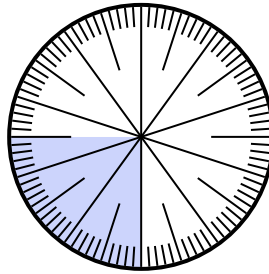
- 4) Expresa la porción de {PALABRA} como un decimal del entero.



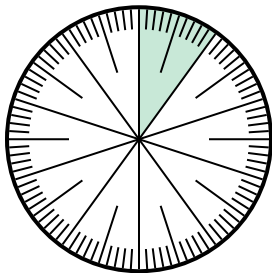
- 5) Expresa la porción de {PALABRA} como una fracción del todo con un 100 como denominador.



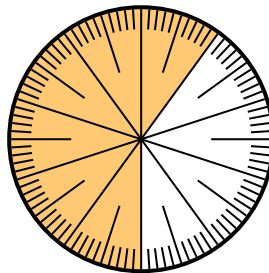
- 6) Expresa la porción de {PALABRA} como un decimal del entero.



- 7) Expresa la porción de {PALABRA} como un decimal del entero.



- 8) Expresa la porción de {PALABRA} como un decimal del entero.




Respuestas

1. _____
2. _____
3. _____
4. _____
5. _____
6. _____
7. _____
8. _____

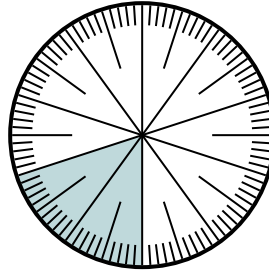


Resuelve cada problema.

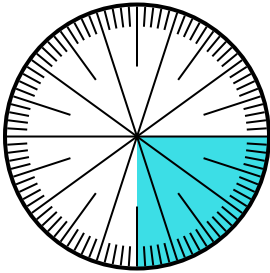
- 1) Expresa la porción de {PALABRA} como una fracción del todo con un 100 como denominador.



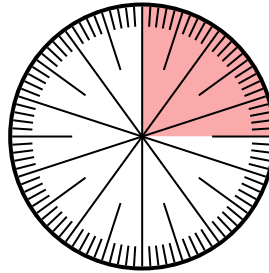
- 2) Expresa la porción de {PALABRA} como un decimal del entero.



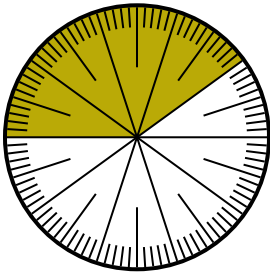
- 3) Expresa la porción de {PALABRA} como un decimal del entero.



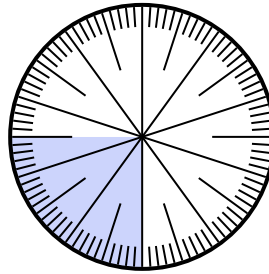
- 4) Expresa la porción de {PALABRA} como un decimal del entero.



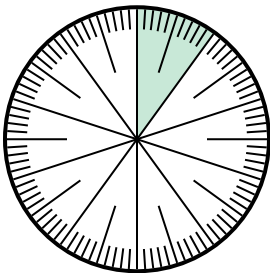
- 5) Expresa la porción de {PALABRA} como una fracción del todo con un 100 como denominador.



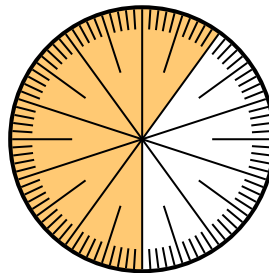
- 6) Expresa la porción de {PALABRA} como un decimal del entero.



- 7) Expresa la porción de {PALABRA} como un decimal del entero.



- 8) Expresa la porción de {PALABRA} como un decimal del entero.



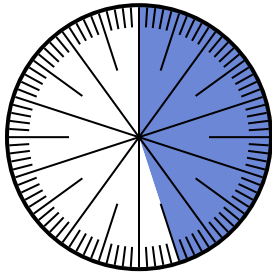
Respuestas

1. $\frac{15}{100}$
2. **0.2**
3. **0.25**
4. **0.75**
5. $\frac{60}{100}$
6. **0.75**
7. **0.9**
8. **0.6**

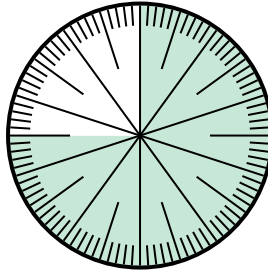


Resuelve cada problema.

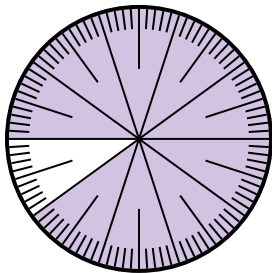
- 1) Expresa la porción de {PALABRA} como un decimal del entero.



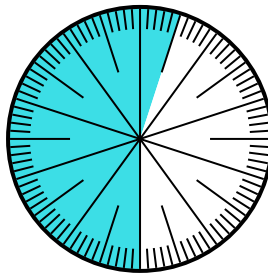
- 2) Expresa la porción de {PALABRA} como una fracción del todo con un 100 como denominador.



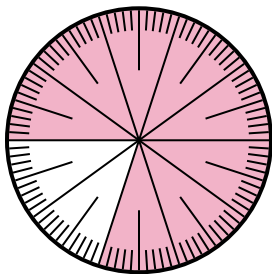
- 3) Expresa la porción de {PALABRA} como una fracción del todo con un 100 como denominador.




- 4) Expresa la porción de {PALABRA} como una fracción del todo con un 100 como denominador.




- 5) Expresa la porción de {PALABRA} como una fracción del todo con un 100 como denominador.



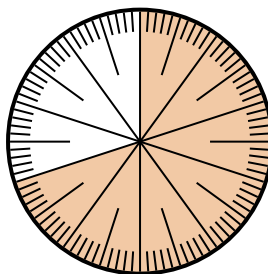
- 6) Expresa la porción de {PALABRA} como un decimal del entero.



- 7) Expresa la porción de {PALABRA} como una fracción del todo con un 100 como denominador.



- 8) Expresa la porción de {PALABRA} como una fracción del todo con un 100 como denominador.



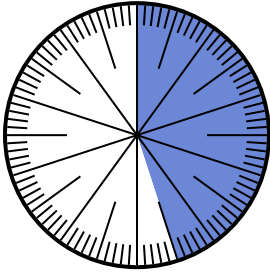
Respuestas

1. _____
2. _____
3. _____
4. _____
5. _____
6. _____
7. _____
8. _____




Resuelve cada problema.

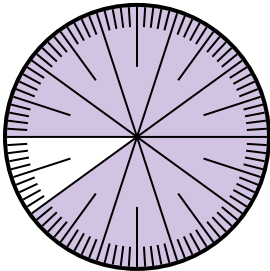
- 1) Expresa la porción de {PALABRA} como un decimal del entero.



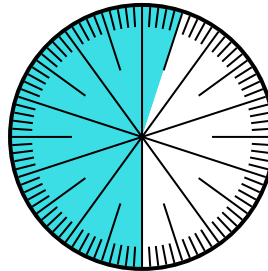
- 2) Expresa la porción de {PALABRA} como una fracción del todo con un 100 como denominador.



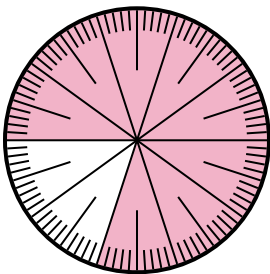
- 3) Expresa la porción de {PALABRA} como una fracción del todo con un 100 como denominador.




- 4) Expresa la porción de {PALABRA} como una fracción del todo con un 100 como denominador.




- 5) Expresa la porción de {PALABRA} como una fracción del todo con un 100 como denominador.



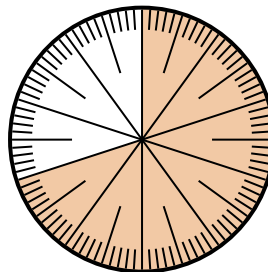
- 6) Expresa la porción de {PALABRA} como un decimal del entero.



- 7) Expresa la porción de {PALABRA} como una fracción del todo con un 100 como denominador.



- 8) Expresa la porción de {PALABRA} como una fracción del todo con un 100 como denominador.



Respuestas

1. 0.55

2. $\frac{25}{100}$

3. $\frac{80}{100}$

4. $\frac{55}{100}$

5. $\frac{80}{100}$

6. 0.8

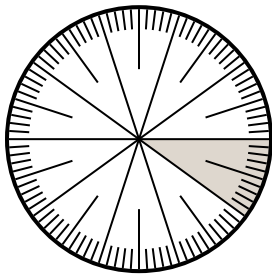
7. $\frac{5}{100}$

8. $\frac{70}{100}$

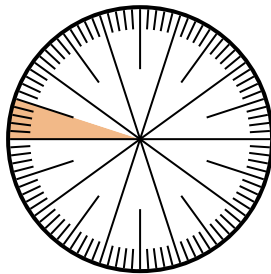


Resuelve cada problema.

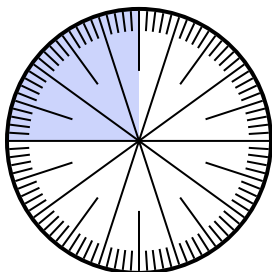
- 1) Expresa la porción de {PALABRA} como un decimal del entero.



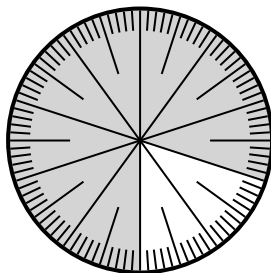
- 2) Expresa la porción de {PALABRA} como un decimal del entero.



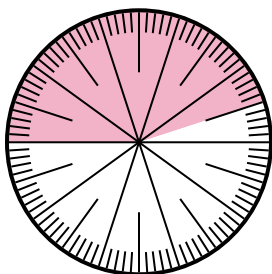
- 3) Expresa la porción de {PALABRA} como una fracción del todo con un 100 como denominador.



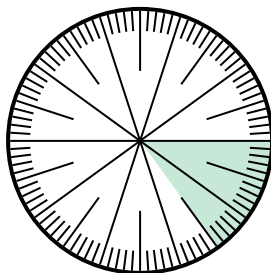
- 4) Expresa la porción de {PALABRA} como un decimal del entero.



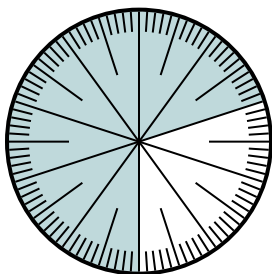
- 5) Expresa la porción de {PALABRA} como una fracción del todo con un 100 como denominador.



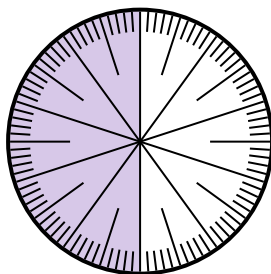
- 6) Expresa la porción de {PALABRA} como un decimal del entero.



- 7) Expresa la porción de {PALABRA} como una fracción del todo con un 100 como denominador.



- 8) Expresa la porción de {PALABRA} como una fracción del todo con un 10 como denominador.



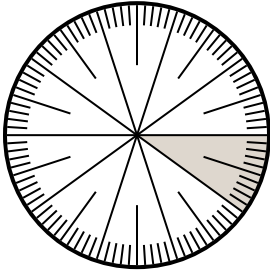
Respuestas

1. _____
2. _____
3. _____
4. _____
5. _____
6. _____
7. _____
8. _____

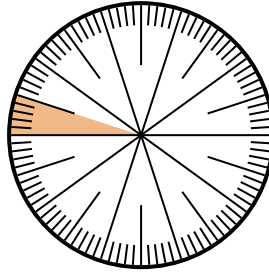


Resuelve cada problema.

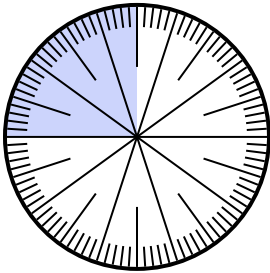
- 1) Expresa la porción de {PALABRA} como un decimal del entero.



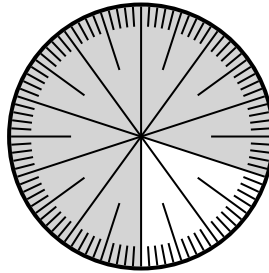
- 2) Expresa la porción de {PALABRA} como un decimal del entero.



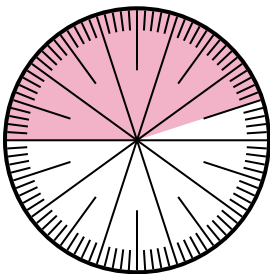
- 3) Expresa la porción de {PALABRA} como una fracción del todo con un 100 como denominador.



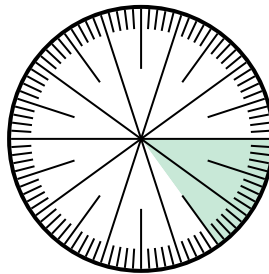
- 4) Expresa la porción de {PALABRA} como un decimal del entero.



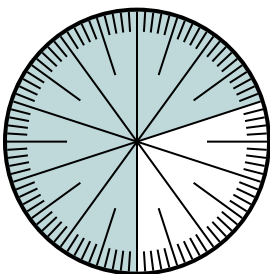
- 5) Expresa la porción de {PALABRA} como una fracción del todo con un 100 como denominador.



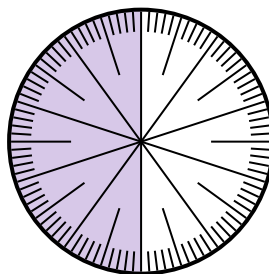
- 6) Expresa la porción de {PALABRA} como un decimal del entero.



- 7) Expresa la porción de {PALABRA} como una fracción del todo con un 100 como denominador.



- 8) Expresa la porción de {PALABRA} como una fracción del todo con un 10 como denominador.



Respuestas

1. 0.9

2. 0.95

3. $\frac{25}{100}$

4. 0.2

5. $\frac{55}{100}$

6. 0.15

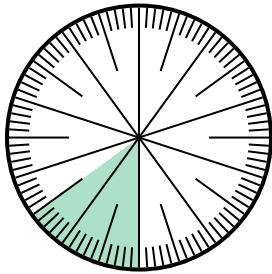
7. $\frac{30}{100}$

8. $\frac{5}{10}$

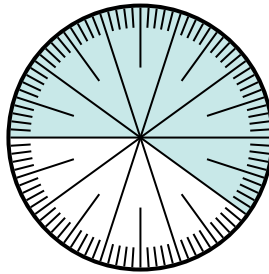


Resuelve cada problema.

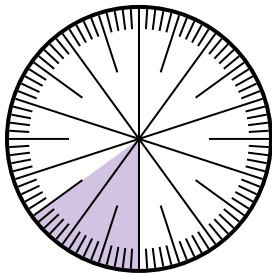
- 1) Expresa la porción de {PALABRA} como una fracción del todo con un 100 como denominador.



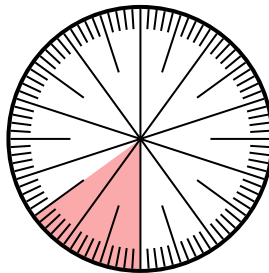
- 2) Expresa la porción de {PALABRA} como una fracción del todo con un 100 como denominador.



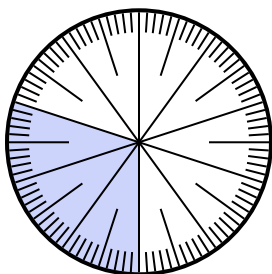
- 3) Expresa la porción de {PALABRA} como una fracción del todo con un 100 como denominador.



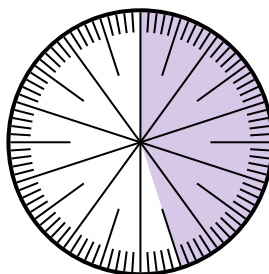
- 4) Expresa la porción de {PALABRA} como una fracción del todo con un 100 como denominador.



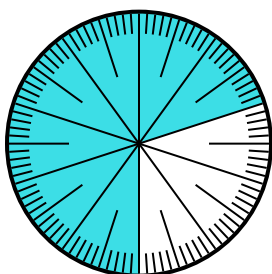
- 5) Expresa la porción de {PALABRA} como una fracción del todo con un 100 como denominador.



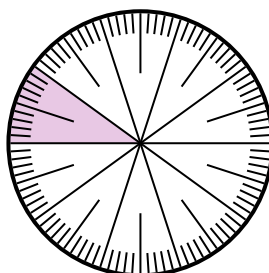
- 6) Expresa la porción de {PALABRA} como una fracción del todo con un 100 como denominador.



- 7) Expresa la porción de {PALABRA} como una fracción del todo con un 100 como denominador.



- 8) Expresa la porción de {PALABRA} como un decimal del entero.



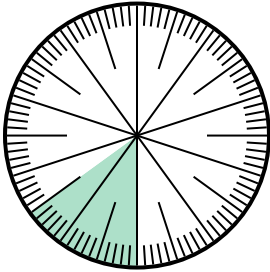
Respuestas

1. _____
2. _____
3. _____
4. _____
5. _____
6. _____
7. _____
8. _____

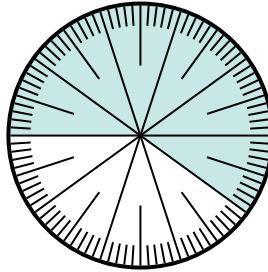


Resuelve cada problema.

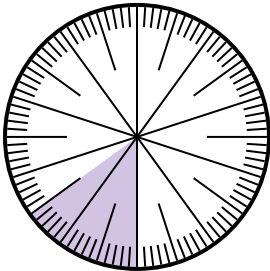
- 1) Expresa la porción de {PALABRA} como una fracción del todo con un 100 como denominador.



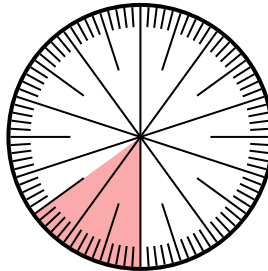
- 2) Expresa la porción de {PALABRA} como una fracción del todo con un 100 como denominador.



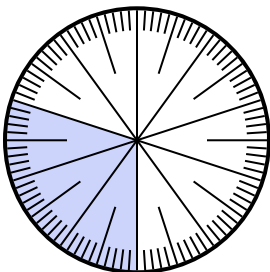
- 3) Expresa la porción de {PALABRA} como una fracción del todo con un 100 como denominador.



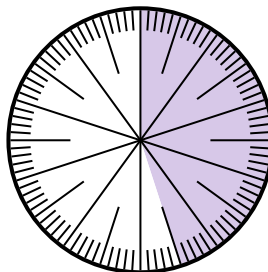
- 4) Expresa la porción de {PALABRA} como una fracción del todo con un 100 como denominador.



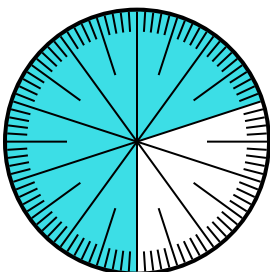
- 5) Expresa la porción de {PALABRA} como una fracción del todo con un 100 como denominador.



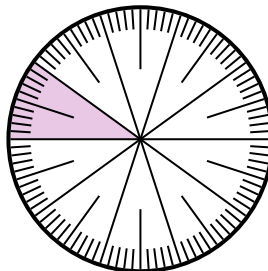
- 6) Expresa la porción de {PALABRA} como una fracción del todo con un 100 como denominador.



- 7) Expresa la porción de {PALABRA} como una fracción del todo con un 100 como denominador.



- 8) Expresa la porción de {PALABRA} como un decimal del entero.



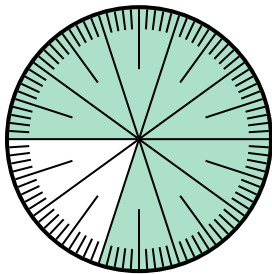
Respuestas

1. $\frac{15}{100}$
2. $\frac{60}{100}$
3. $\frac{15}{100}$
4. $\frac{30}{100}$
5. $\frac{45}{100}$
6. $\frac{70}{100}$
7. $\frac{85}{100}$
8. **0.1**

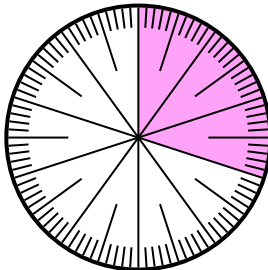


Resuelve cada problema.

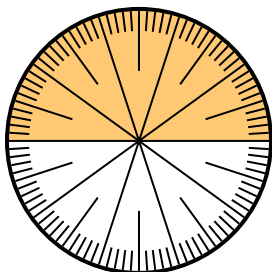
- 1) Expresa la porción de {PALABRA} como un decimal del entero.



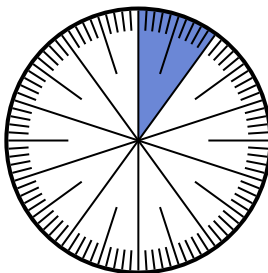
- 2) Expresa la porción de {PALABRA} como una fracción del todo con un 100 como denominador.



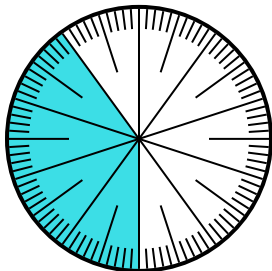
- 3) Expresa la porción de {PALABRA} como una fracción del todo con un 100 como denominador.



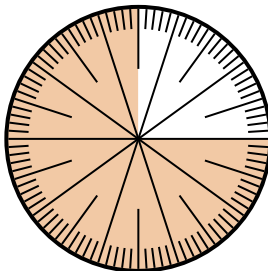
- 4) Expresa la porción de {PALABRA} como un decimal del entero.



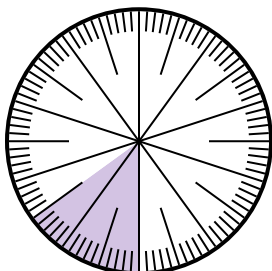
- 5) Expresa la porción de {PALABRA} como un decimal del entero.



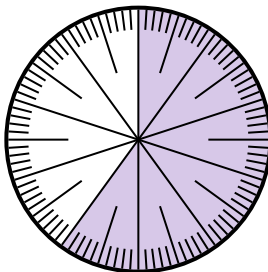
- 6) Expresa la porción de {PALABRA} como un decimal del entero.



- 7) Expresa la porción de {PALABRA} como un decimal del entero.



- 8) Expresa la porción de {PALABRA} como una fracción del todo con un 100 como denominador.




Respuestas

1. _____
2. _____
3. _____
4. _____
5. _____
6. _____
7. _____
8. _____

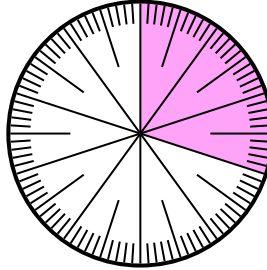


Resuelve cada problema.

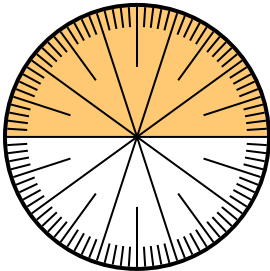
- 1) Expresa la porción de {PALABRA} como un decimal del entero.



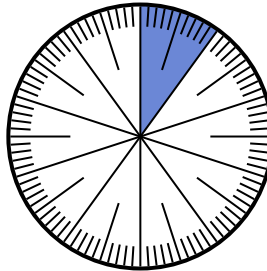
- 2) Expresa la porción de {PALABRA} como una fracción del todo con un 100 como denominador.



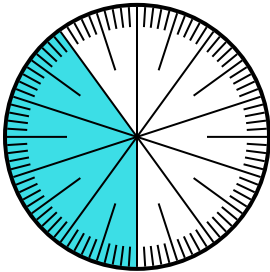
- 3) Expresa la porción de {PALABRA} como una fracción del todo con un 100 como denominador.



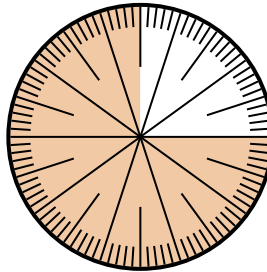
- 4) Expresa la porción de {PALABRA} como un decimal del entero.



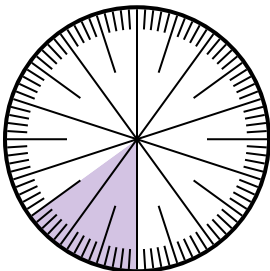
- 5) Expresa la porción de {PALABRA} como un decimal del entero.



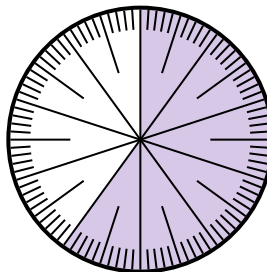
- 6) Expresa la porción de {PALABRA} como un decimal del entero.



- 7) Expresa la porción de {PALABRA} como un decimal del entero.



- 8) Expresa la porción de {PALABRA} como una fracción del todo con un 100 como denominador.



Respuestas

1. 0.8

2. $\frac{30}{100}$

3. $\frac{50}{100}$

4. 0.9

5. 0.4

6. 0.25

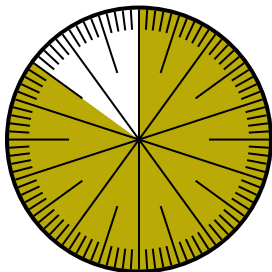
7. 0.85

8. $\frac{40}{100}$

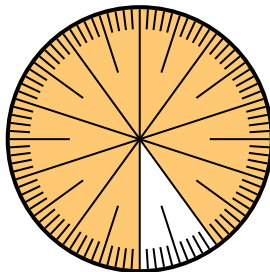


Resuelve cada problema.

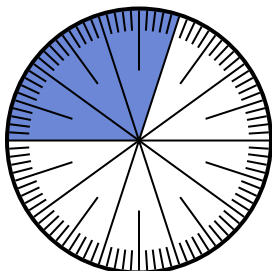
- 1) Expresa la porción de {PALABRA} como una fracción del todo con un 100 como denominador.



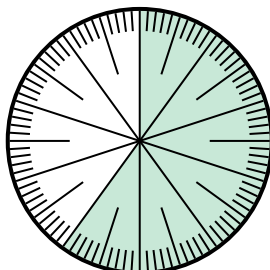
- 2) Expresa la porción de {PALABRA} como un decimal del entero.



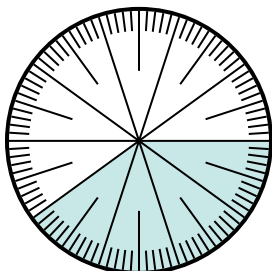
- 3) Expresa la porción de {PALABRA} como un decimal del entero.



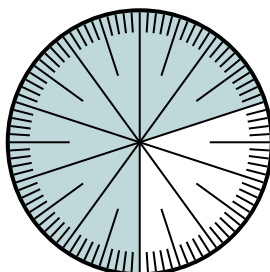
- 4) Expresa la porción de {PALABRA} como una fracción del todo con un 10 como denominador.



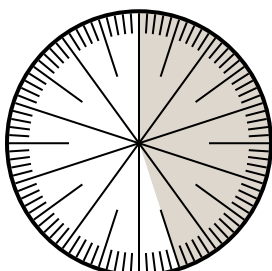
- 5) Expresa la porción de {PALABRA} como un decimal del entero.



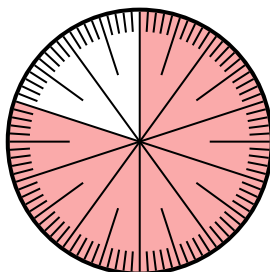
- 6) Expresa la porción de {PALABRA} como una fracción del todo con un 100 como denominador.



- 7) Expresa la porción de {PALABRA} como un decimal del entero.



- 8) Expresa la porción de {PALABRA} como una fracción del todo con un 100 como denominador.



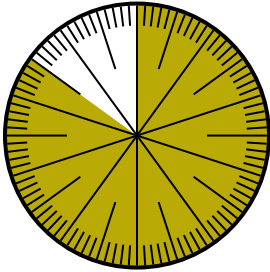
Respuestas

1. _____
2. _____
3. _____
4. _____
5. _____
6. _____
7. _____
8. _____

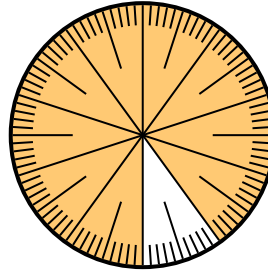


Resuelve cada problema.

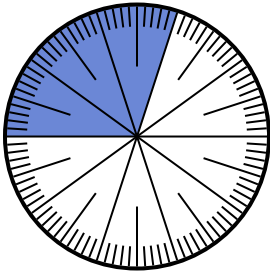
- 1) Expresa la porción de {PALABRA} como una fracción del todo con un 100 como denominador.



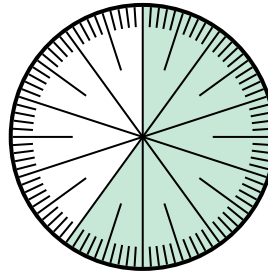
- 2) Expresa la porción de {PALABRA} como un decimal del entero.



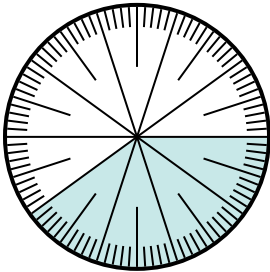
- 3) Expresa la porción de {PALABRA} como un decimal del entero.



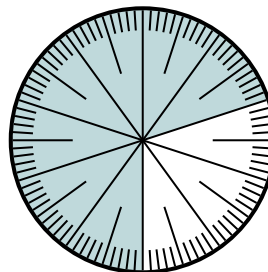
- 4) Expresa la porción de {PALABRA} como una fracción del todo con un 10 como denominador.




- 5) Expresa la porción de {PALABRA} como un decimal del entero.



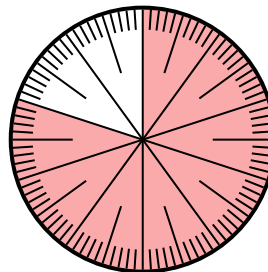
- 6) Expresa la porción de {PALABRA} como una fracción del todo con un 100 como denominador.



- 7) Expresa la porción de {PALABRA} como un decimal del entero.



- 8) Expresa la porción de {PALABRA} como una fracción del todo con un 100 como denominador.



Respuestas

1. $\frac{85}{100}$

2. **0.9**

3. **0.3**

4. $\frac{6}{10}$

5. **0.4**

6. $\frac{70}{100}$

7. **0.45**

8. $\frac{80}{100}$