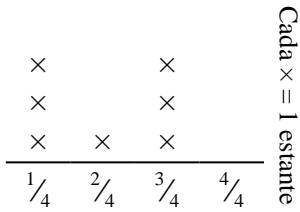




Resuelve cada problema.

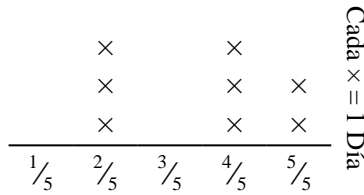
Respuestas

- 1) El diagrama muestra el peso (en kilogramos) que cada estante del gabinete está sosteniendo.



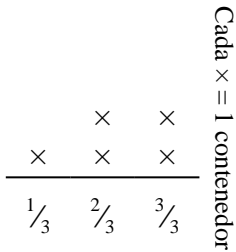
Encuentra la cantidad de peso que cada estante tendría si el peso se redistribuye equitativamente.

- 2) El diagrama muestra la cantidad de agua que una planta recibió (en tazas) en el transcurso de {8} días.



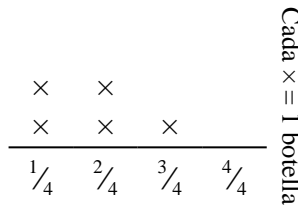
Encuentra cuántas tazas de agua la planta habría recibido si fue la misma cantidad cada día.

- 3) El diagrama muestra la cantidad de líquido (en litros) en diferentes contenedores.



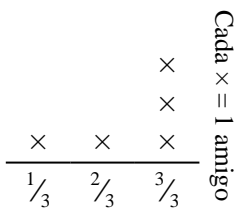
Encuentra la cantidad de líquido que cada contenedor tendría si la cantidad total se redistribuye equitativamente.

- 4) El diagrama muestra el peso (en gramos) de frascos de vitaminas.



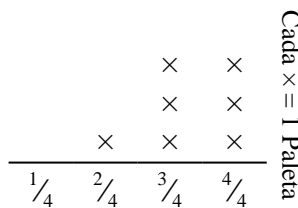
Si se redistribuyeran las vitaminas, para que cada botella pesara la misma cantidad, ¿Cuánto pesaría cada botella?

- 5) El diagrama muestra las libras de dulces que un grupo de amigos recibió.



Si se divide el total de caramelos en forma uniforme, ¿cuánto recibiría cada amigo?

- 6) El diagrama muestra el peso (en toneladas) de cajas en paletas.



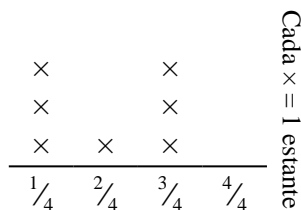
Si el peso se redistribuye uniformemente, ¿Cuánto peso habría en cada paleta?

1. _____
2. _____
3. _____
4. _____
5. _____
6. _____



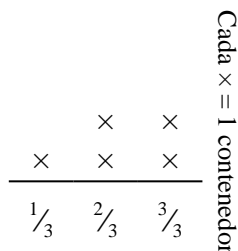
Resuelve cada problema.

- 1) El diagrama muestra el peso (en kilogramos) que cada estante del gabinete está sosteniendo.



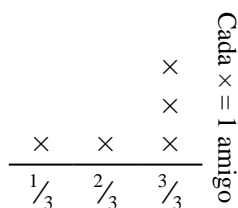
Encuentra la cantidad de peso que cada estante tendría si el peso se redistribuye equitativamente.

- 3) El diagrama muestra la cantidad de líquido (en litros) en diferentes contenedores.



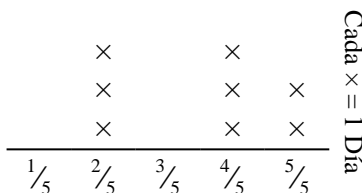
Encuentra la cantidad de líquido que cada contenedor tendría si la cantidad total se redistribuye equitativamente.

- 5) El diagrama muestra las libras de dulces que un grupo de amigos recibió.



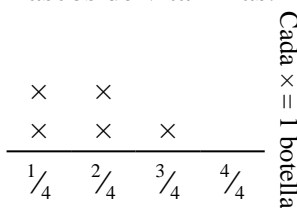
Si se divide el total de caramelos en forma uniforme, ¿cuánto recibiría cada amigo?

- 2) El diagrama muestra la cantidad de agua que una planta recibió (en tazas) en el transcurso de {8} días.



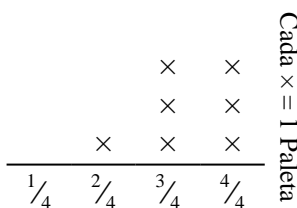
Encuentra cuántas tazas de agua la planta habría recibido si fue la misma cantidad cada día.

- 4) El diagrama muestra el peso (en gramos) de frascos de vitaminas.



Si se redistribuyeran las vitaminas, para que cada botella pesara la misma cantidad, ¿Cuánto pesaría cada botella?

- 6) El diagrama muestra el peso (en toneladas) de cajas en paletas.



Si el peso se redistribuye uniformemente, ¿Cuánto peso habría en cada paleta?

Respuestas

1. $\frac{14}{28} = \frac{1}{2}$

2. $\frac{28}{40} = \frac{7}{10}$

3. $\frac{11}{15}$

4. $\frac{9}{20}$

5. $\frac{12}{15} = \frac{4}{5}$

6. $\frac{23}{28}$