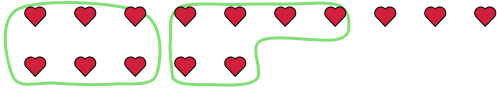




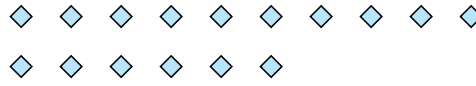
Usa los ejemplos a continuación para resolver las preguntas.

Respuestas

Ej) Hay 15 formas a continuación. ¿Cuántos grupos de 6 puedes hacer con ellos? ¿Cuántas sobran?



1) Hay 16 formas a continuación. ¿Cuántos grupos de 7 puedes hacer con ellos? ¿Cuántas sobran?



Ej. 2 3

1. _____

2. _____

3. _____

4. _____

5. _____

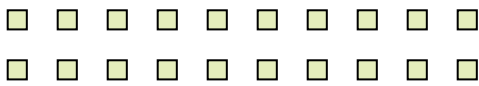
6. _____

7. _____

8. _____

9. _____

2) Hay 20 formas a continuación. ¿Cuántos grupos de 6 puedes hacer con ellos? ¿Cuántas sobran?



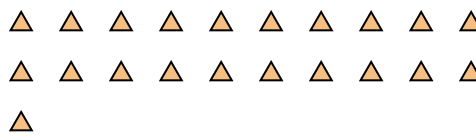
3) Hay 21 formas a continuación. ¿Cuántos grupos de 4 puedes hacer con ellos? ¿Cuántas sobran?



4) Hay 11 formas a continuación. ¿Cuántos grupos de 9 puedes hacer con ellos? ¿Cuántas sobran?



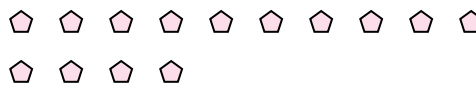
5) Hay 21 formas a continuación. ¿Cuántos grupos de 6 puedes hacer con ellos? ¿Cuántas sobran?



6) Hay 12 formas a continuación. ¿Cuántos grupos de 3 puedes hacer con ellos? ¿Cuántas sobran?



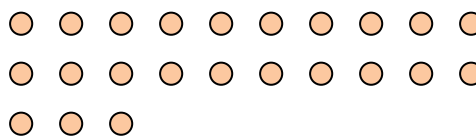
7) Hay 14 formas a continuación. ¿Cuántos grupos de 5 puedes hacer con ellos? ¿Cuántas sobran?



8) Hay 12 formas a continuación. ¿Cuántos grupos de 7 puedes hacer con ellos? ¿Cuántas sobran?



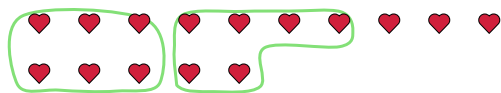
9) Hay 23 formas a continuación. ¿Cuántos grupos de 5 puedes hacer con ellos? ¿Cuántas sobran?



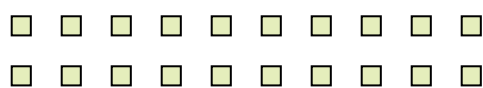


Usa los ejemplos a continuación para resolver las preguntas.

Ej) Hay 15 formas a continuación. ¿Cuántos grupos de 6 puedes hacer con ellos? ¿Cuántas sobran?



2) Hay 20 formas a continuación. ¿Cuántos grupos de 6 puedes hacer con ellos? ¿Cuántas sobran?



4) Hay 11 formas a continuación. ¿Cuántos grupos de 9 puedes hacer con ellos? ¿Cuántas sobran?



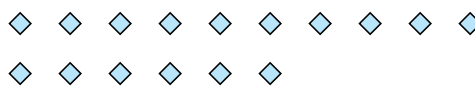
6) Hay 12 formas a continuación. ¿Cuántos grupos de 3 puedes hacer con ellos? ¿Cuántas sobran?



8) Hay 12 formas a continuación. ¿Cuántos grupos de 7 puedes hacer con ellos? ¿Cuántas sobran?




1) Hay 16 formas a continuación. ¿Cuántos grupos de 7 puedes hacer con ellos? ¿Cuántas sobran?



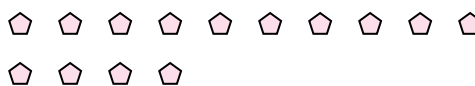
3) Hay 21 formas a continuación. ¿Cuántos grupos de 4 puedes hacer con ellos? ¿Cuántas sobran?



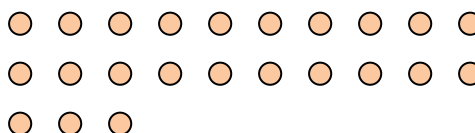
5) Hay 21 formas a continuación. ¿Cuántos grupos de 6 puedes hacer con ellos? ¿Cuántas sobran?



7) Hay 14 formas a continuación. ¿Cuántos grupos de 5 puedes hacer con ellos? ¿Cuántas sobran?



9) Hay 23 formas a continuación. ¿Cuántos grupos de 5 puedes hacer con ellos? ¿Cuántas sobran?



Respuestas

Ej. 2 3

1. 2 2

2. 3 2

3. 5 1

4. 1 2

5. 3 3

6. 4 0

7. 2 4

8. 1 5

9. 4 3