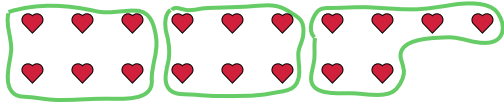




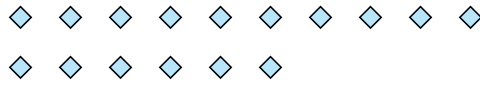
Usa las formas proporcionadas para resolver las preguntas.

Respuestas

Ej) ¿Cuántos grupos de 6 se pueden hacer con las 18 formas de abajo?




1) ¿Cuántos grupos de 8 se pueden hacer con las 16 formas de abajo?



Ej. 3

2) ¿Cuántos grupos de 6 se pueden hacer con las 36 formas de abajo?



3) ¿Cuántos grupos de 5 se pueden hacer con las 25 formas de abajo?



1. _____

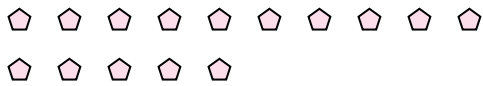
2. _____

3. _____

4. _____

5. _____

4) ¿Cuántos grupos de 5 se pueden hacer con las 15 formas de abajo?



5) ¿Cuántos grupos de 3 se pueden hacer con las 6 formas de abajo?



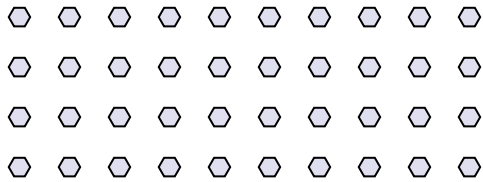
6. _____

7. _____

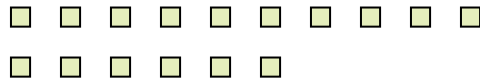
8. _____

9. _____

6) ¿Cuántos grupos de 4 se pueden hacer con las 40 formas de abajo?




7) ¿Cuántos grupos de 2 se pueden hacer con las 16 formas de abajo?



10. _____

11. _____

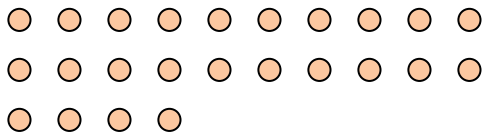
8) ¿Cuántos grupos de 6 se pueden hacer con las 30 formas de abajo?



9) ¿Cuántos grupos de 7 se pueden hacer con las 21 formas de abajo?



10) ¿Cuántos grupos de 8 se pueden hacer con las 24 formas de abajo?



11) ¿Cuántos grupos de 2 se pueden hacer con las 22 formas de abajo?

