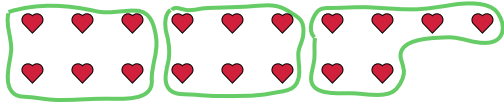




Usa las formas proporcionadas para resolver las preguntas.

Respuestas

Ej) ¿Cuántos grupos de 6 se pueden hacer con las 18 formas de abajo?

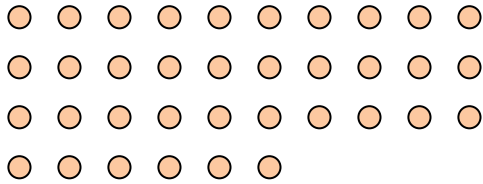


1) ¿Cuántos grupos de 2 se pueden hacer con las 26 formas de abajo?




Ej. 3


2) ¿Cuántos grupos de 9 se pueden hacer con las 36 formas de abajo?



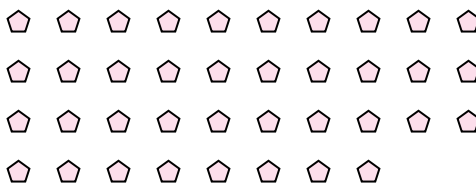
3) ¿Cuántos grupos de 3 se pueden hacer con las 24 formas de abajo?



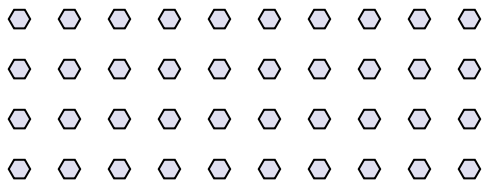
4) ¿Cuántos grupos de 7 se pueden hacer con las 35 formas de abajo?




5) ¿Cuántos grupos de 2 se pueden hacer con las 38 formas de abajo?



6) ¿Cuántos grupos de 8 se pueden hacer con las 40 formas de abajo?



7) ¿Cuántos grupos de 9 se pueden hacer con las 36 formas de abajo?



8) ¿Cuántos grupos de 4 se pueden hacer con las 40 formas de abajo?




9) ¿Cuántos grupos de 7 se pueden hacer con las 35 formas de abajo?



10) ¿Cuántos grupos de 5 se pueden hacer con las 10 formas de abajo?



11) ¿Cuántos grupos de 9 se pueden hacer con las 27 formas de abajo?



- 1. _____
- 2. _____
- 3. _____
- 4. _____
- 5. _____
- 6. _____
- 7. _____
- 8. _____
- 9. _____
- 10. _____
- 11. _____

