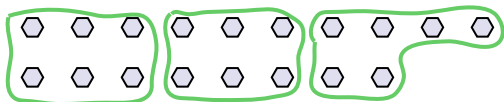




Usa las formas proporcionadas para resolver las preguntas.

Respuestas

Ej) ¿Cuántos grupos de 6 se pueden hacer con las 18 formas de abajo?




1) ¿Cuántos grupos de 3 se pueden hacer con las 27 formas de abajo?

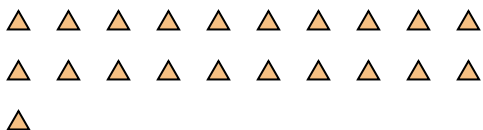


Ej. 3


2) ¿Cuántos grupos de 3 se pueden hacer con las 33 formas de abajo?



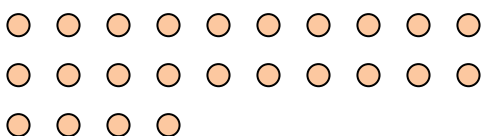
3) ¿Cuántos grupos de 7 se pueden hacer con las 21 formas de abajo?




4) ¿Cuántos grupos de 7 se pueden hacer con las 14 formas de abajo?




5) ¿Cuántos grupos de 8 se pueden hacer con las 24 formas de abajo?




6) ¿Cuántos grupos de 4 se pueden hacer con las 40 formas de abajo?



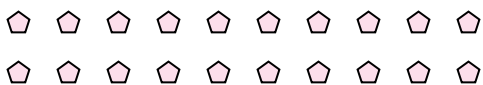
7) ¿Cuántos grupos de 8 se pueden hacer con las 32 formas de abajo?



8) ¿Cuántos grupos de 7 se pueden hacer con las 28 formas de abajo?



9) ¿Cuántos grupos de 5 se pueden hacer con las 20 formas de abajo?



10) ¿Cuántos grupos de 4 se pueden hacer con las 12 formas de abajo?



11) ¿Cuántos grupos de 7 se pueden hacer con las 21 formas de abajo?

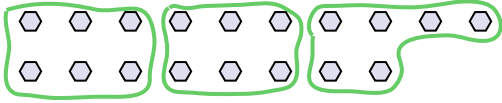


- 1. _____
- 2. _____
- 3. _____
- 4. _____
- 5. _____
- 6. _____
- 7. _____
- 8. _____
- 9. _____
- 10. _____
- 11. _____

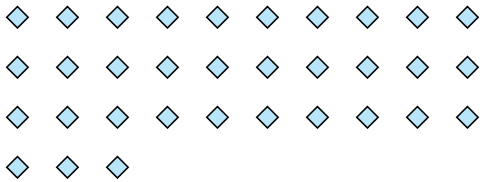


Usa las formas proporcionadas para resolver las preguntas.


Ej) ¿Cuántos grupos de 6 se pueden hacer con las 18 formas de abajo?




2) ¿Cuántos grupos de 3 se pueden hacer con las 33 formas de abajo?




4) ¿Cuántos grupos de 7 se pueden hacer con las 14 formas de abajo?



6) ¿Cuántos grupos de 4 se pueden hacer con las 40 formas de abajo?



8) ¿Cuántos grupos de 7 se pueden hacer con las 28 formas de abajo?



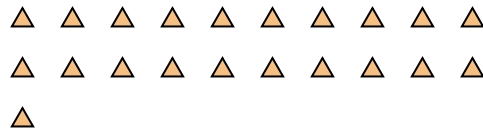
10) ¿Cuántos grupos de 4 se pueden hacer con las 12 formas de abajo?



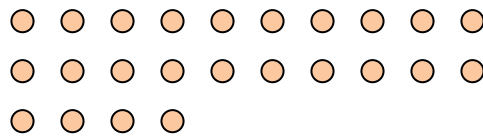
1) ¿Cuántos grupos de 3 se pueden hacer con las 27 formas de abajo?




3) ¿Cuántos grupos de 7 se pueden hacer con las 21 formas de abajo?



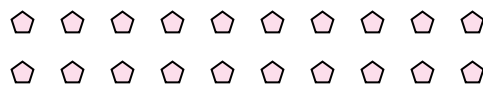
5) ¿Cuántos grupos de 8 se pueden hacer con las 24 formas de abajo?



7) ¿Cuántos grupos de 8 se pueden hacer con las 32 formas de abajo?



9) ¿Cuántos grupos de 5 se pueden hacer con las 20 formas de abajo?



11) ¿Cuántos grupos de 7 se pueden hacer con las 21 formas de abajo?



Respuestas

Ej. 3

1. 9

2. 11

3. 3

4. 2

5. 3

6. 10

7. 4

8. 4

9. 4

10. 3

11. 3