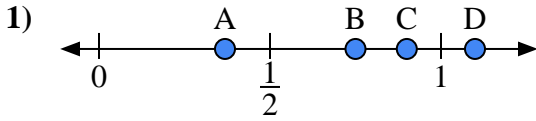


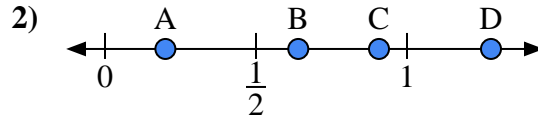


Usa las rectas numéricas para responder a las preguntas

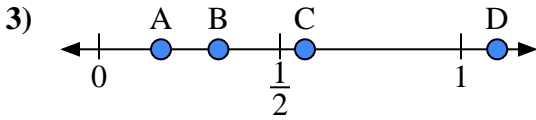
Respuestas



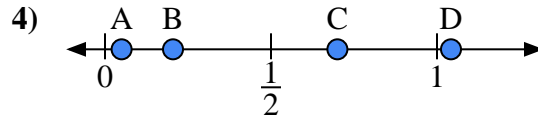
- a) ¿Qué letra representa mejor la ubicación de 0.90?
- b) ¿Qué letra representa mejor la ubicación de 0.75?



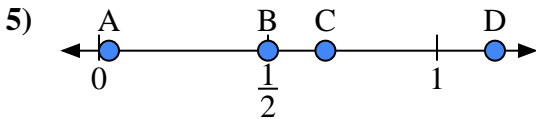
- a) ¿Qué letra representa mejor la ubicación de 0.2?
- b) ¿Qué letra representa mejor la ubicación de 0.64?



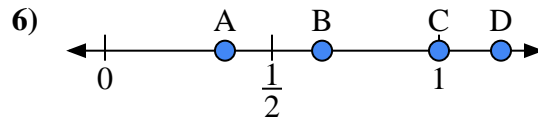
- a) ¿Qué letra representa mejor la ubicación de 1.10?
- b) ¿Qué letra representa mejor la ubicación de 0.33?



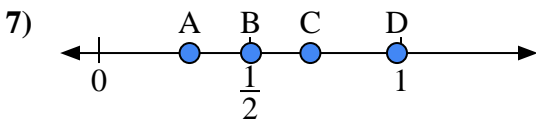
- a) ¿Qué letra representa mejor la ubicación de 0.70?
- b) ¿Qué letra representa mejor la ubicación de 0.05?



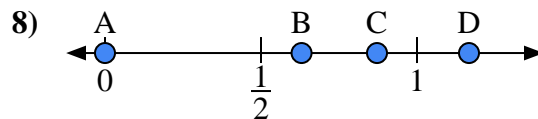
- a) ¿Qué letra representa mejor la ubicación de 0.50?
- b) ¿Qué letra representa mejor la ubicación de 0.67?



- a) ¿Qué letra representa mejor la ubicación de 1.00?
- b) ¿Qué letra representa mejor la ubicación de 0.65?



- a) ¿Qué letra representa mejor la ubicación de 0.3?
- b) ¿Qué letra representa mejor la ubicación de 0.70?



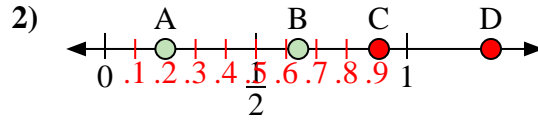
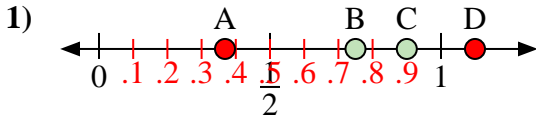
- a) ¿Qué letra representa mejor la ubicación de 0.00?
- b) ¿Qué letra representa mejor la ubicación de 0.63?

- 1. _____
- 2. _____
- 3. _____
- 4. _____
- 5. _____
- 6. _____
- 7. _____
- 8. _____



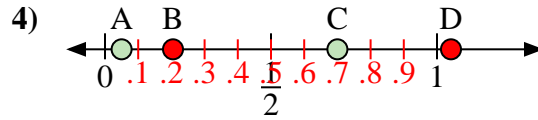
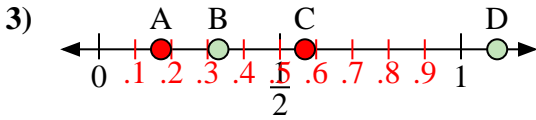
Usa las rectas numéricas para responder a las preguntas

Respuestas



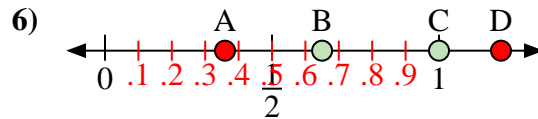
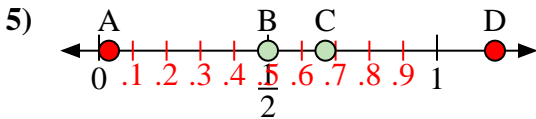
- a) ¿Qué letra representa mejor la ubicación de 0.90?
- b) ¿Qué letra representa mejor la ubicación de 0.75?

- a) ¿Qué letra representa mejor la ubicación de 0.2?
- b) ¿Qué letra representa mejor la ubicación de 0.64?



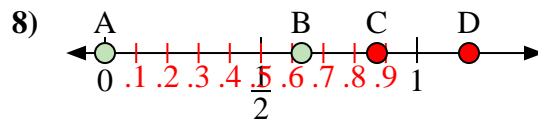
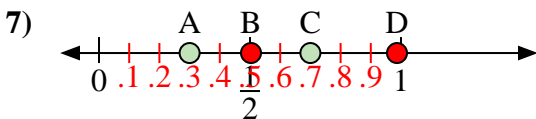
- a) ¿Qué letra representa mejor la ubicación de 1.10?
- b) ¿Qué letra representa mejor la ubicación de 0.33?

- a) ¿Qué letra representa mejor la ubicación de 0.70?
- b) ¿Qué letra representa mejor la ubicación de 0.05?



- a) ¿Qué letra representa mejor la ubicación de 0.50?
- b) ¿Qué letra representa mejor la ubicación de 0.67?

- a) ¿Qué letra representa mejor la ubicación de 1.00?
- b) ¿Qué letra representa mejor la ubicación de 0.65?



- a) ¿Qué letra representa mejor la ubicación de 0.3?
- b) ¿Qué letra representa mejor la ubicación de 0.70?

- a) ¿Qué letra representa mejor la ubicación de 0.00?
- b) ¿Qué letra representa mejor la ubicación de 0.63?

1. C B
2. A B
3. D B
4. C A
5. B C
6. C B
7. A C
8. A B