



Determina si el ángulo mostrado es 'mayor', 'menor' o 'igual' a 90°.

Respuestas

Ej)



1)



2)



Ej. **igual**

- 1. _____
- 2. _____
- 3. _____
- 4. _____
- 5. _____
- 6. _____
- 7. _____
- 8. _____
- 9. _____
- 10. _____
- 11. _____
- 12. _____
- 13. _____
- 14. _____
- 15. _____
- 16. _____
- 17. _____
- 18. _____
- 19. _____
- 20. _____

3)



4)



5)



6)



7)



8)



9)



10)



11)



12)



13)



14)



15)



16)



17)



18)



19)



20)





Determina si el ángulo mostrado es 'mayor', 'menor' o 'igual' a 90° .

Ej)



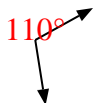
1)



2)



3)



4)



5)



6)



7)



8)



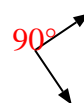
9)



10)



11)



12)



13)



14)



15)



16)



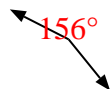
17)



18)



19)



20)



Respuestas

Ej. igual

1. mayor

2. menor

3. mayor

4. menor

5. menor

6. mayor

7. igual

8. mayor

9. igual

10. menor

11. igual

12. menor

13. menor

14. mayor

15. menor

16. igual

17. igual

18. menor

19. mayor

20. igual