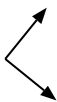




Determina si el ángulo mostrado es 'mayor', 'menor' o 'igual' a 90°.

Ej)



1)



2)



Respuestas

Ej. igual

3)



4)



5)



6)



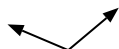
7)



8)



9)



10)



11)



12)



13)



14)



15)



16)



17)



18)



19)



20)



- 1. _____
- 2. _____
- 3. _____
- 4. _____
- 5. _____
- 6. _____
- 7. _____
- 8. _____
- 9. _____
- 10. _____
- 11. _____
- 12. _____
- 13. _____
- 14. _____
- 15. _____
- 16. _____
- 17. _____
- 18. _____
- 19. _____
- 20. _____

1-10	95	90	85	80	75	70	65	60	55	50
11-20	45	40	35	30	25	20	15	10	5	0



Determina si el ángulo mostrado es 'mayor', 'menor' o 'igual' a 90°.

Ej)



1)



2)



3)



4)



5)



6)



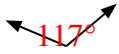
7)



8)



9)



10)



11)



12)



13)



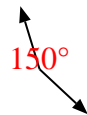
14)



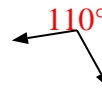
15)



16)



17)



18)



19)



20)



Respuestas

Ej. igual

1. igual

2. menor

3. menor

4. mayor

5. mayor

6. menor

7. menor

8. menor

9. mayor

10. igual

11. mayor

12. menor

13. igual

14. igual

15. igual

16. mayor

17. mayor

18. menor

19. igual

20. menor