

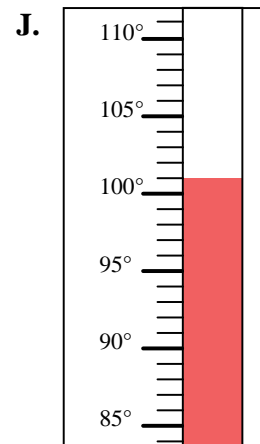
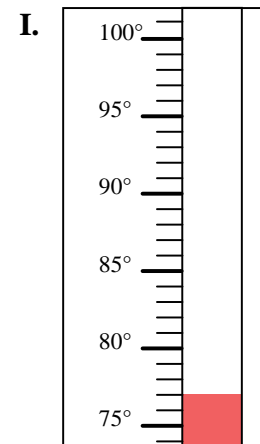
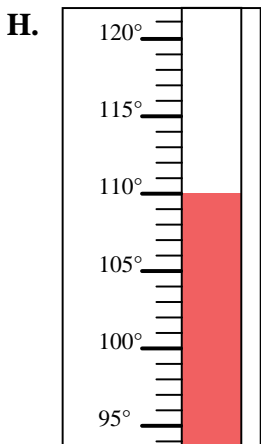
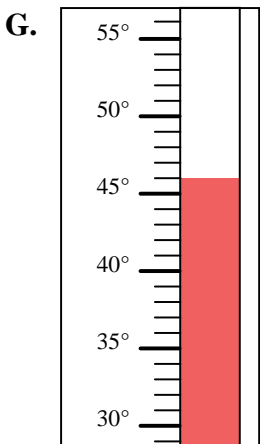
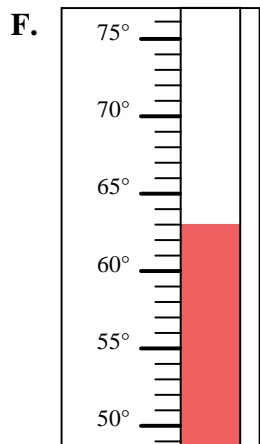
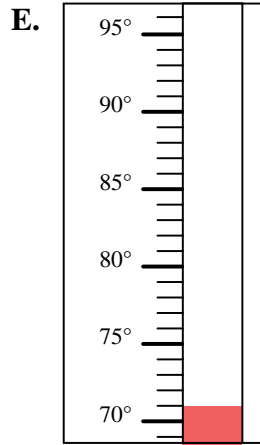
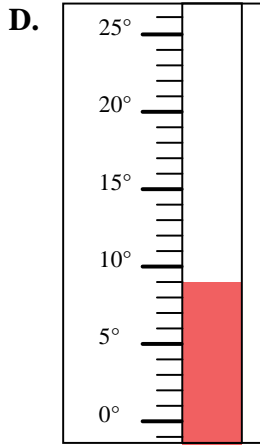
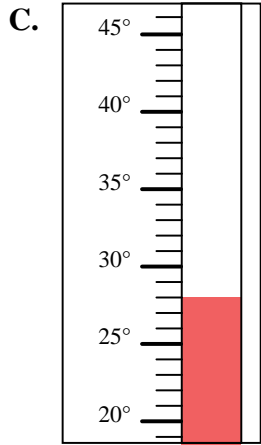
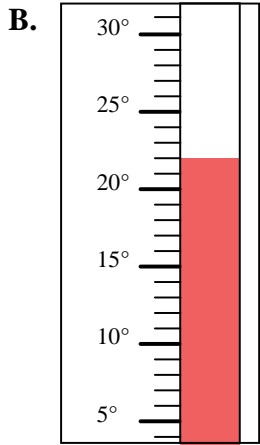
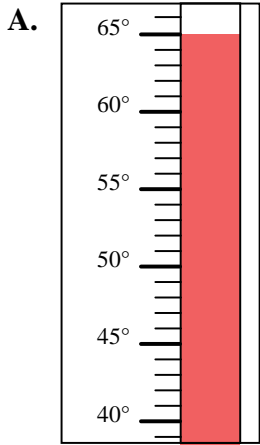


Determinar cuál letra responde mejor a cada pregunta.

Respuestas

- 1) ¿Qué termómetro representa mejor 63° de temperatura?
- 2) ¿Qué termómetro representa mejor 46° de temperatura?
- 3) ¿Qué termómetro representa mejor 65° de temperatura?
- 4) ¿Qué termómetro representa mejor 110° de temperatura?
- 5) ¿Qué termómetro representa mejor 77° de temperatura?
- 6) ¿Qué termómetro representa mejor 22° de temperatura?
- 7) ¿Qué termómetro representa mejor 71° de temperatura?
- 8) ¿Qué termómetro representa mejor 28° de temperatura?
- 9) ¿Qué termómetro representa mejor 9° de temperatura?
- 10) ¿Qué termómetro representa mejor 101° de temperatura?

1. _____
2. _____
3. _____
4. _____
5. _____
6. _____
7. _____
8. _____
9. _____
10. _____





Determinar cuál letra responde mejor a cada pregunta.

Respuestas

- 1) ¿Qué termómetro representa mejor 63° de temperatura?
- 2) ¿Qué termómetro representa mejor 46° de temperatura?
- 3) ¿Qué termómetro representa mejor 65° de temperatura?
- 4) ¿Qué termómetro representa mejor 110° de temperatura?
- 5) ¿Qué termómetro representa mejor 77° de temperatura?
- 6) ¿Qué termómetro representa mejor 22° de temperatura?
- 7) ¿Qué termómetro representa mejor 71° de temperatura?
- 8) ¿Qué termómetro representa mejor 28° de temperatura?
- 9) ¿Qué termómetro representa mejor 9° de temperatura?
- 10) ¿Qué termómetro representa mejor 101° de temperatura?

1. **F**
2. **G**
3. **A**
4. **H**
5. **I**
6. **B**
7. **E**
8. **C**
9. **D**
10. **J**

