



Expresar cada número con líneas de conteo

1) 81 _____

2) 91 _____

3) 45 _____

4) 63 _____

5) 64 _____

6) 18 _____

7) 59 _____

8) 71 _____

9) 37 _____

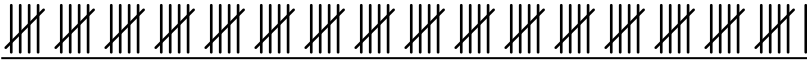
10) 79 _____

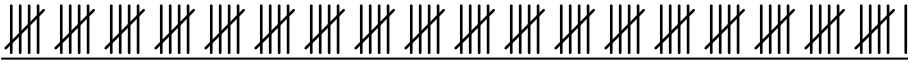
11) 31 _____

12) 80 _____




Expresar cada número con líneas de conteo

1) 81  _____

2) 91  _____

3) 45  _____

4) 63  _____

5) 64  _____

6) 18  _____

7) 59  _____

8) 71  _____

9) 37  _____

10) 79  _____

11) 31  _____

12) 80  _____



Expresar cada número con líneas de conteo

1) 79 _____

2) 25 _____

3) 80 _____

4) 73 _____

5) 72 _____

6) 64 _____

7) 90 _____

8) 63 _____

9) 52 _____

10) 84 _____

11) 92 _____

12) 56 _____



Expresar cada número con líneas de conteo

1) 79 

2) 25 

3) 80 

4) 73 

5) 72 

6) 64 


7) 90 

8) 63 

9) 52 

10) 84 

11) 92 

12) 56 



Expresar cada número con líneas de conteo

1) 56 _____

2) 62 _____

3) 23 _____

4) 69 _____

5) 49 _____

6) 60 _____

7) 28 _____

8) 25 _____

9) 16 _____

10) 93 _____

11) 61 _____

12) 27 _____



Expresar cada número con líneas de conteo

1) 56 _____

2) 62 _____

3) 23 _____

4) 69 _____

5) 49 _____

6) 60 _____

7) 28 _____

8) 25 _____

9) 16 _____

10) 93 _____

11) 61 _____

12) 27 _____



Expresar cada número con líneas de conteo

1) 26 _____

2) 36 _____

3) 47 _____

4) 21 _____

5) 19 _____

6) 30 _____

7) 91 _____

8) 98 _____

9) 70 _____

10) 97 _____

11) 22 _____

12) 35 _____



Expresar cada número con líneas de conteo

1) 26 _____

2) 36 _____

3) 47 _____

4) 21 _____

5) 19 _____

6) 30 _____

7) 91 _____

8) 98 _____

9) 70 _____

10) 97 _____

11) 22 _____

12) 35 _____



Expresar cada número con líneas de conteo

1) 22 _____

2) 51 _____

3) 71 _____

4) 54 _____

5) 16 _____

6) 7 _____

7) 13 _____

8) 61 _____

9) 19 _____

10) 6 _____


11) 37 _____

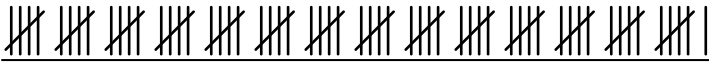
12) 34 _____



Expresar cada número con líneas de conteo

1) 22 

2) 51 

3) 71 


4) 54 

5) 16 

6) 7 


7) 13 

8) 61 

9) 19 

10) 6 

11) 37 

12) 34 



Expresar cada número con líneas de conteo

1) 88 _____

2) 95 _____

3) 21 _____

4) 22 _____

5) 44 _____

6) 73 _____

7) 15 _____

8) 34 _____

9) 96 _____

10) 6 _____

11) 23 _____

12) 100 _____



Expresar cada número con líneas de conteo

1) 88 _____

2) 95 _____

3) 21 _____

4) 22 _____

5) 44 _____

6) 73 _____

7) 15 _____

8) 34 _____

9) 96 _____

10) 6 _____

11) 23 _____

12) 100 _____



Expresar cada número con líneas de conteo

1) 16 _____

2) 21 _____

3) 89 _____

4) 70 _____

5) 61 _____

6) 72 _____

7) 58 _____

8) 44 _____

9) 55 _____


10) 94 _____


11) 62 _____

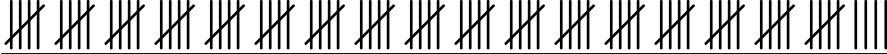
12) 95 _____



Expresar cada número con líneas de conteo

1) 16 

2) 21 

3) 89 

4) 70 

5) 61 

6) 72 

7) 58 

8) 44 

9) 55 

10) 94 

11) 62 

12) 95 



Expresar cada número con líneas de conteo

1) 43 _____

2) 23 _____

3) 71 _____

4) 19 _____

5) 47 _____

6) 7 _____

7) 69 _____

8) 74 _____

9) 64 _____

10) 78 _____

11) 32 _____

12) 65 _____



Expresar cada número con líneas de conteo

1) 43 _____

2) 23 _____

3) 71 _____

4) 19 _____

5) 47 _____

6) 7 _____

7) 69 _____

8) 74 _____

9) 64 _____

10) 78 _____

11) 32 _____

12) 65 _____



Expresar cada número con líneas de conteo

1) 54 _____

2) 10 _____

3) 85 _____

4) 77 _____

5) 83 _____

6) 84 _____

7) 86 _____

8) 28 _____

9) 19 _____

10) 72 _____

11) 44 _____

12) 52 _____



Expresar cada número con líneas de conteo

1) 54 _____

2) 10 _____

3) 85 _____

4) 77 _____

5) 83 _____

6) 84 _____

7) 86 _____

8) 28 _____

9) 19 _____

10) 72 _____

11) 44 _____

12) 52 _____



Expresar cada número con líneas de conteo

1) 61 _____

2) 35 _____

3) 49 _____

4) 15 _____

5) 52 _____

6) 16 _____

7) 75 _____

8) 12 _____

9) 11 _____


10) 31 _____

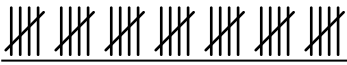
11) 37 _____

12) 87 _____



Expresar cada número con líneas de conteo

1) 61 

2) 35 


3) 49 

4) 15 

5) 52 

6) 16 

7) 75 

8) 12 

9) 11 

10) 31 

11) 37 

12) 87 