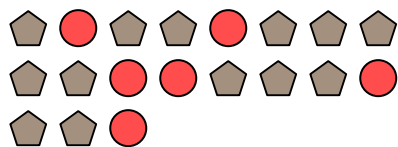





Resuelve cada problema.

Ej) ¿Cuál es la relación de círculos a pentágonos?




1) ¿Cuál es la relación de pentágonos a lunas?



2) ¿Cuál es la relación de estrellas a triángulos?



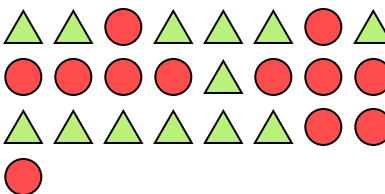
3) ¿Cuál es la relación de hearts a cuadros?



4) ¿Cuál es la relación de estrellas a triángulos?




5) ¿Cuál es la relación de triángulos a círculos?




6) ¿Cuál es la relación de cuadros a triángulos?



7) ¿Cuál es la relación de pentágonos a lunas?



8) ¿Cuál es la relación de hearts a lunas?




9) ¿Cuál es la relación de círculos a hearts?



10) ¿Cuál es la relación de hearts a lunas?



11) ¿Cuál es la relación de triángulos a lunas?



**Respuestas**

Ej. **6:13**

1. \_\_\_\_\_

2. \_\_\_\_\_

3. \_\_\_\_\_

4. \_\_\_\_\_

5. \_\_\_\_\_

6. \_\_\_\_\_

7. \_\_\_\_\_

8. \_\_\_\_\_

9. \_\_\_\_\_

10. \_\_\_\_\_

11. \_\_\_\_\_

