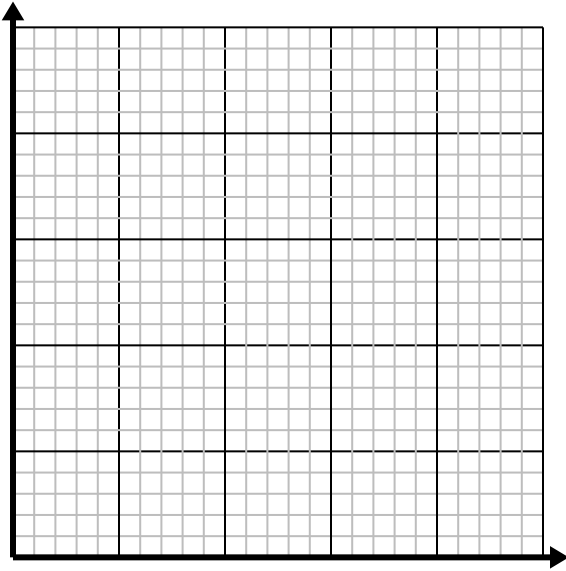




Resuelve cada problema.

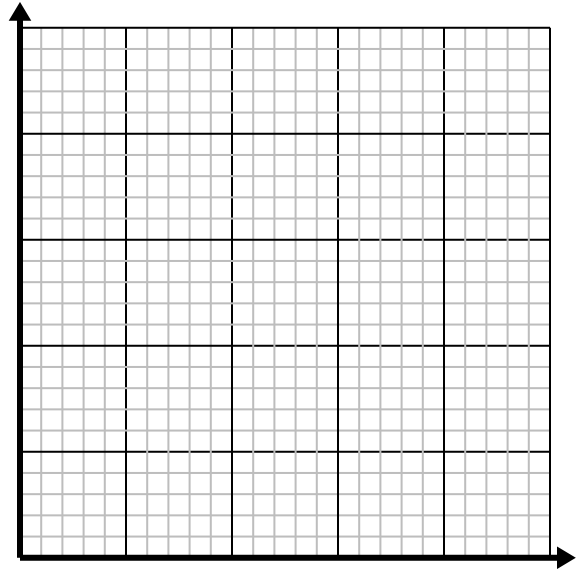
- 1) Por cada césped cortado se ganan \$3.

Cree una tabla que muestre el dinero ganado por cortar hasta 5 céspedes, luego trace los valores en el plano de coordenadas.

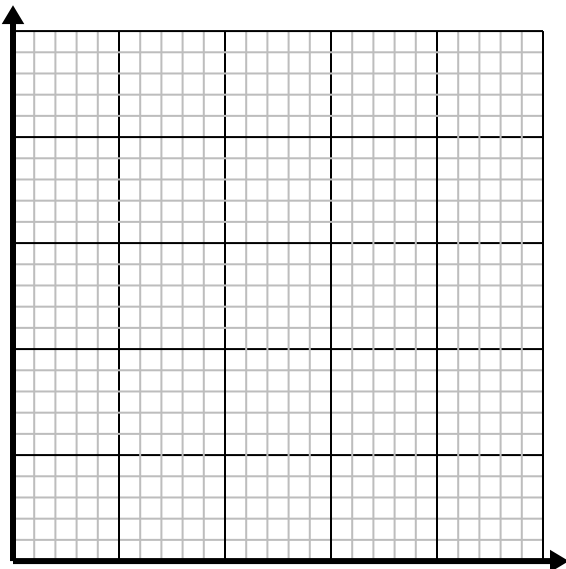
- 2) Por cada taza de harina se pueden hacer 5 lotes de galletas.

Cree una tabla que muestre los lotes de galletas que se pueden preparar con hasta 5 tazas de harina, luego trace los valores en el plano de coordenadas.

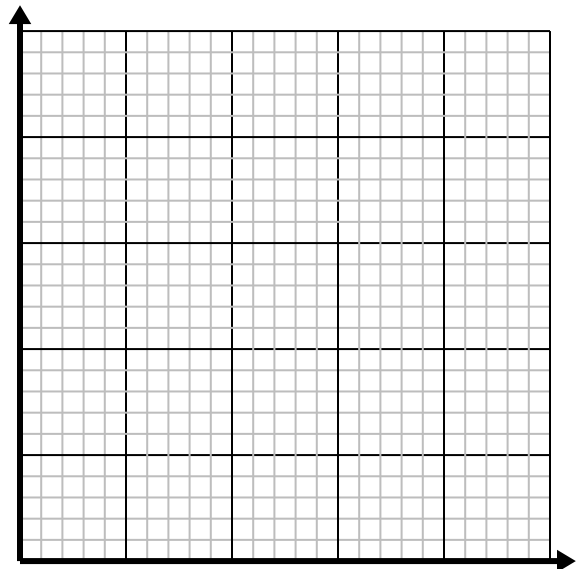
- 3) Cada libra de carne cuesta \$6.66.

Cree una tabla que muestre el precio de hasta 5 libras de carne, luego trace los valores en el plano de coordenadas.

- 4) Cada vaso de limonada requiere 3 limones.

Cree una tabla que muestre los vasos de limonada hechos con hasta 5 limones, luego trace los valores en el plano de coordenadas.

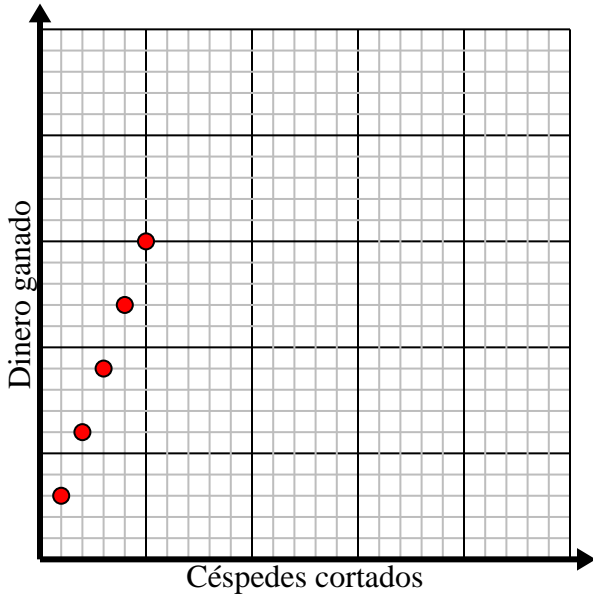


**Resuelve cada problema.**

- 1) Por cada césped cortado se ganan \$3.

Cree una tabla que muestre el dinero ganado por cortar hasta 5 céspedes, luego trace los valores en el plano de coordenadas.

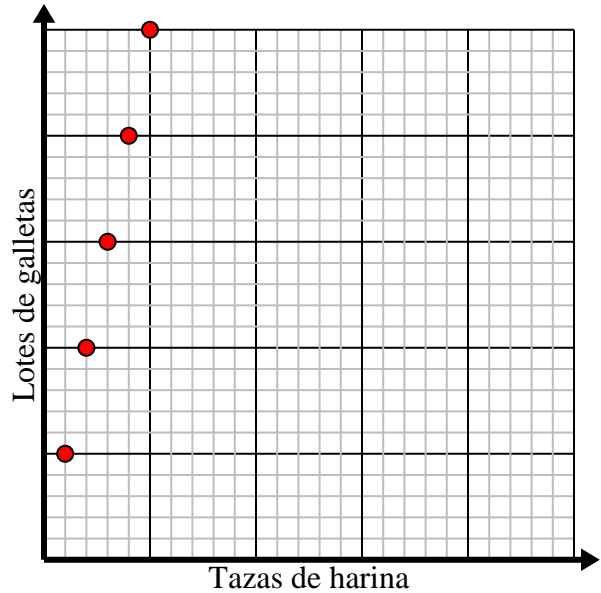
Céspedes cortados	1	2	3	4	5
Dinero ganado	3	6	9	12	15



- 2) Por cada taza de harina se pueden hacer 5 lotes de galletas.

Cree una tabla que muestre los lotes de galletas que se pueden preparar con hasta 5 tazas de harina, luego trace los valores en el plano de coordenadas.

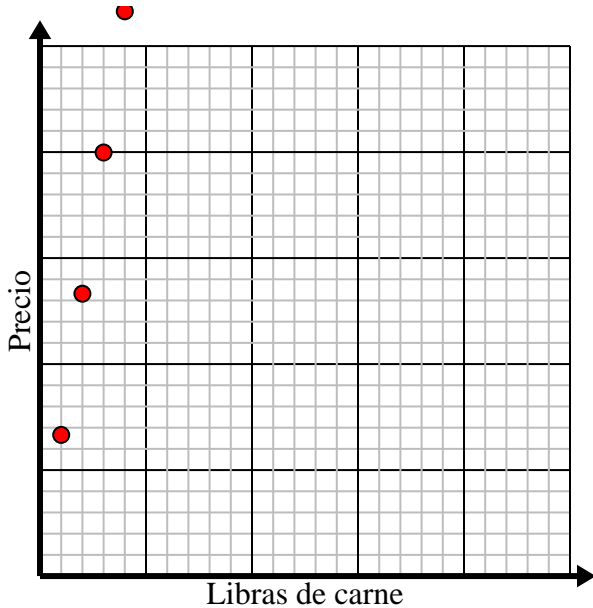
Tazas de harina	1	2	3	4	5
Lotes de galletas	5	10	15	20	25



- 3) Cada libra de carne cuesta \$6.66.

Cree una tabla que muestre el precio de hasta 5 libras de carne, luego trace los valores en el plano de coordenadas.

Libras de carne	1	2	3	4	5
Precio	6.66	13.32	19.98	26.64	33.3



- 4) Cada vaso de limonada requiere 3 limones.

Cree una tabla que muestre los vasos de limonada hechos con hasta 5 limones, luego trace los valores en el plano de coordenadas.

Lentes	1	2	3	4	5
Limones usados	3	6	9	12	15

