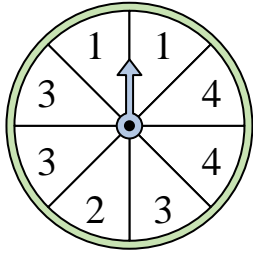




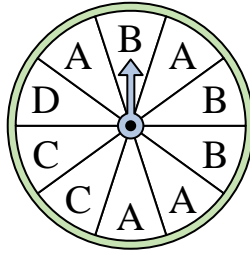
Resuelve cada problema.

**Respuestas**

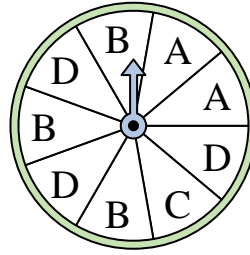
1) ¿En qué dos números es igualmente probable que caiga la ruleta?



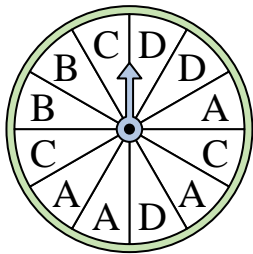
2) ¿En qué letra es menos probable que caiga la ruleta?




3) ¿En qué dos letras es igualmente probable que caiga la ruleta?



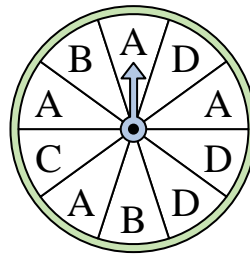
4) ¿En qué letra es menos probable que caiga la ruleta?




5) ¿En qué número es menos probable que caiga la ruleta?



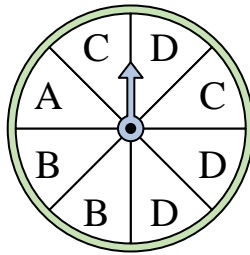
6) ¿En qué letra es más probable que caiga la ruleta?



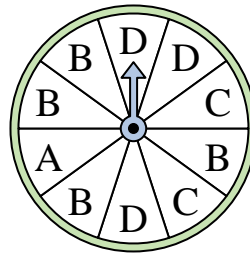
7) ¿En qué número es menos probable que caiga la ruleta?



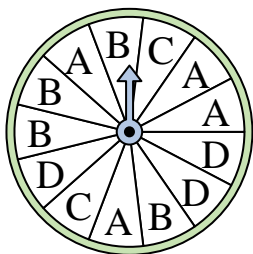
8) ¿En qué letra es más probable que caiga la ruleta?




9) ¿En qué letra es menos probable que caiga la ruleta?



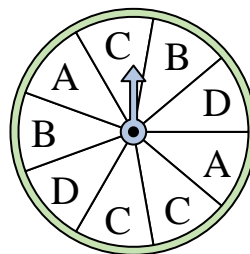
10) ¿En qué letra es menos probable que caiga la ruleta?



11) ¿En qué dos números es igualmente probable que caiga la ruleta?



12) ¿En qué letra es más probable que caiga la ruleta?

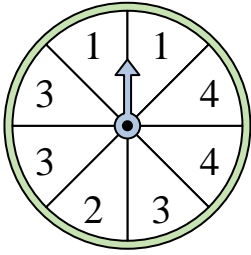


1. \_\_\_\_\_
2. \_\_\_\_\_
3. \_\_\_\_\_
4. \_\_\_\_\_
5. \_\_\_\_\_
6. \_\_\_\_\_
7. \_\_\_\_\_
8. \_\_\_\_\_
9. \_\_\_\_\_
10. \_\_\_\_\_
11. \_\_\_\_\_
12. \_\_\_\_\_

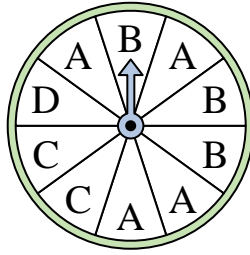


Resuelve cada problema.

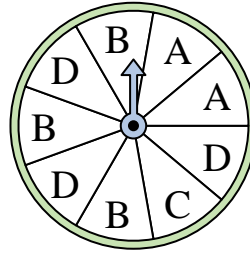
- 1) ¿En qué dos números es igualmente probable que caiga la ruleta?



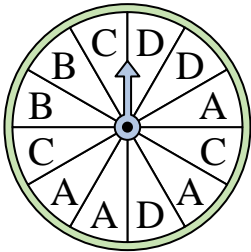
- 2) ¿En qué letra es menos probable que caiga la ruleta?




- 3) ¿En qué dos letras es igualmente probable que caiga la ruleta?



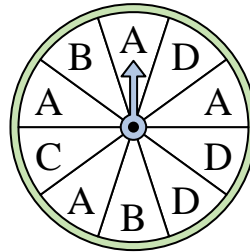
- 4) ¿En qué letra es menos probable que caiga la ruleta?




- 5) ¿En qué número es menos probable que caiga la ruleta?



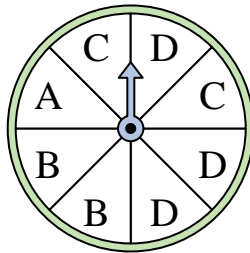
- 6) ¿En qué letra es más probable que caiga la ruleta?



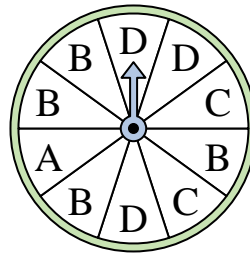
- 7) ¿En qué número es menos probable que caiga la ruleta?



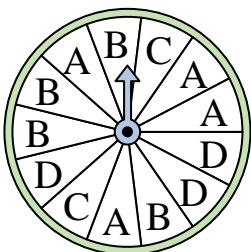
- 8) ¿En qué letra es más probable que caiga la ruleta?




- 9) ¿En qué letra es menos probable que caiga la ruleta?



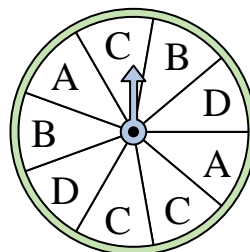
- 10) ¿En qué letra es menos probable que caiga la ruleta?



- 11) ¿En qué dos números es igualmente probable que caiga la ruleta?



- 12) ¿En qué letra es más probable que caiga la ruleta?



**Respuestas**

1. **1 & 4**

2. **D**

3. **B & D**

4. **B**

5. **4**

6. **A**

7. **1**

8. **D**

9. **A**

10. **C**

11. **2 & 3**

12. **C**