


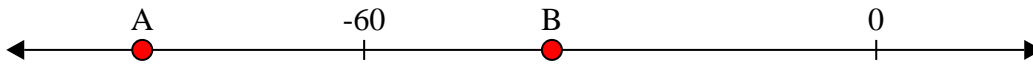
**Resuelve cada problema.****Respuestas**

1) ¿Qué letra representa mejor -11




1. \_\_\_\_\_

2) ¿Qué letra representa mejor -38




2. \_\_\_\_\_

3) ¿Qué letra representa mejor -78




3. \_\_\_\_\_

4) ¿Qué letra representa mejor -28



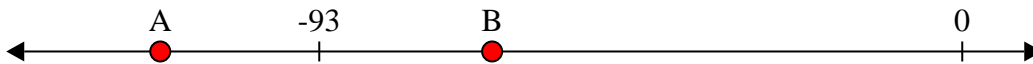
4. \_\_\_\_\_

5) ¿Qué letra representa mejor -109



5. \_\_\_\_\_

6) ¿Qué letra representa mejor -68




6. \_\_\_\_\_

7) ¿Qué letra representa mejor -10



7. \_\_\_\_\_

8) ¿Qué letra representa mejor -20




8. \_\_\_\_\_

9) ¿Qué letra representa mejor -82



9. \_\_\_\_\_

10) ¿Qué letra representa mejor -79




10. \_\_\_\_\_



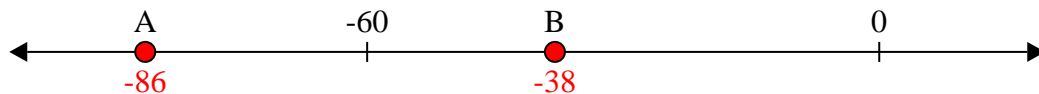
Resuelve cada problema.

**Respuestas**

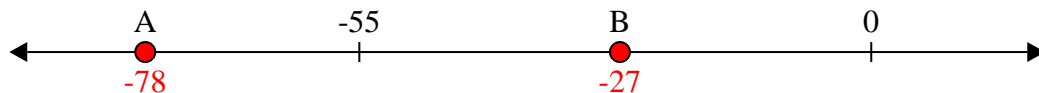
1) ¿Qué letra representa mejor -11

1.     **B**    

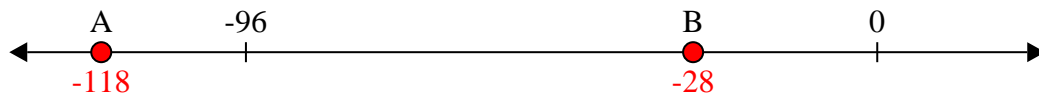
2) ¿Qué letra representa mejor -38

2.     **B**    

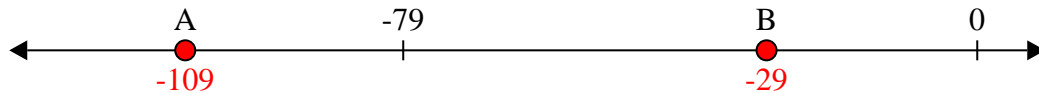
3) ¿Qué letra representa mejor -78

3.     **A**    

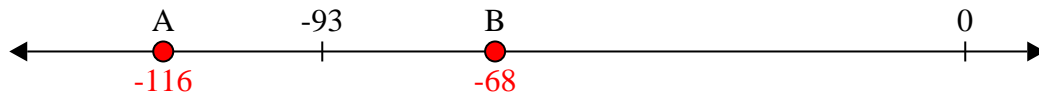
4) ¿Qué letra representa mejor -28

4.     **B**    

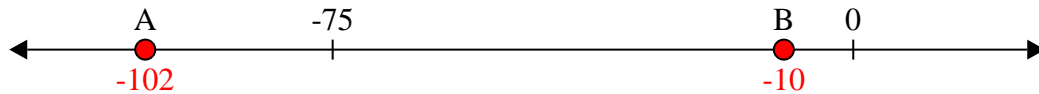
5) ¿Qué letra representa mejor -109

5.     **A**    


6) ¿Qué letra representa mejor -68

6.     **B**    

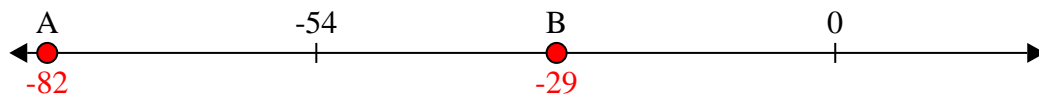
7) ¿Qué letra representa mejor -10

7.     **B**    

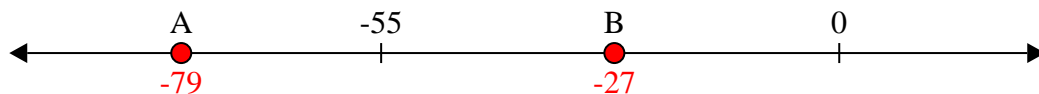
8) ¿Qué letra representa mejor -20

8.     **B**    

9) ¿Qué letra representa mejor -82

9.     **A**    

10) ¿Qué letra representa mejor -79

10.     **A**