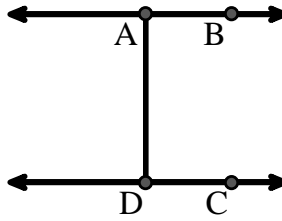




Resuelve cada problema.

Utilice el gráfico de la derecha para encontrar lo siguiente (si es posible):

- 1) Líneas paralelas _____
- 2) Líneas secantes _____
- 3) Líneas perpendiculares _____
- 4) Un segmento _____
- 5) Una línea _____
- 6) Un rayo _____

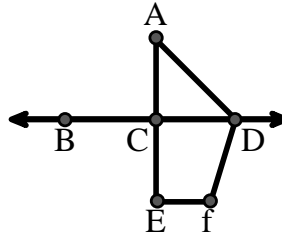


Respuestas

- 1. _____
- 2. _____
- 3. _____
- 4. _____
- 5. _____
- 6. _____
- 7. _____
- 8. _____

Utilice el gráfico de la derecha para encontrar lo siguiente (si es posible):


- 7) Ángulo agudo _____
- 8) Ángulo recto _____
- 9) Ángulo recto _____
- 10) Ángulo obtuso _____



- 9. _____
- 10. _____
- 11. gráfica
- 12. gráfica
- 13. gráfica
- 14. gráfica
- 15. gráfica

Utilice la matriz de puntos para dibujar lo siguiente:

- 11) Line \overleftrightarrow{AC}
- 12) Segment \overline{AB}
- 13) Angle $\angle ABD$
- 14) Line \overleftrightarrow{EF} parallel to line \overleftrightarrow{AC}
- 15) Segment \overline{EG} perpendicular to \overleftrightarrow{EF}





Resuelve cada problema.

Utilice el gráfico de la derecha para encontrar lo siguiente (si es posible):

1) Líneas paralelas $(\vec{A} \& \vec{B}), (\vec{C} \& \vec{D}), (\vec{A} \& \vec{D})$

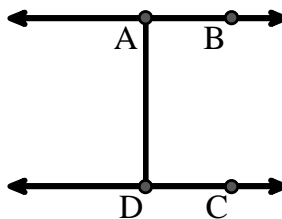
2) Líneas secantes _____

3) Líneas perpendiculares _____

4) Un segmento $\overline{AB}, \overline{CD}, \overline{AD}$

5) Una línea \vec{AB}, \vec{CD}

6) Un rayo $\vec{AB}, \vec{BA}, \vec{DC}, \vec{CD}$



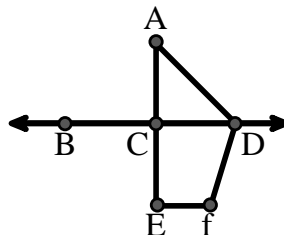
Utilice el gráfico de la derecha para encontrar lo siguiente (si es posible):

7) Ángulo agudo $\angle CAD$

8) Ángulo recto $\angle ACD, \angle CEF, \angle DCE$

9) Ángulo recto $\angle BCD, \angle ACE$

10) Ángulo obtuso $\angle ADF, \angle DFE$



Utilice la matriz de puntos para dibujar lo siguiente:

11) Line \vec{AC}

12) Segment \overline{AB}

13) Angle $\angle ABD$

14) Line \vec{EF} parallel to line \vec{AC}

15) Segment \overline{EG} perpendicular to \vec{EF}



Respuestas

1. $(\vec{A} \& \vec{B})$

2. ninguna

3. ninguna

4. \overline{AB}

5. \vec{AB}

6. \vec{AB}

7. $\angle CAD$

8. $\angle ACD$

9. $\angle BCD$

10. $\angle ADF$

11. gráfica

12. gráfica

13. gráfica

14. gráfica

15. gráfica