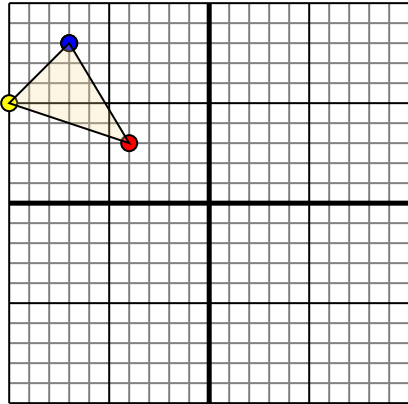




Trasladar cada figura como se describe.

1)

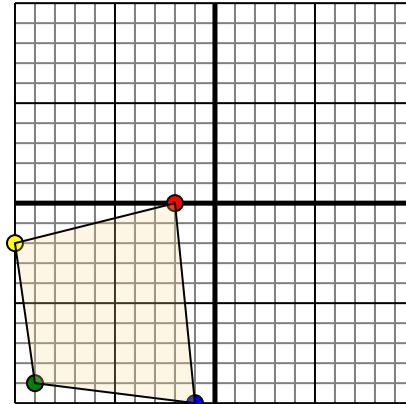


La forma anterior tiene las siguientes coordenadas:

- A. (-4,3)
- B. (-10,5)
- C. (-7,8)

Mueva la forma 3 unidades a la derecha y 5 unidades a la hacia abajo.

2)

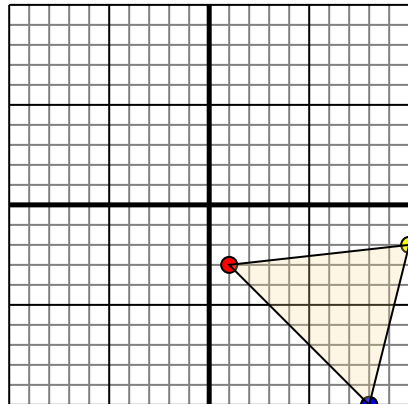


La forma anterior tiene las siguientes coordenadas:

- A. (-2,0)
- B. (-10,-2)
- C. (-9,-9)
- D. (-1,-10)

Mueva la forma 6 unidades a la derecha y 7 unidades a la hacia arriba.

3)

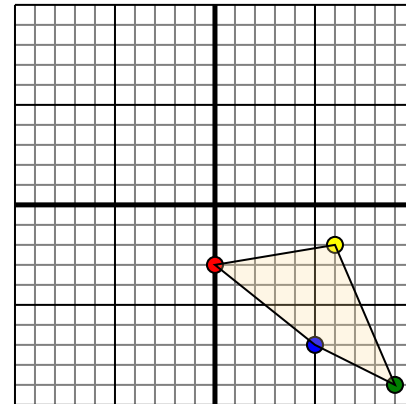


La forma anterior tiene las siguientes coordenadas:

- A. (1,-3)
- B. (10,-2)
- C. (8,-10)

Mueva la forma 6 unidades a la a la izquierda y 3 unidades a la hacia arriba.

4)



La forma anterior tiene las siguientes coordenadas:

- A. (0,-3)
- B. (6,-2)
- C. (9,-9)
- D. (5,-7)

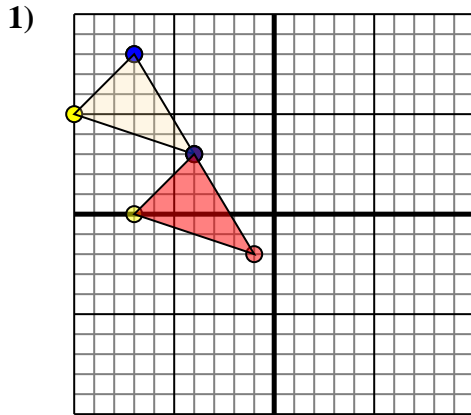
Mueva la forma 5 unidades a la a la izquierda y 2 unidades a la hacia arriba.

Respuestas

1. _____ [gráfica](#)
2. _____ [gráfica](#)
3. _____ [gráfica](#)
4. _____ [gráfica](#)



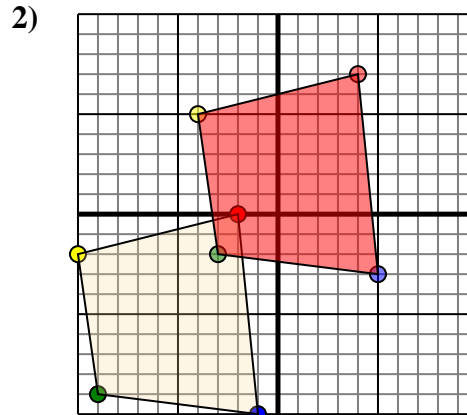
Trasladar cada figura como se describe.



La forma anterior tiene las siguientes coordenadas:

- A. (-4,3)
- B. (-10,5)
- C. (-7,8)

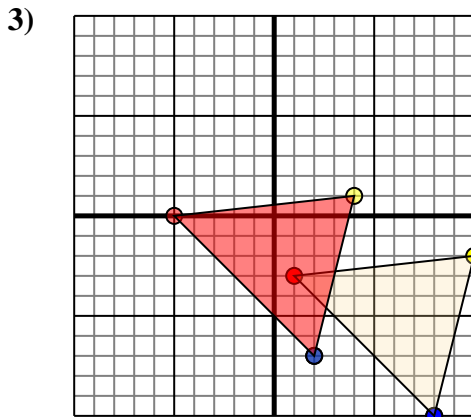
Mueva la forma 3 unidades a la derecha y 5 unidades a la hacia abajo.



La forma anterior tiene las siguientes coordenadas:

- A. (-2,0)
- B. (-10,-2)
- C. (-9,-9)
- D. (-1,-10)

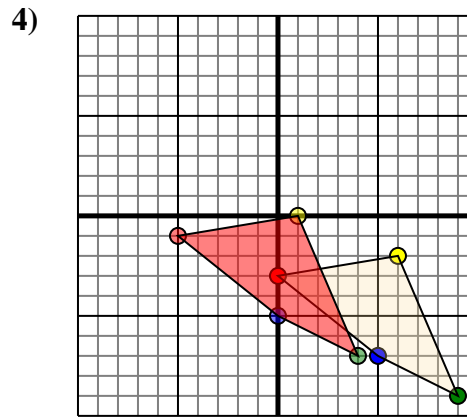
Mueva la forma 6 unidades a la derecha y 7 unidades a la hacia arriba.



La forma anterior tiene las siguientes coordenadas:

- A. (1,-3)
- B. (10,-2)
- C. (8,-10)

Mueva la forma 6 unidades a la a la izquierda y 3 unidades a la hacia arriba.



La forma anterior tiene las siguientes coordenadas:

- A. (0,-3)
- B. (6,-2)
- C. (9,-9)
- D. (5,-7)

Mueva la forma 5 unidades a la a la izquierda y 2 unidades a la hacia arriba.

Respuestas

1. **-1,-2** **-7,0** **-4,3** [gráfica](#)
2. **4,7** **-4,5** **-3,-2** **5,-3** [gráfica](#)
3. **-5,0** **4,1** **2,-7** [gráfica](#)
4. **-5,-1** **1,0** **4,-7** **0,-5** [gráfica](#)