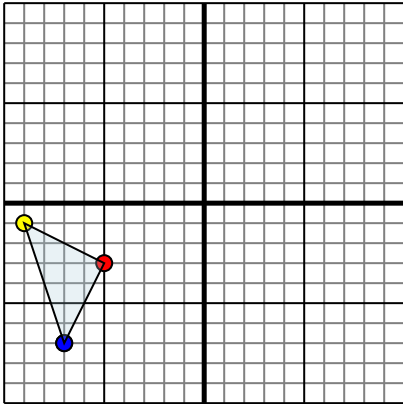




Reflejar cada figura como se describe.

Respuestas

1)

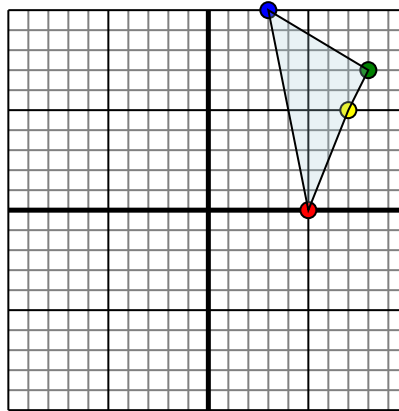


La forma anterior tiene las siguientes coordenadas:

- A. (-5,-3)
- B. (-9,-1)
- C. (-7,-7)

Reflejar la forma sobre el eje x.

2)

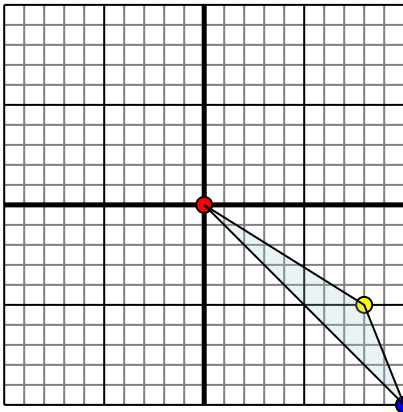


La forma anterior tiene las siguientes coordenadas:

- A. (5,0)
- B. (7,5)
- C. (8,7)
- D. (3,10)

Reflejar la forma sobre el eje x.

3)

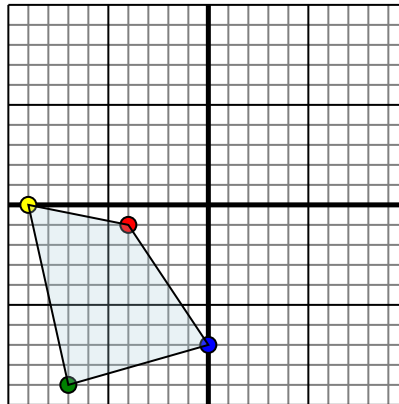


La forma anterior tiene las siguientes coordenadas:

- A. (0,0)
- B. (8,-5)
- C. (10,-10)

Reflejar la forma sobre el eje y.

4)



La forma anterior tiene las siguientes coordenadas:

- A. (-4,-1)
- B. (-9,0)
- C. (-7,-9)
- D. (0,-7)

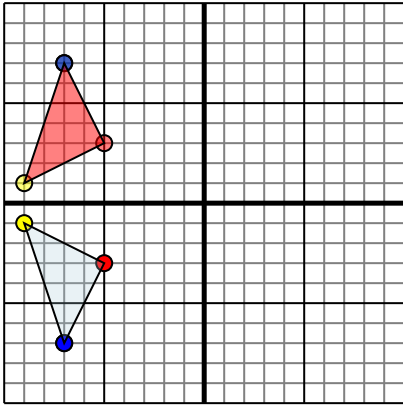
Reflejar la forma sobre el eje y.

- 1. _____
- 2. _____
- 3. _____
- 4. _____



Reflejar cada figura como se describe.

1)

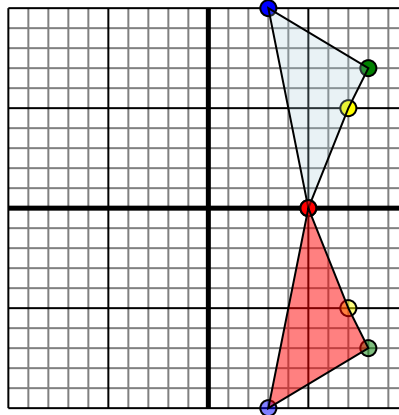


La forma anterior tiene las siguientes coordenadas:

- A. (-5,-3)
- B. (-9,-1)
- C. (-7,-7)

Reflejar la forma sobre el eje x.

2)

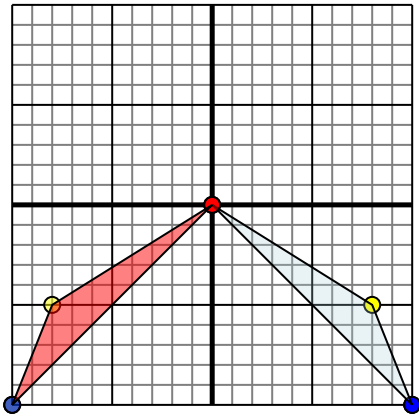


La forma anterior tiene las siguientes coordenadas:

- A. (5,0)
- B. (7,5)
- C. (8,7)
- D. (3,10)

Reflejar la forma sobre el eje x.

3)

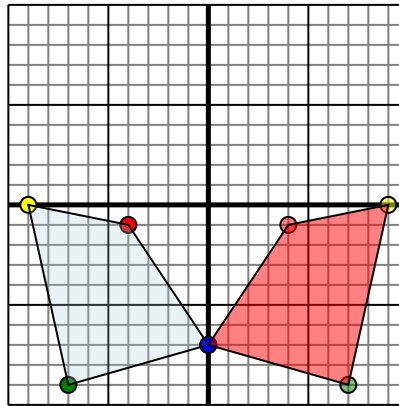


La forma anterior tiene las siguientes coordenadas:

- A. (0,0)
- B. (8,-5)
- C. (10,-10)

Reflejar la forma sobre el eje y.

4)



La forma anterior tiene las siguientes coordenadas:

- A. (-4,-1)
- B. (-9,0)
- C. (-7,-9)
- D. (0,-7)

Reflejar la forma sobre el eje y.

Respuestas

1. **-5,3** **-9,1** **-7,7** gráfica
2. **5,0** **7,-5** **8,-7** **3,-10** gráfica
3. **0,0** **-8,-5** **-10,-10** gráfica
4. **4,-1** **9,0** **7,-9** **0,-7** gráfica