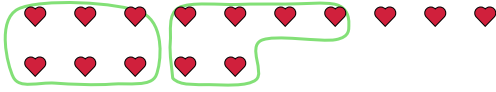




Usa los ejemplos a continuación para resolver las preguntas.

**Respuestas**

Ej) Hay 15 formas a continuación. ¿Cuántos grupos de 6 puedes hacer con ellos? ¿Cuántas sobran?



1) Hay 17 formas a continuación. ¿Cuántos grupos de 2 puedes hacer con ellos? ¿Cuántas sobran?



Ej. 2 3

1. \_\_\_\_\_

2. \_\_\_\_\_

3. \_\_\_\_\_

4. \_\_\_\_\_

5. \_\_\_\_\_

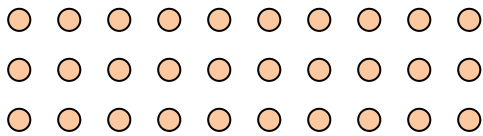
6. \_\_\_\_\_

7. \_\_\_\_\_

8. \_\_\_\_\_

9. \_\_\_\_\_


2) Hay 30 formas a continuación. ¿Cuántos grupos de 9 puedes hacer con ellos? ¿Cuántas sobran?



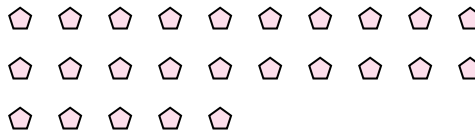
3) Hay 13 formas a continuación. ¿Cuántos grupos de 3 puedes hacer con ellos? ¿Cuántas sobran?



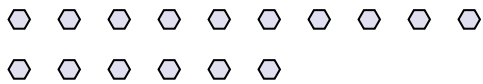
4) Hay 10 formas a continuación. ¿Cuántos grupos de 7 puedes hacer con ellos? ¿Cuántas sobran?



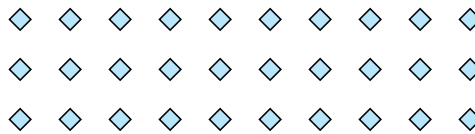
5) Hay 25 formas a continuación. ¿Cuántos grupos de 2 puedes hacer con ellos? ¿Cuántas sobran?



6) Hay 16 formas a continuación. ¿Cuántos grupos de 8 puedes hacer con ellos? ¿Cuántas sobran?



7) Hay 30 formas a continuación. ¿Cuántos grupos de 9 puedes hacer con ellos? ¿Cuántas sobran?



8) Hay 15 formas a continuación. ¿Cuántos grupos de 4 puedes hacer con ellos? ¿Cuántas sobran?



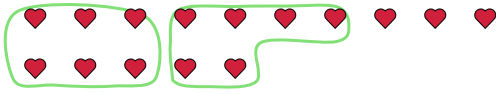
9) Hay 26 formas a continuación. ¿Cuántos grupos de 7 puedes hacer con ellos? ¿Cuántas sobran?





Usa los ejemplos a continuación para resolver las preguntas.

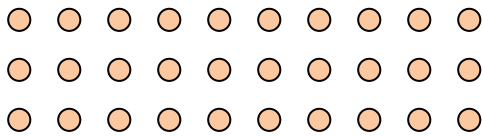
Ej) Hay 15 formas a continuación. ¿Cuántos grupos de 6 puedes hacer con ellos? ¿Cuántas sobran?



1) Hay 17 formas a continuación. ¿Cuántos grupos de 2 puedes hacer con ellos? ¿Cuántas sobran?



2) Hay 30 formas a continuación. ¿Cuántos grupos de 9 puedes hacer con ellos? ¿Cuántas sobran?



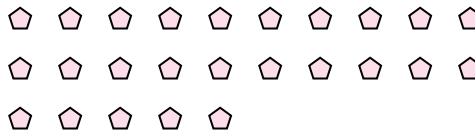
3) Hay 13 formas a continuación. ¿Cuántos grupos de 3 puedes hacer con ellos? ¿Cuántas sobran?



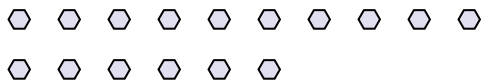
4) Hay 10 formas a continuación. ¿Cuántos grupos de 7 puedes hacer con ellos? ¿Cuántas sobran?



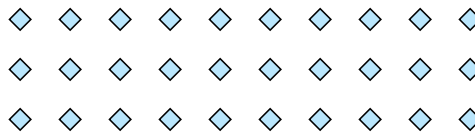
5) Hay 25 formas a continuación. ¿Cuántos grupos de 2 puedes hacer con ellos? ¿Cuántas sobran?



6) Hay 16 formas a continuación. ¿Cuántos grupos de 8 puedes hacer con ellos? ¿Cuántas sobran?



7) Hay 30 formas a continuación. ¿Cuántos grupos de 9 puedes hacer con ellos? ¿Cuántas sobran?



8) Hay 15 formas a continuación. ¿Cuántos grupos de 4 puedes hacer con ellos? ¿Cuántas sobran?



9) Hay 26 formas a continuación. ¿Cuántos grupos de 7 puedes hacer con ellos? ¿Cuántas sobran?



**Respuestas**

Ej.	<u>2</u>	<u>3</u>
1.	<u>8</u>	<u>1</u>
2.	<u>3</u>	<u>3</u>
3.	<u>4</u>	<u>1</u>
4.	<u>1</u>	<u>3</u>
5.	<u>12</u>	<u>1</u>
6.	<u>2</u>	<u>0</u>
7.	<u>3</u>	<u>3</u>
8.	<u>3</u>	<u>3</u>
9.	<u>3</u>	<u>5</u>