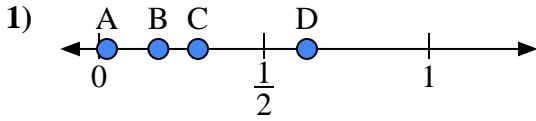


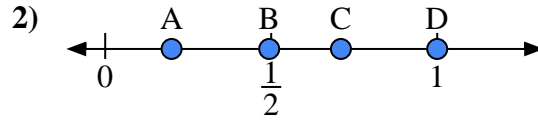


Usa las rectas numéricas para responder a las preguntas

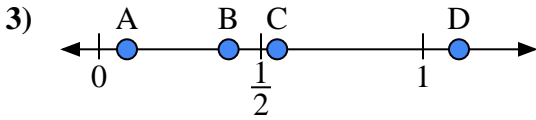
Respuestas



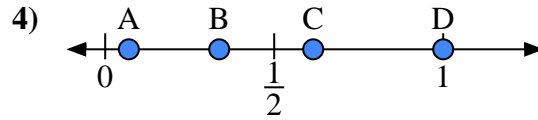
- a) ¿Qué letra representa mejor la ubicación de 0.3?
- b) ¿Qué letra representa mejor la ubicación de 0.18?



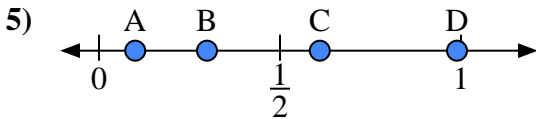
- a) ¿Qué letra representa mejor la ubicación de 0.2?
- b) ¿Qué letra representa mejor la ubicación de 0.71?



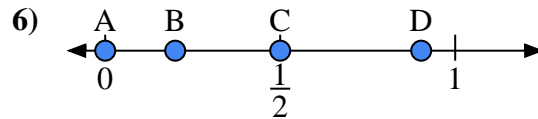
- a) ¿Qué letra representa mejor la ubicación de 0.4?
- b) ¿Qué letra representa mejor la ubicación de 0.55?



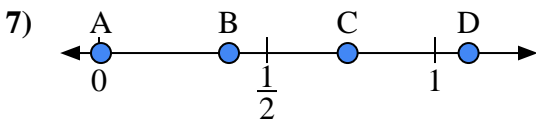
- a) ¿Qué letra representa mejor la ubicación de 1.0?
- b) ¿Qué letra representa mejor la ubicación de 0.07?



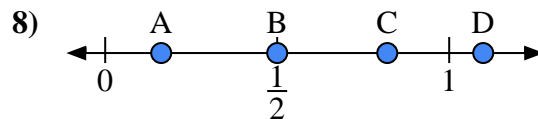
- a) ¿Qué letra representa mejor la ubicación de 0.10?
- b) ¿Qué letra representa mejor la ubicación de 0.61?



- a) ¿Qué letra representa mejor la ubicación de 0.00?
- b) ¿Qué letra representa mejor la ubicación de 0.50?



- a) ¿Qué letra representa mejor la ubicación de 1.10?
- b) ¿Qué letra representa mejor la ubicación de 0.74?



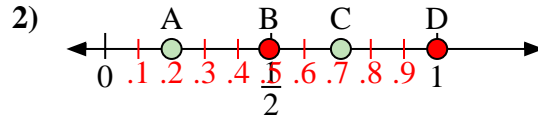
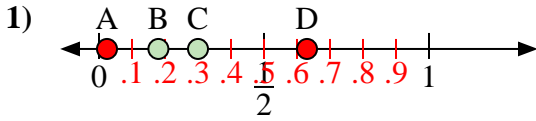
- a) ¿Qué letra representa mejor la ubicación de 0.5?
- b) ¿Qué letra representa mejor la ubicación de 0.82?

- 1. _____
- 2. _____
- 3. _____
- 4. _____
- 5. _____
- 6. _____
- 7. _____
- 8. _____



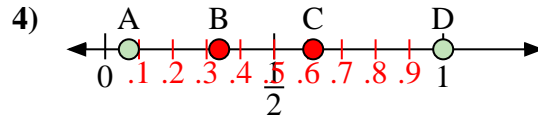
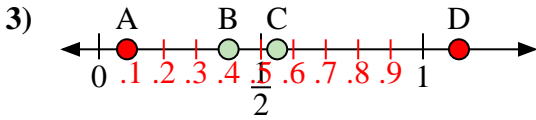
Usa las rectas numéricas para responder a las preguntas

Respuestas



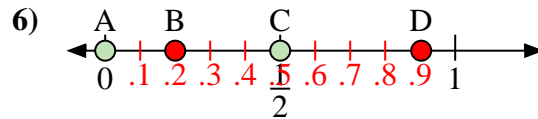
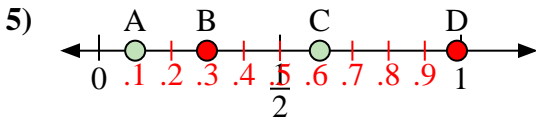
- a) ¿Qué letra representa mejor la ubicación de 0.3?
- b) ¿Qué letra representa mejor la ubicación de 0.18?

- a) ¿Qué letra representa mejor la ubicación de 0.2?
- b) ¿Qué letra representa mejor la ubicación de 0.71?



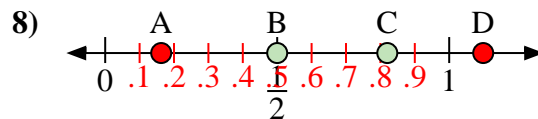
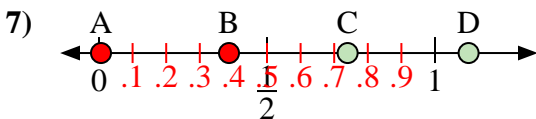
- a) ¿Qué letra representa mejor la ubicación de 0.4?
- b) ¿Qué letra representa mejor la ubicación de 0.55?

- a) ¿Qué letra representa mejor la ubicación de 1.0?
- b) ¿Qué letra representa mejor la ubicación de 0.07?



- a) ¿Qué letra representa mejor la ubicación de 0.10?
- b) ¿Qué letra representa mejor la ubicación de 0.61?

- a) ¿Qué letra representa mejor la ubicación de 0.00?
- b) ¿Qué letra representa mejor la ubicación de 0.50?



- a) ¿Qué letra representa mejor la ubicación de 1.10?
- b) ¿Qué letra representa mejor la ubicación de 0.74?

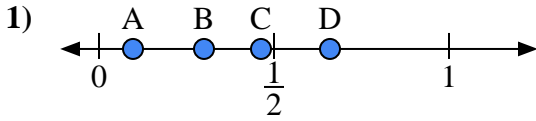
- a) ¿Qué letra representa mejor la ubicación de 0.5?
- b) ¿Qué letra representa mejor la ubicación de 0.82?

1. C B
2. A C
3. B C
4. D A
5. A C
6. A C
7. D C
8. B C

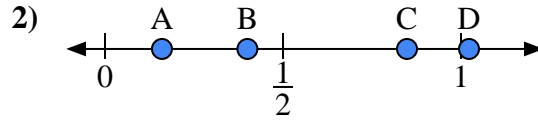


Usa las rectas numéricas para responder a las preguntas

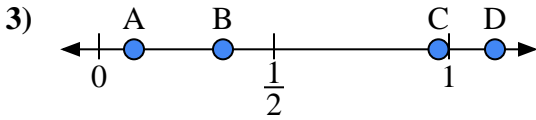
Respuestas



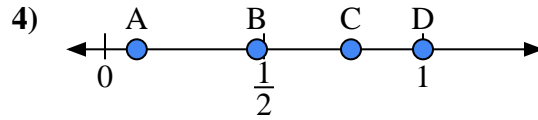
- a) ¿Qué letra representa mejor la ubicación de 0.3?
- b) ¿Qué letra representa mejor la ubicación de 0.66?



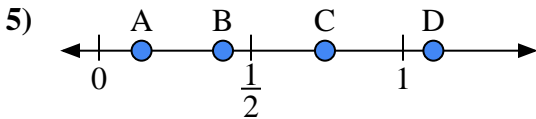
- a) ¿Qué letra representa mejor la ubicación de 0.4?
- b) ¿Qué letra representa mejor la ubicación de 0.16?



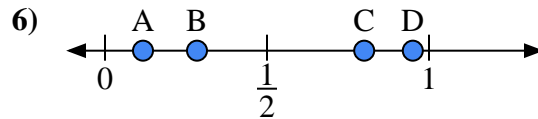
- a) ¿Qué letra representa mejor la ubicación de 0.10?
- b) ¿Qué letra representa mejor la ubicación de 0.97?



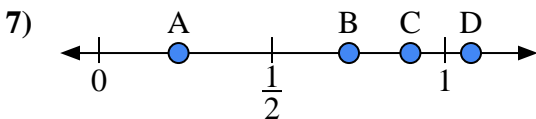
- a) ¿Qué letra representa mejor la ubicación de 1.0?
- b) ¿Qué letra representa mejor la ubicación de 0.10?



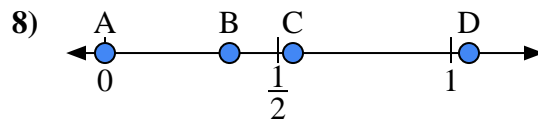
- a) ¿Qué letra representa mejor la ubicación de 1.10?
- b) ¿Qué letra representa mejor la ubicación de 0.14?



- a) ¿Qué letra representa mejor la ubicación de 0.80?
- b) ¿Qué letra representa mejor la ubicación de 0.95?



- a) ¿Qué letra representa mejor la ubicación de 0.9?
- b) ¿Qué letra representa mejor la ubicación de 0.23?



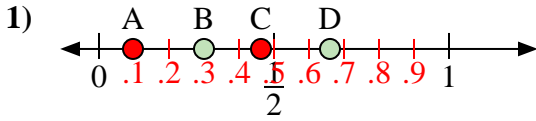
- a) ¿Qué letra representa mejor la ubicación de 0.00?
- b) ¿Qué letra representa mejor la ubicación de 0.36?

- 1. _____
- 2. _____
- 3. _____
- 4. _____
- 5. _____
- 6. _____
- 7. _____
- 8. _____

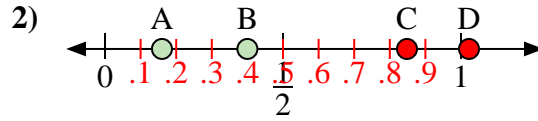


Usa las rectas numéricas para responder a las preguntas

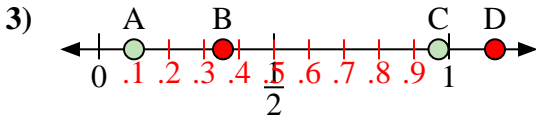
Respuestas



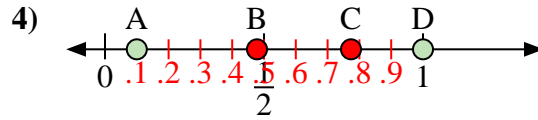
- a) ¿Qué letra representa mejor la ubicación de 0.3?
- b) ¿Qué letra representa mejor la ubicación de 0.66?



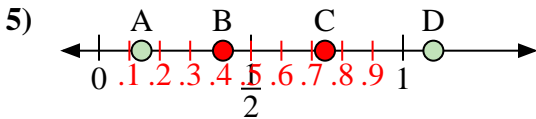
- a) ¿Qué letra representa mejor la ubicación de 0.4?
- b) ¿Qué letra representa mejor la ubicación de 0.16?



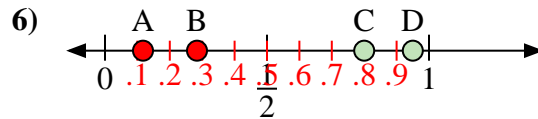
- a) ¿Qué letra representa mejor la ubicación de 0.10?
- b) ¿Qué letra representa mejor la ubicación de 0.97?



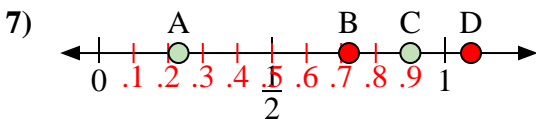
- a) ¿Qué letra representa mejor la ubicación de 1.0?
- b) ¿Qué letra representa mejor la ubicación de 0.10?



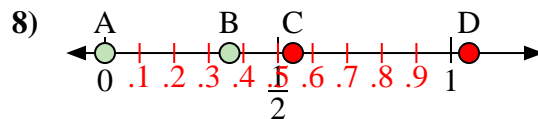
- a) ¿Qué letra representa mejor la ubicación de 1.10?
- b) ¿Qué letra representa mejor la ubicación de 0.14?



- a) ¿Qué letra representa mejor la ubicación de 0.80?
- b) ¿Qué letra representa mejor la ubicación de 0.95?



- a) ¿Qué letra representa mejor la ubicación de 0.9?
- b) ¿Qué letra representa mejor la ubicación de 0.23?



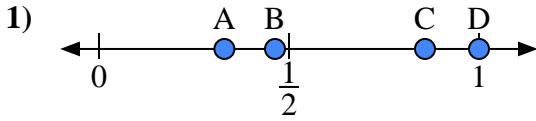
- a) ¿Qué letra representa mejor la ubicación de 0.00?
- b) ¿Qué letra representa mejor la ubicación de 0.36?

1. B D
2. B A
3. A C
4. D A
5. D A
6. C D
7. C A
8. A B

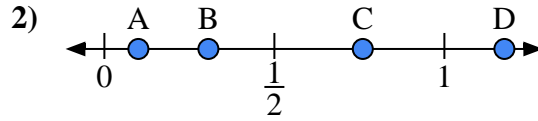


Usa las rectas numéricas para responder a las preguntas

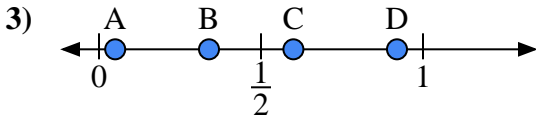
Respuestas



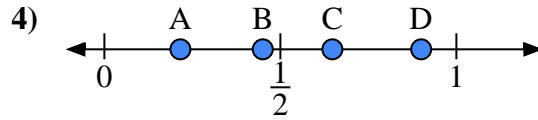
- a) ¿Qué letra representa mejor la ubicación de 1.0?
- b) ¿Qué letra representa mejor la ubicación de 0.33?



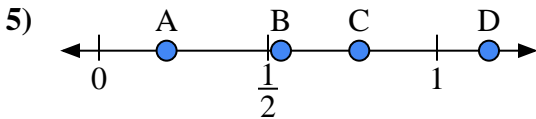
- a) ¿Qué letra representa mejor la ubicación de 0.10?
- b) ¿Qué letra representa mejor la ubicación de 0.76?



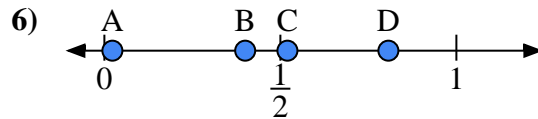
- a) ¿Qué letra representa mejor la ubicación de 0.60?
- b) ¿Qué letra representa mejor la ubicación de 0.05?



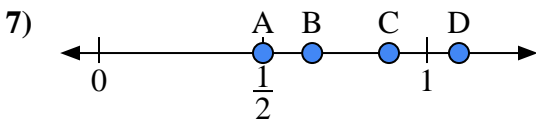
- a) ¿Qué letra representa mejor la ubicación de 0.90?
- b) ¿Qué letra representa mejor la ubicación de 0.45?



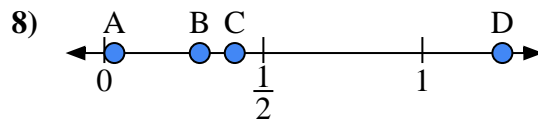
- a) ¿Qué letra representa mejor la ubicación de 0.2?
- b) ¿Qué letra representa mejor la ubicación de 0.77?



- a) ¿Qué letra representa mejor la ubicación de 0.40?
- b) ¿Qué letra representa mejor la ubicación de 0.52?



- a) ¿Qué letra representa mejor la ubicación de 0.5?
- b) ¿Qué letra representa mejor la ubicación de 0.65?



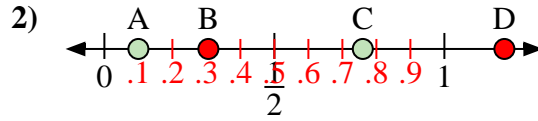
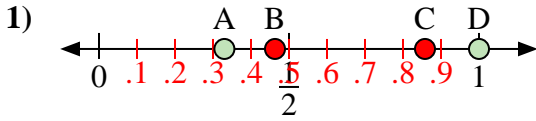
- a) ¿Qué letra representa mejor la ubicación de 0.30?
- b) ¿Qué letra representa mejor la ubicación de 0.41?

- 1. _____
- 2. _____
- 3. _____
- 4. _____
- 5. _____
- 6. _____
- 7. _____
- 8. _____



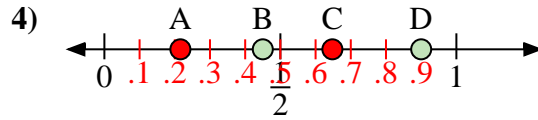
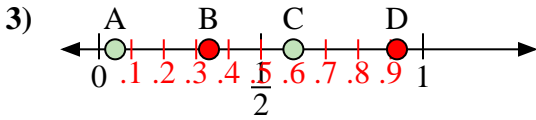
Usa las rectas numéricas para responder a las preguntas

Respuestas



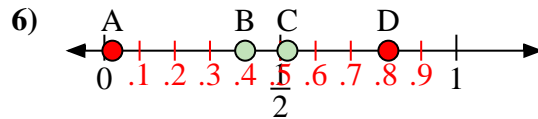
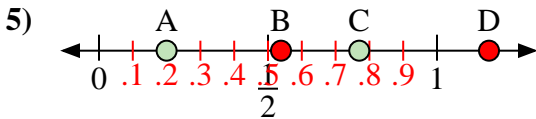
- a) ¿Qué letra representa mejor la ubicación de 1.0?
- b) ¿Qué letra representa mejor la ubicación de 0.33?

- a) ¿Qué letra representa mejor la ubicación de 0.10?
- b) ¿Qué letra representa mejor la ubicación de 0.76?



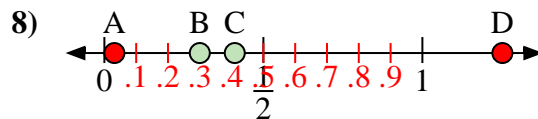
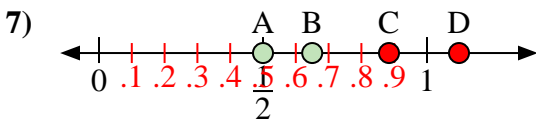
- a) ¿Qué letra representa mejor la ubicación de 0.60?
- b) ¿Qué letra representa mejor la ubicación de 0.05?

- a) ¿Qué letra representa mejor la ubicación de 0.90?
- b) ¿Qué letra representa mejor la ubicación de 0.45?



- a) ¿Qué letra representa mejor la ubicación de 0.2?
- b) ¿Qué letra representa mejor la ubicación de 0.77?

- a) ¿Qué letra representa mejor la ubicación de 0.40?
- b) ¿Qué letra representa mejor la ubicación de 0.52?



- a) ¿Qué letra representa mejor la ubicación de 0.5?
- b) ¿Qué letra representa mejor la ubicación de 0.65?

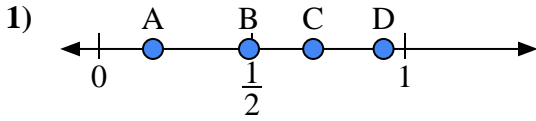
- a) ¿Qué letra representa mejor la ubicación de 0.30?
- b) ¿Qué letra representa mejor la ubicación de 0.41?

1. D A
2. A C
3. C A
4. D B
5. A C
6. B C
7. A B
8. B C

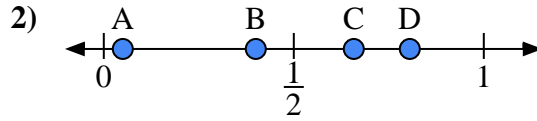


Usa las rectas numéricas para responder a las preguntas

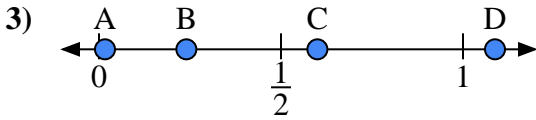
Respuestas



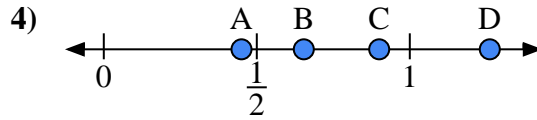
- a) ¿Qué letra representa mejor la ubicación de 0.7?'
- b) ¿Qué letra representa mejor la ubicación de 0.93?'



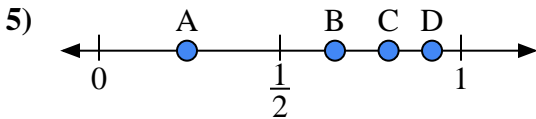
- a) ¿Qué letra representa mejor la ubicación de 0.40?'
- b) ¿Qué letra representa mejor la ubicación de 0.05?'



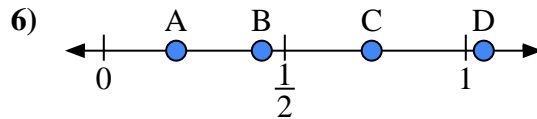
- a) ¿Qué letra representa mejor la ubicación de 0.60?'
- b) ¿Qué letra representa mejor la ubicación de 0.24?'



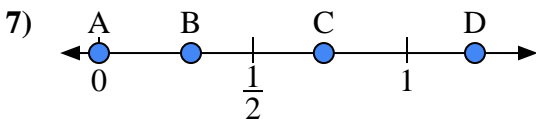
- a) ¿Qué letra representa mejor la ubicación de 0.90?'
- b) ¿Qué letra representa mejor la ubicación de 0.45?'



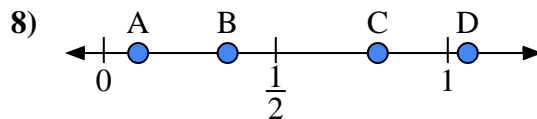
- a) ¿Qué letra representa mejor la ubicación de 0.8?'
- b) ¿Qué letra representa mejor la ubicación de 0.92?'



- a) ¿Qué letra representa mejor la ubicación de 0.20?'
- b) ¿Qué letra representa mejor la ubicación de 0.74?'



- a) ¿Qué letra representa mejor la ubicación de 0.00?'
- b) ¿Qué letra representa mejor la ubicación de 0.73?'



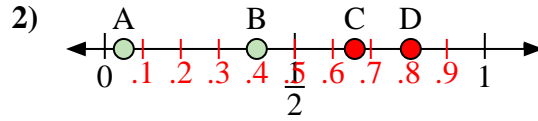
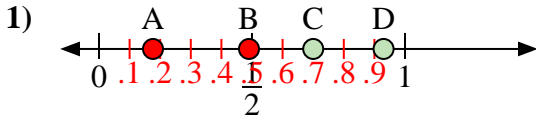
- a) ¿Qué letra representa mejor la ubicación de 0.1?'
- b) ¿Qué letra representa mejor la ubicación de 0.36?'

- 1. _____
- 2. _____
- 3. _____
- 4. _____
- 5. _____
- 6. _____
- 7. _____
- 8. _____



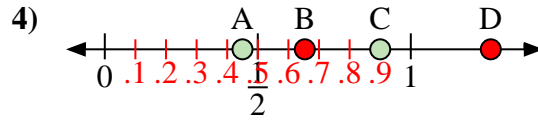
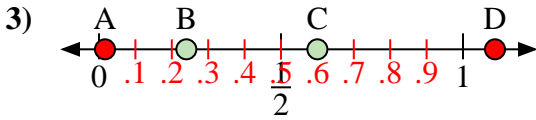
Usa las rectas numéricas para responder a las preguntas

Respuestas



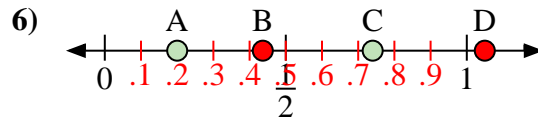
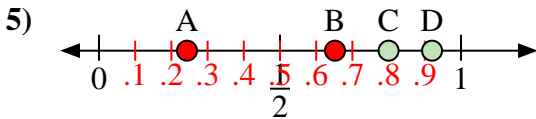
- a) ¿Qué letra representa mejor la ubicación de 0.7?
- b) ¿Qué letra representa mejor la ubicación de 0.93?

- a) ¿Qué letra representa mejor la ubicación de 0.40?
- b) ¿Qué letra representa mejor la ubicación de 0.05?



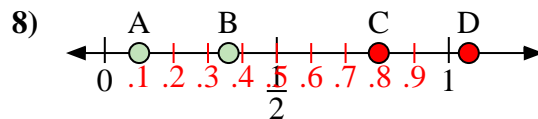
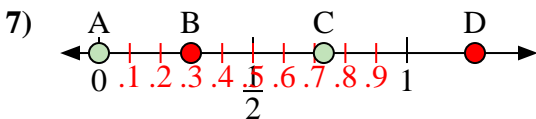
- a) ¿Qué letra representa mejor la ubicación de 0.60?
- b) ¿Qué letra representa mejor la ubicación de 0.24?

- a) ¿Qué letra representa mejor la ubicación de 0.90?
- b) ¿Qué letra representa mejor la ubicación de 0.45?



- a) ¿Qué letra representa mejor la ubicación de 0.8?
- b) ¿Qué letra representa mejor la ubicación de 0.92?

- a) ¿Qué letra representa mejor la ubicación de 0.20?
- b) ¿Qué letra representa mejor la ubicación de 0.74?



- a) ¿Qué letra representa mejor la ubicación de 0.00?
- b) ¿Qué letra representa mejor la ubicación de 0.73?

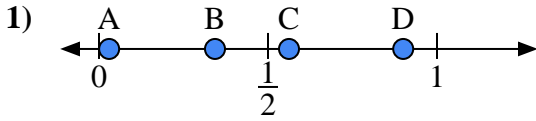
- a) ¿Qué letra representa mejor la ubicación de 0.1?
- b) ¿Qué letra representa mejor la ubicación de 0.36?

1. C D
2. B A
3. C B
4. C A
5. C D
6. A C
7. A C
8. A B

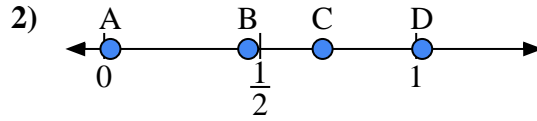


Usa las rectas numéricas para responder a las preguntas

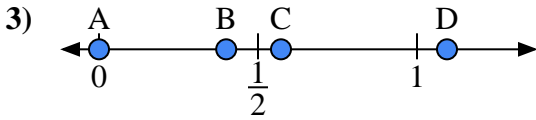
Respuestas



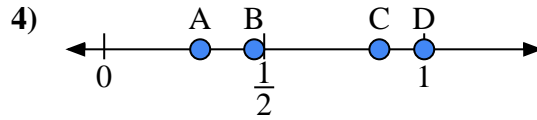
- a) ¿Qué letra representa mejor la ubicación de 0.9?'
- b) ¿Qué letra representa mejor la ubicación de 0.03?'



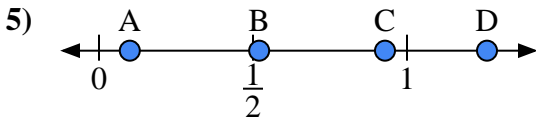
- a) ¿Qué letra representa mejor la ubicación de 0.7?'
- b) ¿Qué letra representa mejor la ubicación de 0.02?'



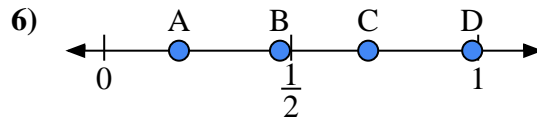
- a) ¿Qué letra representa mejor la ubicación de 0.00?'
- b) ¿Qué letra representa mejor la ubicación de 0.40?'



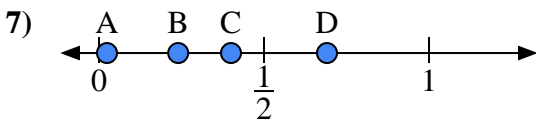
- a) ¿Qué letra representa mejor la ubicación de 1.0?'
- b) ¿Qué letra representa mejor la ubicación de 0.86?'



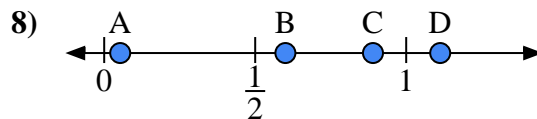
- a) ¿Qué letra representa mejor la ubicación de 0.10?'
- b) ¿Qué letra representa mejor la ubicación de 0.52?'



- a) ¿Qué letra representa mejor la ubicación de 0.2?'
- b) ¿Qué letra representa mejor la ubicación de 0.47?'



- a) ¿Qué letra representa mejor la ubicación de 0.4?'
- b) ¿Qué letra representa mejor la ubicación de 0.24?'



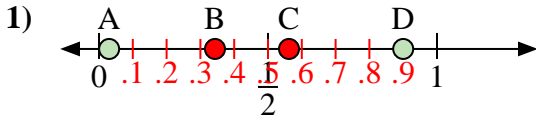
- a) ¿Qué letra representa mejor la ubicación de 0.60?'
- b) ¿Qué letra representa mejor la ubicación de 0.89?'

- 1. _____
- 2. _____
- 3. _____
- 4. _____
- 5. _____
- 6. _____
- 7. _____
- 8. _____

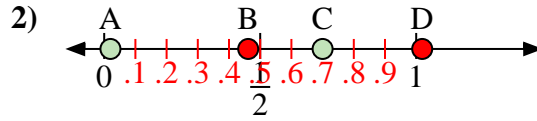


Usa las rectas numéricas para responder a las preguntas

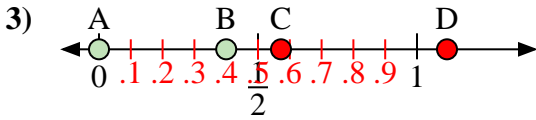
Respuestas



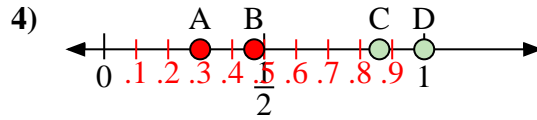
- a) ¿Qué letra representa mejor la ubicación de 0.9?
- b) ¿Qué letra representa mejor la ubicación de 0.03?



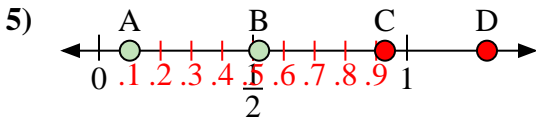
- a) ¿Qué letra representa mejor la ubicación de 0.7?
- b) ¿Qué letra representa mejor la ubicación de 0.02?



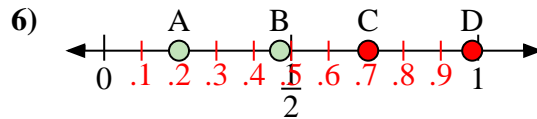
- a) ¿Qué letra representa mejor la ubicación de 0.00?
- b) ¿Qué letra representa mejor la ubicación de 0.40?



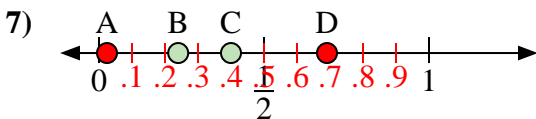
- a) ¿Qué letra representa mejor la ubicación de 1.0?
- b) ¿Qué letra representa mejor la ubicación de 0.86?



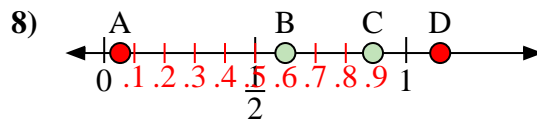
- a) ¿Qué letra representa mejor la ubicación de 0.10?
- b) ¿Qué letra representa mejor la ubicación de 0.52?



- a) ¿Qué letra representa mejor la ubicación de 0.2?
- b) ¿Qué letra representa mejor la ubicación de 0.47?



- a) ¿Qué letra representa mejor la ubicación de 0.4?
- b) ¿Qué letra representa mejor la ubicación de 0.24?



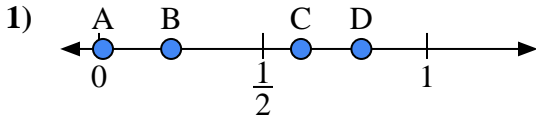
- a) ¿Qué letra representa mejor la ubicación de 0.60?
- b) ¿Qué letra representa mejor la ubicación de 0.89?

- 1. D A
- 2. C A
- 3. A B
- 4. D C
- 5. A B
- 6. A B
- 7. C B
- 8. B C

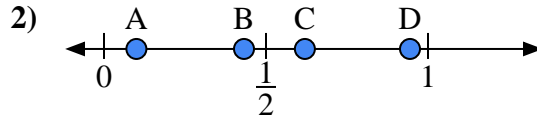


Usa las rectas numéricas para responder a las preguntas

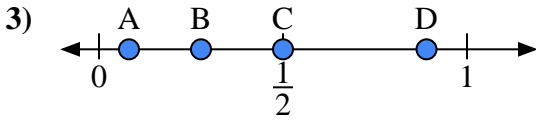
Respuestas



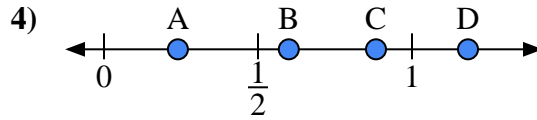
- a) ¿Qué letra representa mejor la ubicación de 0.80?'
- b) ¿Qué letra representa mejor la ubicación de 0.22?'



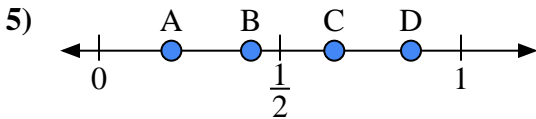
- a) ¿Qué letra representa mejor la ubicación de 0.1?'
- b) ¿Qué letra representa mejor la ubicación de 0.62?'



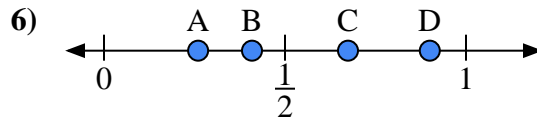
- a) ¿Qué letra representa mejor la ubicación de 0.5?'
- b) ¿Qué letra representa mejor la ubicación de 0.89?'



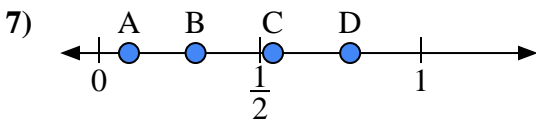
- a) ¿Qué letra representa mejor la ubicación de 0.6?'
- b) ¿Qué letra representa mejor la ubicación de 0.24?'



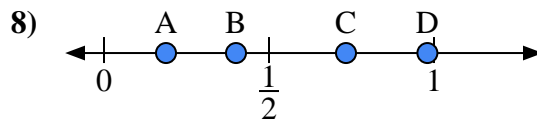
- a) ¿Qué letra representa mejor la ubicación de 0.20?'
- b) ¿Qué letra representa mejor la ubicación de 0.65?'



- a) ¿Qué letra representa mejor la ubicación de 0.90?'
- b) ¿Qué letra representa mejor la ubicación de 0.26?'



- a) ¿Qué letra representa mejor la ubicación de 0.3?'
- b) ¿Qué letra representa mejor la ubicación de 0.78?'



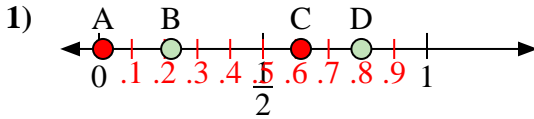
- a) ¿Qué letra representa mejor la ubicación de 0.40?'
- b) ¿Qué letra representa mejor la ubicación de 0.98?'

- 1. _____
- 2. _____
- 3. _____
- 4. _____
- 5. _____
- 6. _____
- 7. _____
- 8. _____

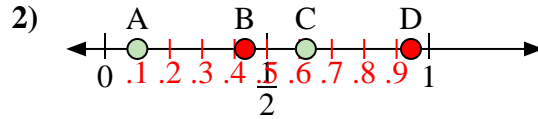


Usa las rectas numéricas para responder a las preguntas

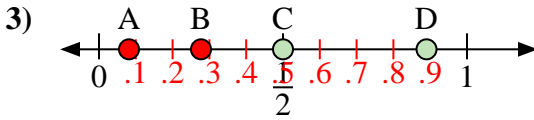
Respuestas



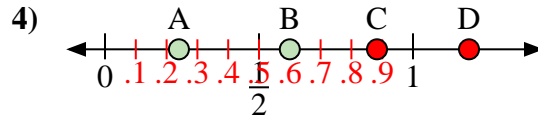
- a) ¿Qué letra representa mejor la ubicación de 0.80?'
- b) ¿Qué letra representa mejor la ubicación de 0.22?'



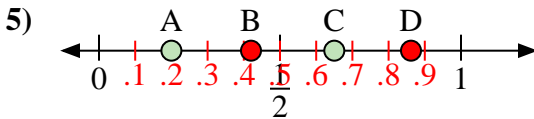
- a) ¿Qué letra representa mejor la ubicación de 0.1?'
- b) ¿Qué letra representa mejor la ubicación de 0.62?'



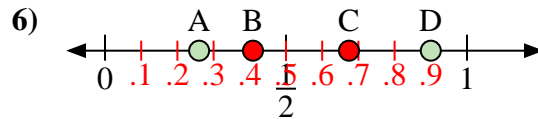
- a) ¿Qué letra representa mejor la ubicación de 0.5?'
- b) ¿Qué letra representa mejor la ubicación de 0.89?'



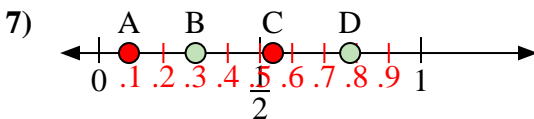
- a) ¿Qué letra representa mejor la ubicación de 0.6?'
- b) ¿Qué letra representa mejor la ubicación de 0.24?'



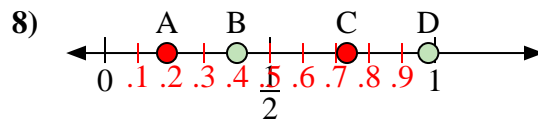
- a) ¿Qué letra representa mejor la ubicación de 0.20?'
- b) ¿Qué letra representa mejor la ubicación de 0.65?'



- a) ¿Qué letra representa mejor la ubicación de 0.90?'
- b) ¿Qué letra representa mejor la ubicación de 0.26?'



- a) ¿Qué letra representa mejor la ubicación de 0.3?'
- b) ¿Qué letra representa mejor la ubicación de 0.78?'



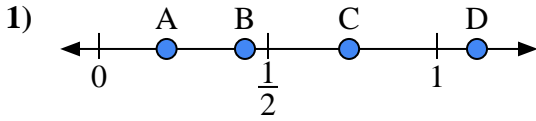
- a) ¿Qué letra representa mejor la ubicación de 0.40?'
- b) ¿Qué letra representa mejor la ubicación de 0.98?'

1. D B
2. A C
3. C D
4. B A
5. A C
6. D A
7. B D
8. B D

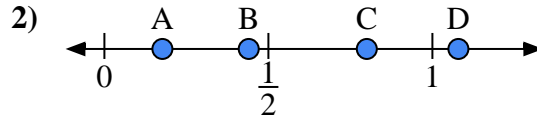


Usa las rectas numéricas para responder a las preguntas

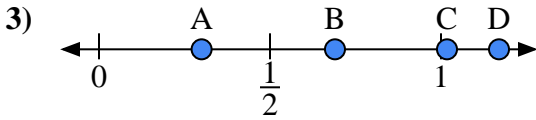
Respuestas



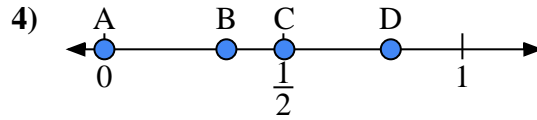
- a) ¿Qué letra representa mejor la ubicación de 0.20?
- b) ¿Qué letra representa mejor la ubicación de 0.74?



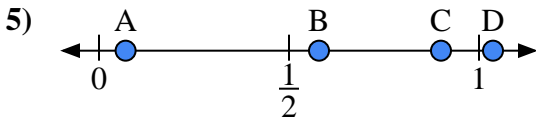
- a) ¿Qué letra representa mejor la ubicación de 0.8?
- b) ¿Qué letra representa mejor la ubicación de 0.44?



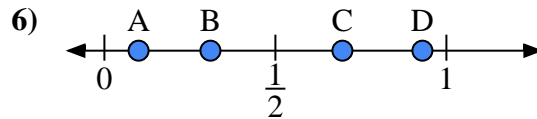
- a) ¿Qué letra representa mejor la ubicación de 0.30?
- b) ¿Qué letra representa mejor la ubicación de 0.69?



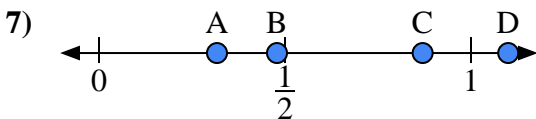
- a) ¿Qué letra representa mejor la ubicación de 0.0?
- b) ¿Qué letra representa mejor la ubicación de 0.80?



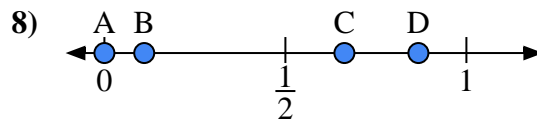
- a) ¿Qué letra representa mejor la ubicación de 0.90?
- b) ¿Qué letra representa mejor la ubicación de 0.07?



- a) ¿Qué letra representa mejor la ubicación de 0.10?
- b) ¿Qué letra representa mejor la ubicación de 0.31?



- a) ¿Qué letra representa mejor la ubicación de 1.10?
- b) ¿Qué letra representa mejor la ubicación de 0.87?



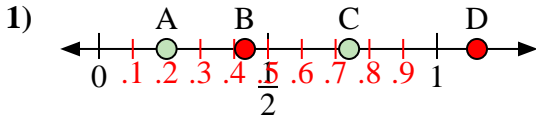
- a) ¿Qué letra representa mejor la ubicación de 0.00?
- b) ¿Qué letra representa mejor la ubicación de 0.11?

- 1. _____
- 2. _____
- 3. _____
- 4. _____
- 5. _____
- 6. _____
- 7. _____
- 8. _____

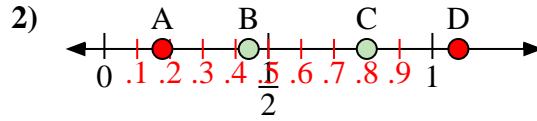


Usa las rectas numéricas para responder a las preguntas

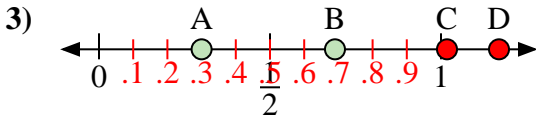
Respuestas



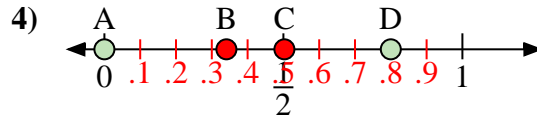
- a) ¿Qué letra representa mejor la ubicación de 0.20?
- b) ¿Qué letra representa mejor la ubicación de 0.74?



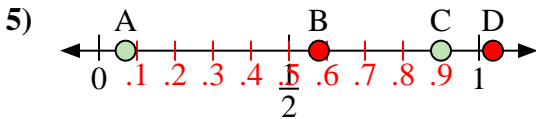
- a) ¿Qué letra representa mejor la ubicación de 0.8?
- b) ¿Qué letra representa mejor la ubicación de 0.44?



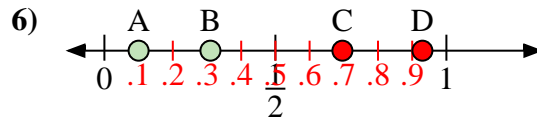
- a) ¿Qué letra representa mejor la ubicación de 0.30?
- b) ¿Qué letra representa mejor la ubicación de 0.69?



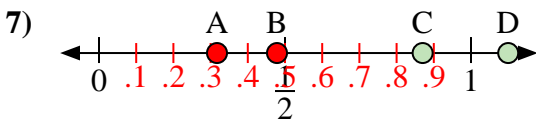
- a) ¿Qué letra representa mejor la ubicación de 0.0?
- b) ¿Qué letra representa mejor la ubicación de 0.80?



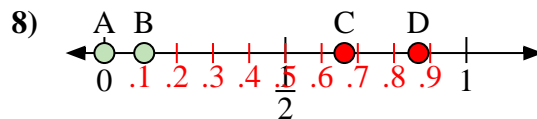
- a) ¿Qué letra representa mejor la ubicación de 0.90?
- b) ¿Qué letra representa mejor la ubicación de 0.07?



- a) ¿Qué letra representa mejor la ubicación de 0.10?
- b) ¿Qué letra representa mejor la ubicación de 0.31?



- a) ¿Qué letra representa mejor la ubicación de 1.10?
- b) ¿Qué letra representa mejor la ubicación de 0.87?



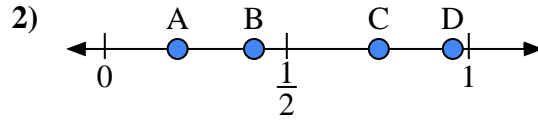
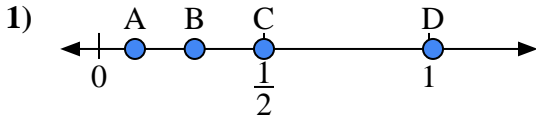
- a) ¿Qué letra representa mejor la ubicación de 0.00?
- b) ¿Qué letra representa mejor la ubicación de 0.11?

- 1. A C
- 2. C B
- 3. A B
- 4. A D
- 5. C A
- 6. A B
- 7. D C
- 8. A B



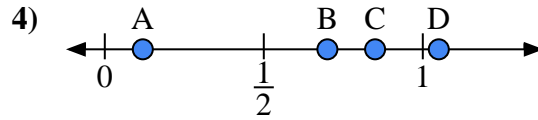
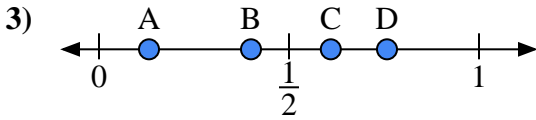
Usa las rectas numéricas para responder a las preguntas

Respuestas



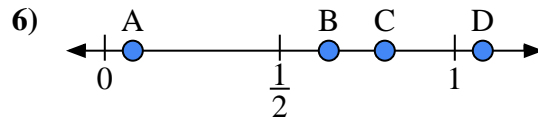
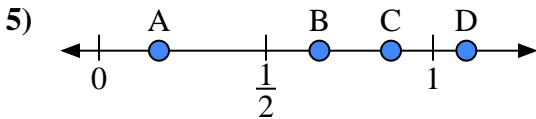
- a) ¿Qué letra representa mejor la ubicación de 0.5?'
- b) ¿Qué letra representa mejor la ubicación de 0.29?'

- a) ¿Qué letra representa mejor la ubicación de 0.20?'
- b) ¿Qué letra representa mejor la ubicación de 0.41?'



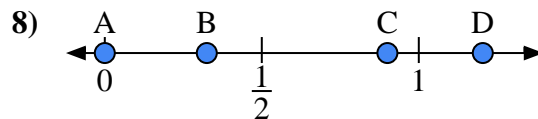
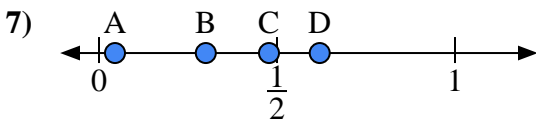
- a) ¿Qué letra representa mejor la ubicación de 0.40?'
- b) ¿Qué letra representa mejor la ubicación de 0.61?'

- a) ¿Qué letra representa mejor la ubicación de 0.70?'
- b) ¿Qué letra representa mejor la ubicación de 0.85?'



- a) ¿Qué letra representa mejor la ubicación de 1.1?'
- b) ¿Qué letra representa mejor la ubicación de 0.66?'

- a) ¿Qué letra representa mejor la ubicación de 0.8?'
- b) ¿Qué letra representa mejor la ubicación de 0.08?'



- a) ¿Qué letra representa mejor la ubicación de 0.30?'
- b) ¿Qué letra representa mejor la ubicación de 0.62?'

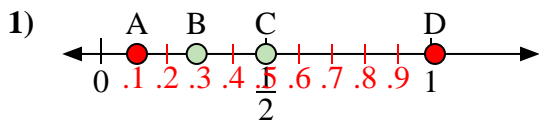
- a) ¿Qué letra representa mejor la ubicación de 0.00?'
- b) ¿Qué letra representa mejor la ubicación de 0.90?'

1. _____
2. _____
3. _____
4. _____
5. _____
6. _____
7. _____
8. _____

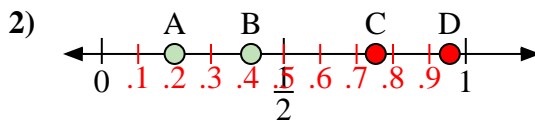


Usa las rectas numéricas para responder a las preguntas

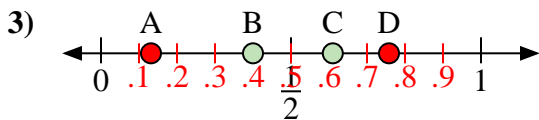
Respuestas



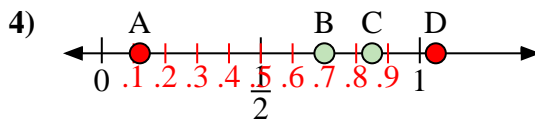
- a) ¿Qué letra representa mejor la ubicación de 0.5?
- b) ¿Qué letra representa mejor la ubicación de 0.29?



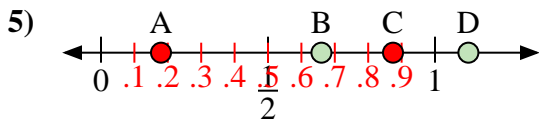
- a) ¿Qué letra representa mejor la ubicación de 0.20?
- b) ¿Qué letra representa mejor la ubicación de 0.41?



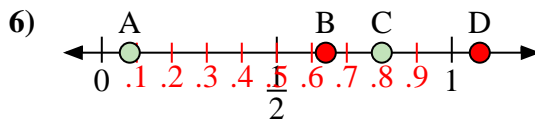
- a) ¿Qué letra representa mejor la ubicación de 0.40?
- b) ¿Qué letra representa mejor la ubicación de 0.61?



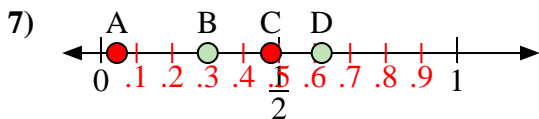
- a) ¿Qué letra representa mejor la ubicación de 0.70?
- b) ¿Qué letra representa mejor la ubicación de 0.85?



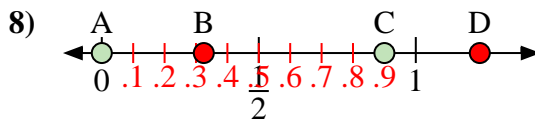
- a) ¿Qué letra representa mejor la ubicación de 1.1?
- b) ¿Qué letra representa mejor la ubicación de 0.66?



- a) ¿Qué letra representa mejor la ubicación de 0.8?
- b) ¿Qué letra representa mejor la ubicación de 0.08?



- a) ¿Qué letra representa mejor la ubicación de 0.30?
- b) ¿Qué letra representa mejor la ubicación de 0.62?



- a) ¿Qué letra representa mejor la ubicación de 0.00?
- b) ¿Qué letra representa mejor la ubicación de 0.90?

1. C B

2. A B

3. B C

4. B C

5. D B

6. C A

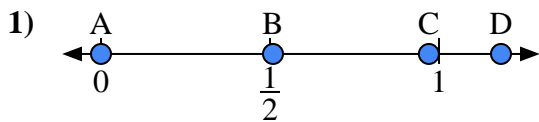
7. B D

8. A C

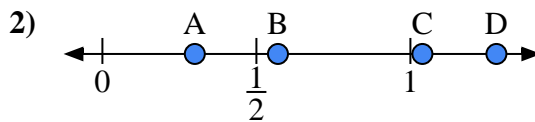


Usa las rectas numéricas para responder a las preguntas

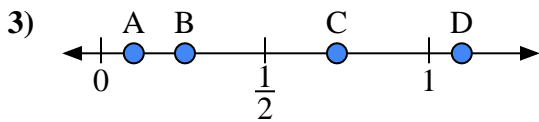
Respuestas



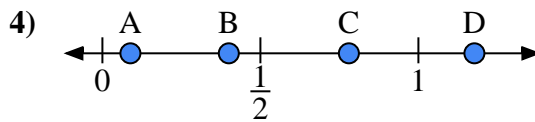
- a) ¿Qué letra representa mejor la ubicación de 0.00?'
- b) ¿Qué letra representa mejor la ubicación de 0.97?'



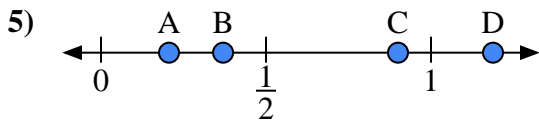
- a) ¿Qué letra representa mejor la ubicación de 0.30?'
- b) ¿Qué letra representa mejor la ubicación de 0.57?'



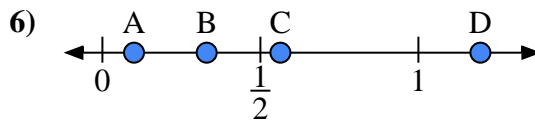
- a) ¿Qué letra representa mejor la ubicación de 1.10?'
- b) ¿Qué letra representa mejor la ubicación de 0.10?'



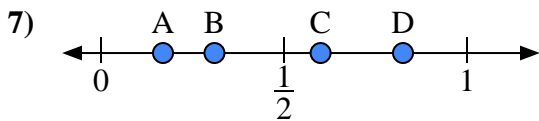
- a) ¿Qué letra representa mejor la ubicación de 0.4?'
- b) ¿Qué letra representa mejor la ubicación de 0.78?'



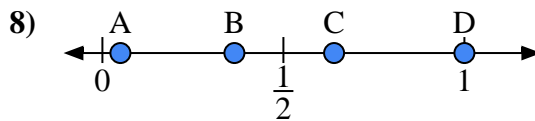
- a) ¿Qué letra representa mejor la ubicación de 0.90?'
- b) ¿Qué letra representa mejor la ubicación de 0.37?'



- a) ¿Qué letra representa mejor la ubicación de 0.1?'
- b) ¿Qué letra representa mejor la ubicación de 0.33?'



- a) ¿Qué letra representa mejor la ubicación de 0.6?'
- b) ¿Qué letra representa mejor la ubicación de 0.31?'



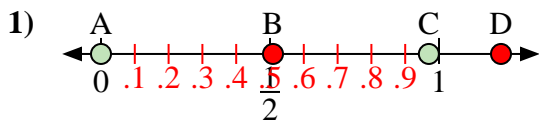
- a) ¿Qué letra representa mejor la ubicación de 1.0?'
- b) ¿Qué letra representa mejor la ubicación de 0.64?'

- 1. _____
- 2. _____
- 3. _____
- 4. _____
- 5. _____
- 6. _____
- 7. _____
- 8. _____

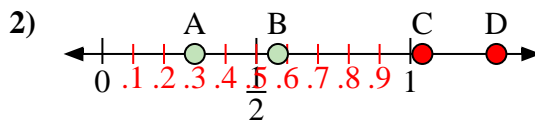


Usa las rectas numéricas para responder a las preguntas

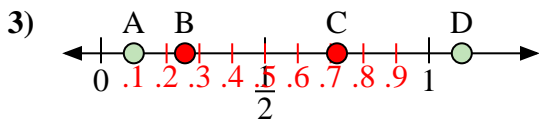
Respuestas



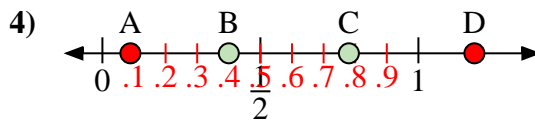
- a) ¿Qué letra representa mejor la ubicación de 0.00?'
- b) ¿Qué letra representa mejor la ubicación de 0.97?'



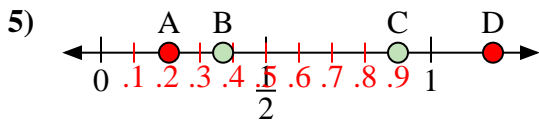
- a) ¿Qué letra representa mejor la ubicación de 0.30?'
- b) ¿Qué letra representa mejor la ubicación de 0.57?'



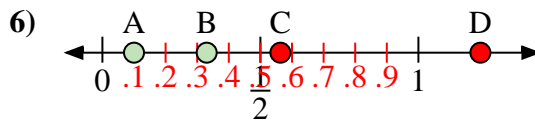
- a) ¿Qué letra representa mejor la ubicación de 1.10?'
- b) ¿Qué letra representa mejor la ubicación de 0.10?'



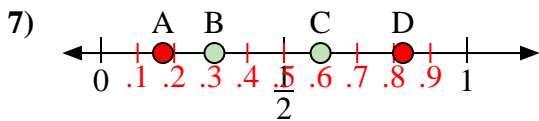
- a) ¿Qué letra representa mejor la ubicación de 0.4?'
- b) ¿Qué letra representa mejor la ubicación de 0.78?'



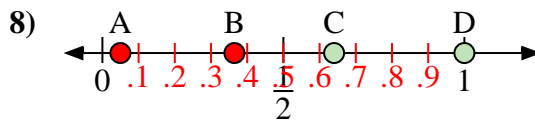
- a) ¿Qué letra representa mejor la ubicación de 0.90?'
- b) ¿Qué letra representa mejor la ubicación de 0.37?'



- a) ¿Qué letra representa mejor la ubicación de 0.1?'
- b) ¿Qué letra representa mejor la ubicación de 0.33?'



- a) ¿Qué letra representa mejor la ubicación de 0.6?'
- b) ¿Qué letra representa mejor la ubicación de 0.31?'



- a) ¿Qué letra representa mejor la ubicación de 1.0?'
- b) ¿Qué letra representa mejor la ubicación de 0.64?'

1. A C

2. A B

3. D A

4. B C

5. C B

6. A B

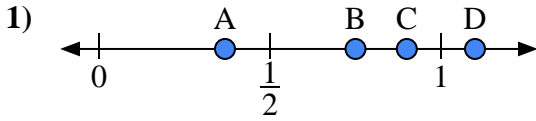
7. C B

8. D C

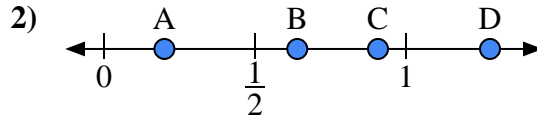


Usa las rectas numéricas para responder a las preguntas

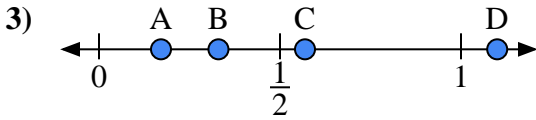
Respuestas



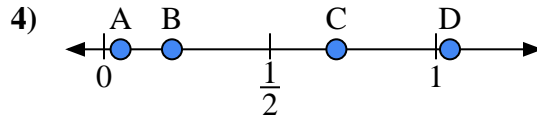
- a) ¿Qué letra representa mejor la ubicación de 0.90?
- b) ¿Qué letra representa mejor la ubicación de 0.75?



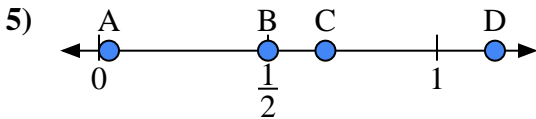
- a) ¿Qué letra representa mejor la ubicación de 0.2?
- b) ¿Qué letra representa mejor la ubicación de 0.64?



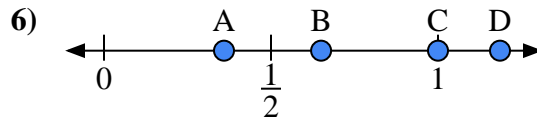
- a) ¿Qué letra representa mejor la ubicación de 1.10?
- b) ¿Qué letra representa mejor la ubicación de 0.33?



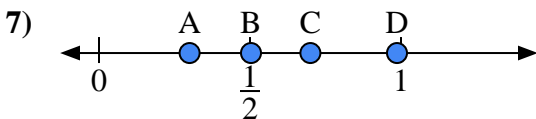
- a) ¿Qué letra representa mejor la ubicación de 0.70?
- b) ¿Qué letra representa mejor la ubicación de 0.05?



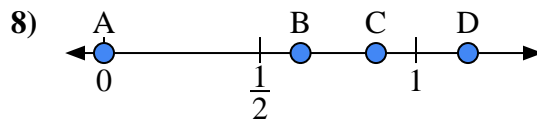
- a) ¿Qué letra representa mejor la ubicación de 0.50?
- b) ¿Qué letra representa mejor la ubicación de 0.67?



- a) ¿Qué letra representa mejor la ubicación de 1.00?
- b) ¿Qué letra representa mejor la ubicación de 0.65?



- a) ¿Qué letra representa mejor la ubicación de 0.3?
- b) ¿Qué letra representa mejor la ubicación de 0.70?



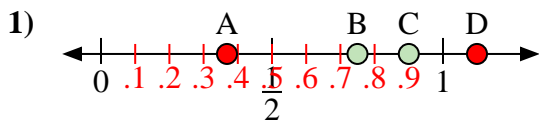
- a) ¿Qué letra representa mejor la ubicación de 0.00?
- b) ¿Qué letra representa mejor la ubicación de 0.63?

- 1. _____
- 2. _____
- 3. _____
- 4. _____
- 5. _____
- 6. _____
- 7. _____
- 8. _____

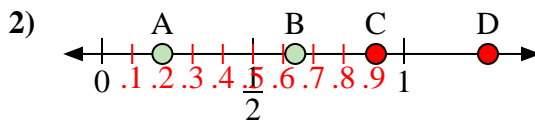


Usa las rectas numéricas para responder a las preguntas

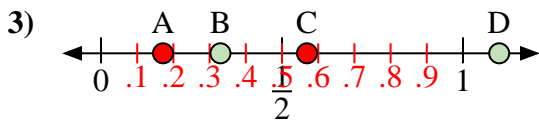
Respuestas



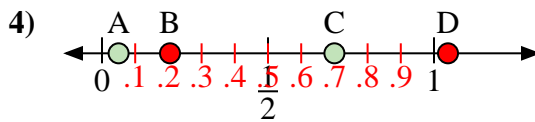
- a) ¿Qué letra representa mejor la ubicación de 0.90?
- b) ¿Qué letra representa mejor la ubicación de 0.75?



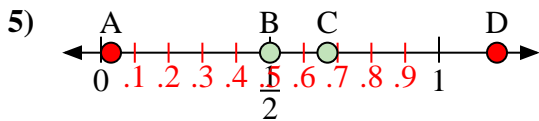
- a) ¿Qué letra representa mejor la ubicación de 0.2?
- b) ¿Qué letra representa mejor la ubicación de 0.64?



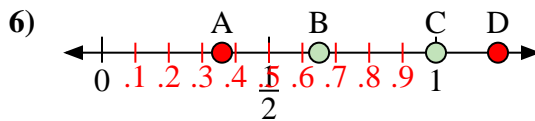
- a) ¿Qué letra representa mejor la ubicación de 1.10?
- b) ¿Qué letra representa mejor la ubicación de 0.33?



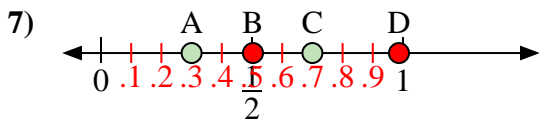
- a) ¿Qué letra representa mejor la ubicación de 0.70?
- b) ¿Qué letra representa mejor la ubicación de 0.05?



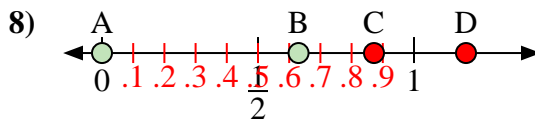
- a) ¿Qué letra representa mejor la ubicación de 0.50?
- b) ¿Qué letra representa mejor la ubicación de 0.67?



- a) ¿Qué letra representa mejor la ubicación de 1.00?
- b) ¿Qué letra representa mejor la ubicación de 0.65?



- a) ¿Qué letra representa mejor la ubicación de 0.3?
- b) ¿Qué letra representa mejor la ubicación de 0.70?



- a) ¿Qué letra representa mejor la ubicación de 0.00?
- b) ¿Qué letra representa mejor la ubicación de 0.63?

1. C B

2. A B

3. D B

4. C A

5. B C

6. C B

7. A C

8. A B