



Determina cuál letra mejor representa el volúmen.

Respuestas

Milliliter

Un mililitro equivale a unas 20 gotas de agua.



Liter

Muchas botellas grandes de refrescos tienen 1 o 2 litros.

1 Liter = 1,000 Milliliters



1. _____
2. _____
3. _____
4. _____
5. _____
6. _____
7. _____
8. _____
9. _____

1)



Refresco en lata

- A. 350 litros
- B. 2 mililitros
- C. 350 mililitros
- D. 2 litros


2)



Harina de brownies en una sartén

- A. 10 mililitros
- B. 0.5 litros
- C. 3 litros
- D. 16 litros


3)



carretilla de Arena

- A. 500 mililitros
- B. 3 litros
- C. 170 litros
- D. 50 mililitros

4)



Tanque de gasolina de un coche

- A. 3 litros
- B. 70 mililitros
- C. 60 litros
- D. 15 mililitros

5)



Arena en un balde

- A. 20 litros
- B. 1 mililitro
- C. 4 litros
- D. 4 mililitros

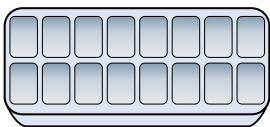
6)



Botella de Pegamento

- A. 120 mililitros
- B. 3 mililitros
- C. 5 litros
- D. 2 litros

7)



Agua en una bandeja de hielo

- A. 2 mililitros
- B. 0.5 litros
- C. 50 mililitros
- D. 2 litros

8)



Taza medidora

- A. 237 mililitros
- B. 237 litros
- C. 50 mililitros
- D. 1 litro

9)



Shampoo en una botella

- A. 1 mililitro
- B. 1.5 litros
- C. 20 litros
- D. 20 mililitros



Determina cuál letra mejor representa el volúmen.

Milliliter

Un mililitro equivale a unas 20 gotas de agua.



Liter


Muchas botellas grandes de refrescos tienen 1 o 2 litros.

1 Liter = 1,000 Milliliters



Respuestas

1)



Refresco en lata

- A. 350 litros
- B. 2 mililitros
- C. 350 mililitros
- D. 2 litros


2)



Harina de brownies en una sartén

- A. 10 mililitros
- B. 0.5 litros
- C. 3 litros
- D. 16 litros


3)



carretilla de Arena

- A. 500 mililitros
- B. 3 litros
- C. 170 litros
- D. 50 mililitros

4)



Tanque de gasolina de un coche

- A. 3 litros
- B. 70 mililitros
- C. 60 litros
- D. 15 mililitros

5)



Arena en un balde

- A. 20 litros
- B. 1 mililitro
- C. 4 litros
- D. 4 mililitros

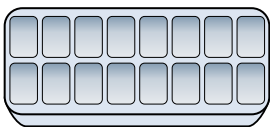
6)



Botella de Pegamento

- A. 120 mililitros
- B. 3 mililitros
- C. 5 litros
- D. 2 litros

7)



Agua en una bandeja de hielo

- A. 2 mililitros
- B. 0.5 litros
- C. 50 mililitros
- D. 2 litros

8)



Taza medidora

- A. 237 mililitros
- B. 237 litros
- C. 50 mililitros
- D. 1 litro

9)



Shampoo en una botella

- A. 1 mililitro
- B. 1.5 litros
- C. 20 litros
- D. 20 mililitros

- 1. **C**
- 2. **B**
- 3. **C**
- 4. **C**
- 5. **C**
- 6. **A**
- 7. **B**
- 8. **A**
- 9. **B**