



Determina cuál letra mejor representa el volúmen.

Respuestas

Xícara

Una taza se refiere a la cantidad de leche que se obtiene de la cafetería.



Pinta

Uma pinta é aproximadamente a quantidade que você recebe em um copo grande.
1 pinta = 2 xícaras



Quarto

Um quarto é mais ou menos a quantidade que você consegue em um recipiente grande de leite.
1 cuarto = 2 pintas

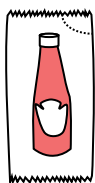


Galón

Un galón es la cantidad que viene en un recipiente de plástico grande.
1 galón = 4 cuartos




1)



Ketchup en un paquete

- A. 1.5 Pintas
- B. 2 cuartos
- C. 0.5 galones
- D. menor que 1 taza

2)



Cubeta de hielo

- A. 2 cuartos
- B. 16 tazas
- C. 100 cuartos
- D. 5 galones


3)



Arena en un cubo

- A. 1 taza
- B. 1 galón
- C. 32 galones
- D. 7 onzas líquidas

4)



Agua que cabe en un barril

- A. 20 tazas
- B. 3 pulgadas
- C. 50 galones
- D. 10 Pintas

5)



Plato de Cereal

- A. 4 Pintas
- B. 0.5 galones
- C. 1 Pinta
- D. 2 galones

6)



2 litros de Soda

- A. 5 galones
- B. 0.5 galones
- C. 2 tazas
- D. 1 Pinta

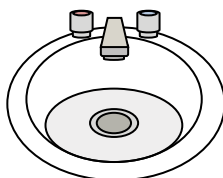
7)



Tinta en una pluma

- A. 2 Pintas
- B. 1 galón
- C. menor que 1 taza
- D. 1 cuarto

8)



Agua en un lavamanos

- A. 2 tazas
- B. 2 galones
- C. 2 Pintas
- D. 2 onzas líquidas

9)



Líquido en una cuchara

- A. 1 cuarto
- B. 1 taza
- C. 1 Pinta
- D. Less than a cup

- 1. _____
- 2. _____
- 3. _____
- 4. _____
- 5. _____
- 6. _____
- 7. _____
- 8. _____
- 9. _____



Determina cuál letra mejor representa el volúmen.

Respuestas

Xícara

Una taza se refiere a la cantidad de leche que se obtiene de la cafetería.



Pinta

Uma pinta é aproximadamente a quantidade que você recebe em um copo grande.
1 pinta = 2 xícaras



Quarto

Um quarto é mais ou menos a quantidade que você consegue em um recipiente grande de leite.
1 cuarto = 2 pintas

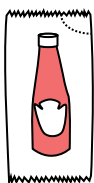


Galón

Un galón es la cantidad que viene en un recipiente de plástico grande.
1 galón = 4 cuartos




1)



Ketchup en un paquete

- A. 1.5 Pintas
- B. 2 cuartos
- C. 0.5 galones
- D. menor que 1 taza

2)



Cubeta de hielo

- A. 2 cuartos
- B. 16 tazas
- C. 100 cuartos
- D. 5 galones


3)



Arena en un cubo

- A. 1 taza
- B. 1 galón
- C. 32 galones
- D. 7 onzas líquidas

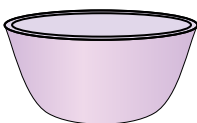
4)



Agua que cabe en un barril

- A. 20 tazas
- B. 3 pulgadas
- C. 50 galones
- D. 10 Pintas

5)



Plato de Cereal

- A. 4 Pintas
- B. 0.5 galones
- C. 1 Pinta
- D. 2 galones

6)



2 litros de Soda

- A. 5 galones
- B. 0.5 galones
- C. 2 tazas
- D. 1 Pinta

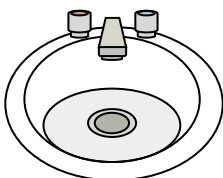
7)



Tinta en una pluma

- A. 2 Pintas
- B. 1 galón
- C. menor que 1 taza
- D. 1 cuarto

8)



Agua en un lavamanos

- A. 2 tazas
- B. 2 galones
- C. 2 Pintas
- D. 2 onzas líquidas

9)



Líquido en una cuchara

- A. 1 cuarto
- B. 1 taza
- C. 1 Pinta
- D. Less than a cup

- 1. **D**
- 2. **C**
- 3. **B**
- 4. **C**
- 5. **C**
- 6. **B**
- 7. **C**
- 8. **B**
- 9. **D**