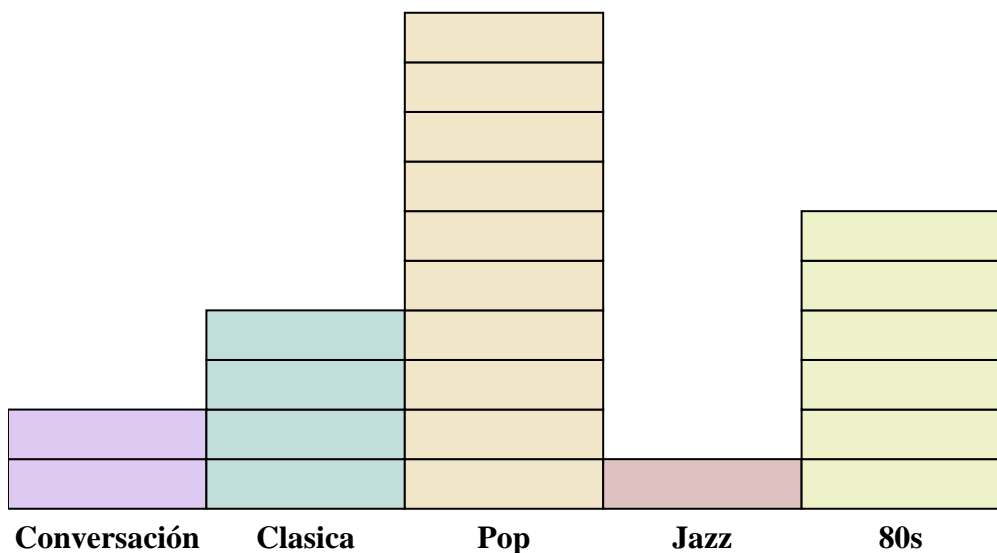





Resuelve cada problema.



Cada  = 2 anuncios reproducidos

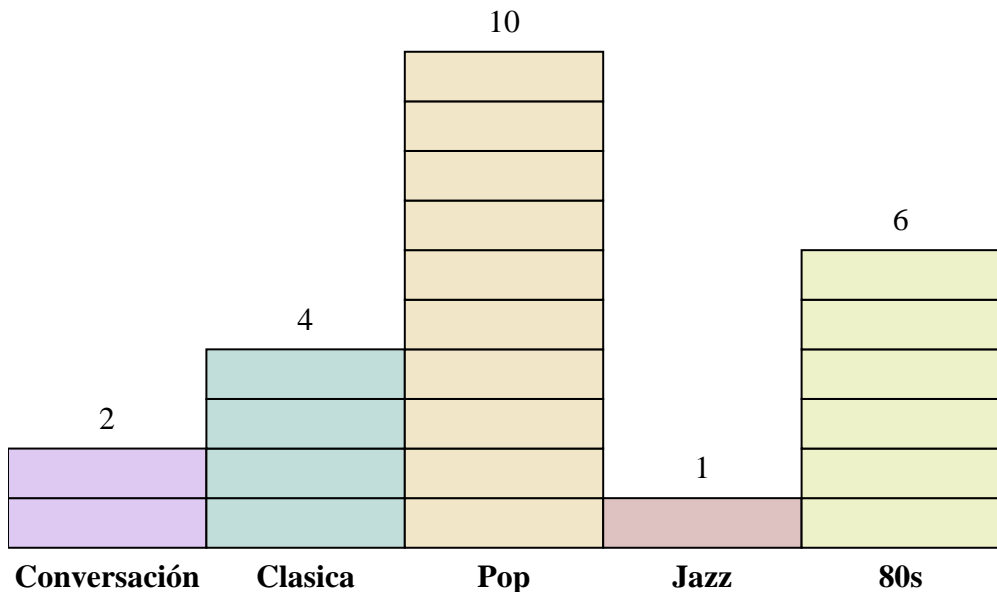
Respuestas

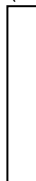
1. _____
2. _____
3. _____
4. _____
5. _____
6. _____
7. _____
8. _____
9. _____
10. _____

- 1) ¿Cuántos anuncios más tenía la estación Conversación que la estación Jazz?
- 2) ¿Qué estación tenía la mayoría de los anuncios?
- 3) ¿Qué estación tenía la menor cantidad de anuncios?
- 4) ¿Cuál es el número total de anuncios en todas las estaciones?
- 5) Hubo un menor número de anuncios en la estación Clasica o la estación Conversación?
- 6) ¿Hubo más anuncios en la estación Pop o la estación Conversación?
- 7) ¿Qué estación tenía exactamente 20 anuncios?
- 8) ¿Cuántos anuncios estaban en la estación Conversación?
- 9) ¿Cuál es el número total de anuncios en la estación Jazz y la estación Clasica?
- 10) ¿Cuál es la diferencia en el número de anuncios en la estación Pop y en la estación 80s?



Resuelve cada problema.



Cada  = 2 anuncios reproducidos

Respuestas

1. 2
2. Pop
3. Jazz
4. 46
5. Conversación
6. Pop
7. Pop
8. 4
9. 10
10. 8

- 1) ¿Cuántos anuncios más tenía la estación Conversación que la estación Jazz?
- 2) ¿Qué estación tenía la mayoría de los anuncios?
- 3) ¿Qué estación tenía la menor cantidad de anuncios?
- 4) ¿Cuál es el número total de anuncios en todas las estaciones?
- 5) Hubo un menor número de anuncios en la estación Clasica o la estación Conversación?
- 6) ¿Hubo más anuncios en la estación Pop o la estación Conversación?
- 7) ¿Qué estación tenía exactamente 20 anuncios?
- 8) ¿Cuántos anuncios estaban en la estación Conversación?
- 9) ¿Cuál es el número total de anuncios en la estación Jazz y la estación Clasica?
- 10) ¿Cuál es la diferencia en el número de anuncios en la estación Pop y en la estación 80s?