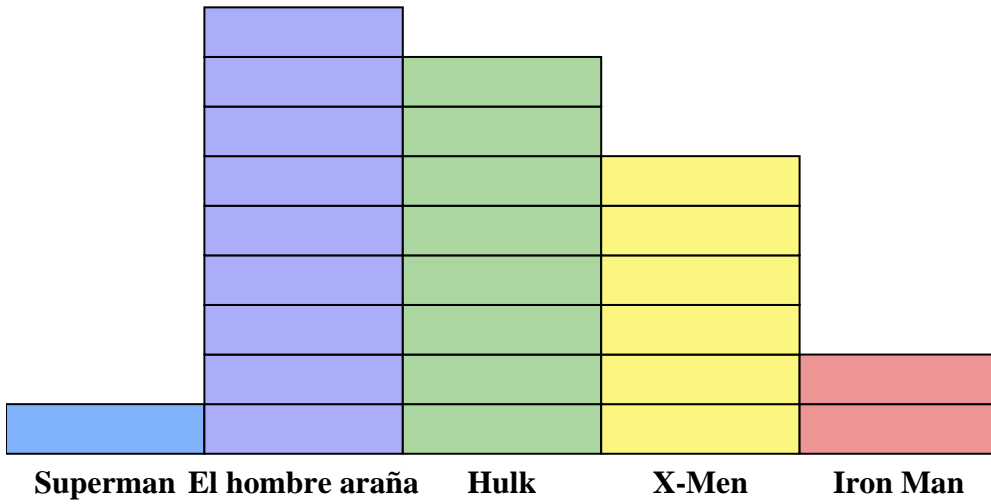




Resuelve cada problema.



Cada = 2 Números vendidos

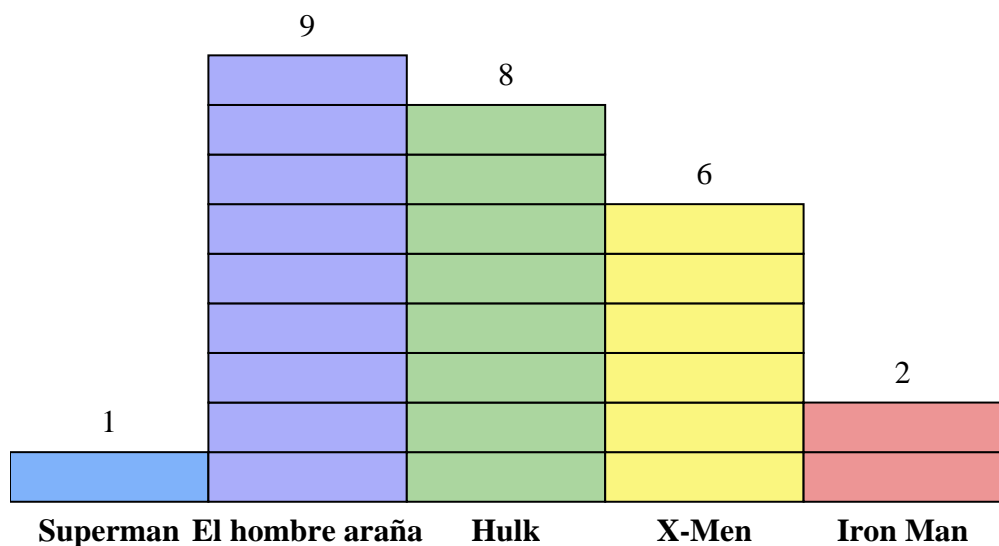
**Respuestas**

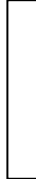
1. \_\_\_\_\_
2. \_\_\_\_\_
3. \_\_\_\_\_
4. \_\_\_\_\_
5. \_\_\_\_\_
6. \_\_\_\_\_
7. \_\_\_\_\_
8. \_\_\_\_\_
9. \_\_\_\_\_
10. \_\_\_\_\_

- 1) ¿Cuántos números más de El hombre araña fueron vendidos que de X-Men?
- 2) ¿Qué serie de cómics vendió la mayor cantidad de números?
- 3) ¿Qué serie de cómics vendió la menor cantidad de números?
- 4) ¿Cuál es el número total de números vendidos de todos los cómics?
- 5) ¿Qué serie de cómics fueron menos vendidos Iron Man o Hulk?
- 6) ¿Qué serie de cómics fueron más vendidos, Superman o Iron Man?
- 7) ¿Qué serie de cómics vendieron exactamente 2 números?
- 8) ¿Cuántos números de X-Men se vendieron?
- 9) ¿Cuál es el número total de números vendidos de X-Men y Hulk?
- 10) ¿Cuál es la diferencia en el número de X-Men vendidos y el número de Iron Man vendidos?



Resuelve cada problema.



Cada  = 2 Números vendidos

- 1) ¿Cuántos números más de El hombre araña fueron vendidos que de X-Men?
- 2) ¿Qué serie de cómics vendió la mayor cantidad de números?
- 3) ¿Qué serie de cómics vendió la menor cantidad de números?
- 4) ¿Cuál es el número total de números vendidos de todos los cómics?
- 5) ¿Qué serie de cómics fueron menos vendidos Iron Man o Hulk?
- 6) ¿Qué serie de cómics fueron más vendidos, Superman o Iron Man?
- 7) ¿Qué serie de cómics vendieron exactamente 2 números?
- 8) ¿Cuántos números de X-Men se vendieron?
- 9) ¿Cuál es el número total de números vendidos de X-Men y Hulk?
- 10) ¿Cuál es la diferencia en el número de X-Men vendidos y el número de Iron Man vendidos?

**Respuestas**

1. **6**
2. **El hombre araña**
3. **Superman**
4. **52**
5. **Iron Man**
6. **Iron Man**
7. **Superman**
8. **12**
9. **28**
10. **8**