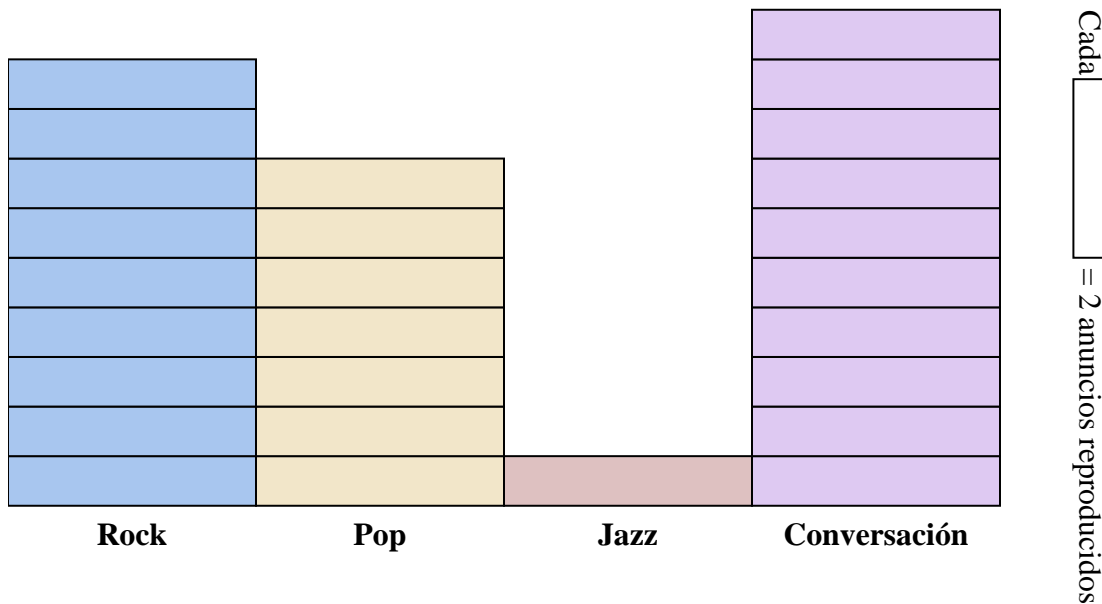




Resuelve cada problema.



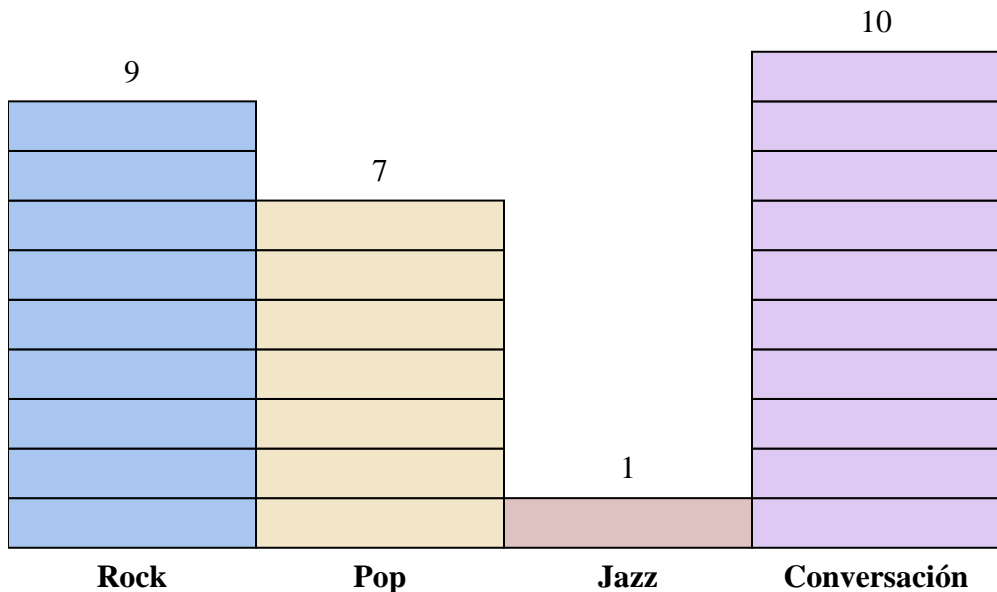
Respuestas

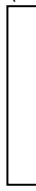
1. _____
2. _____
3. _____
4. _____
5. _____
6. _____
7. _____
8. _____
9. _____
10. _____

- 1) ¿Cuántos anuncios más tenía la estación Conversación que la estación Jazz?
- 2) ¿Qué estación tenía la mayoría de los anuncios?
- 3) ¿Qué estación tenía la menor cantidad de anuncios?
- 4) ¿Cuál es el número total de anuncios en todas las estaciones?
- 5) Hubo un menor número de anuncios en la estación Rock o la estación Pop?
- 6) ¿Hubo más anuncios en la estación Pop o la estación Jazz?
- 7) ¿Qué estación tenía exactamente 18 anuncios?
- 8) ¿Cuántos anuncios estaban en la estación Jazz?
- 9) ¿Cuál es el número total de anuncios en la estación Rock y la estación Jazz?
- 10) ¿Cuál es la diferencia en el número de anuncios en la estación Pop y en la estación Conversación?



Resuelve cada problema.



Cada  = 2 anuncios reproducidos

Respuestas

1. **18**
2. **Conversación**
3. **Jazz**
4. **54**
5. **Pop**
6. **Pop**
7. **Rock**
8. **2**
9. **20**
10. **6**

- 1) ¿Cuántos anuncios más tenía la estación Conversación que la estación Jazz?
- 2) ¿Qué estación tenía la mayoría de los anuncios?
- 3) ¿Qué estación tenía la menor cantidad de anuncios?
- 4) ¿Cuál es el número total de anuncios en todas las estaciones?
- 5) Hubo un menor número de anuncios en la estación Rock o la estación Pop?
- 6) ¿Hubo más anuncios en la estación Pop o la estación Jazz?
- 7) ¿Qué estación tenía exactamente 18 anuncios?
- 8) ¿Cuántos anuncios estaban en la estación Jazz?
- 9) ¿Cuál es el número total de anuncios en la estación Rock y la estación Jazz?
- 10) ¿Cuál es la diferencia en el número de anuncios en la estación Pop y en la estación Conversación?